

## Question Paper Preview

### Notations :

- Options shown in green color and with ✓ icon are correct.
- Options shown in red color and with ✗ icon are incorrect.

Question Paper Name:	TGT SOCIAL SCIENCE FEMALE 15th Oct 2018 Shift 2
Subject Name:	TGT SOCIAL SCIENCE FEMALE
Creation Date:	2018-10-15 15:59:49
Duration:	120
Total Marks:	200
Display Marks:	Yes
Share Answer Key With Delivery Engine:	Yes
Actual Answer Key:	Yes
Calculator:	None
Magnifying Glass Required?:	No
Ruler Required?:	No
Eraser Required?:	No
Scratch Pad Required?:	No
Rough Sketch/Notepad Required?:	No
Protractor Required?:	No
Show Watermark on Console?:	No
Highlighter:	No
Auto Save on Console?:	No

### Mental Ability

Group Number :	1
Group Id :	167943714
Group Maximum Duration :	0
Group Minimum Duration :	0
Revisit allowed for view? :	No
Revisit allowed for edit? :	No
Break time:	0
Group Marks:	20
Revisit allowed for group Instructions? :	Yes
Maximum Instruction Time:	0
Minimum Instruction Time:	0

### Mental Ability

Section Id :	167943779
Section Number :	1
Section type :	Online
Mandatory or Optional:	Mandatory
Number of Questions:	20
Number of Questions to be attempted:	20
Section Marks:	20

Display Number Panel:

Yes

Group All Questions:

No

Sub-Section Number:

1

Sub-Section Id:

1679431205

Question Shuffling Allowed :

Yes

Question Number : 1 Question Id : 16794318979 Question Type : MCQ Option Shuffling : Yes Display Question Number : Yes  
Single Line Question Option : No Option Orientation : Vertical

Correct Marks : 1 Wrong Marks : 0.25

Choose the odd pair from the four given below.

Options :

1. ✖ Sikkim : Gangtok
2. ✖ Meghalaya : Shillong
3. ✖ Maharashtra : Mumbai
4. ✔ West Bengal : Dhaka

Question Number : 1 Question Id : 16794318979 Question Type : MCQ Option Shuffling : Yes Display Question Number : Yes  
Single Line Question Option : No Option Orientation : Vertical

Correct Marks : 1 Wrong Marks : 0.25

चार दिए गए शब्द-युग्म के बीच विषम शब्द-युग्म का चयन करें।

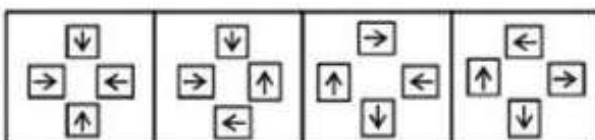
Options :

1. ✖ सिक्किम : गंगटोक
2. ✖ मेघालय : शिलाँग
3. ✖ महाराष्ट्र : मुंबई
4. ✔ पश्चिम बंगाल : ढाका

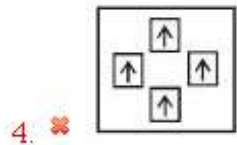
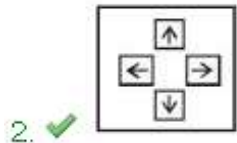
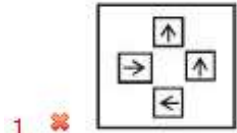
Question Number : 2 Question Id : 16794318980 Question Type : MCQ Option Shuffling : Yes Display Question Number : Yes  
Single Line Question Option : No Option Orientation : Vertical

Correct Marks : 1 Wrong Marks : 0.25

Identify the option figure that is similar to the figures given below.



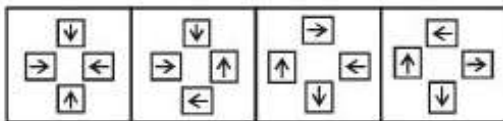
Options :



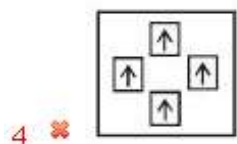
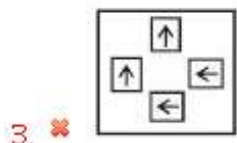
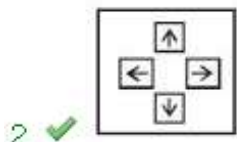
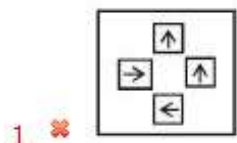
Question Number : 2 Question Id : 16794318980 Question Type : MCQ Option Shuffling : Yes Display Question Number : Yes  
Single Line Question Option : No Option Orientation : Vertical

Correct Marks : 1 Wrong Marks : 0.25

नीचे दी गई आकृति के समान विकल्प आकृति की पहचान करें।



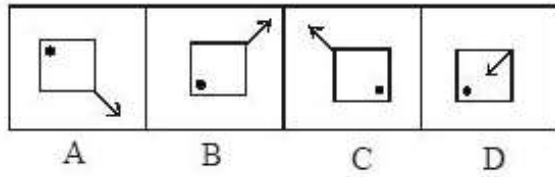
Options :



Question Number : 3 Question Id : 16794318981 Question Type : MCQ Option Shuffling : Yes Display Question Number : Yes  
Single Line Question Option : No Option Orientation : Vertical

Correct Marks : 1 Wrong Marks : 0.25

Given below are a few images. Identify the image that is odd among them.



Options :

1. ✖ A

2. ✖ B

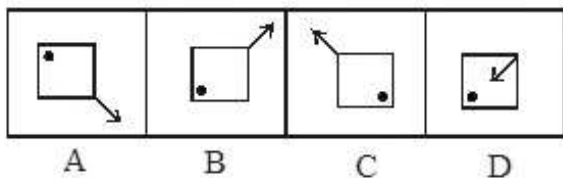
3. ✖ C

4. ✔ D

Question Number : 3 Question Id : 16794318981 Question Type : MCQ Option Shuffling : Yes Display Question Number : Yes  
Single Line Question Option : No Option Orientation : Vertical

Correct Marks : 1 Wrong Marks : 0.25

नीचे कुछ छवियां दी गई हैं। विकल्पों के बीच सबसे अलग छवि की पहचान करें।



Options :

1. ✖ A

2. ✖ B

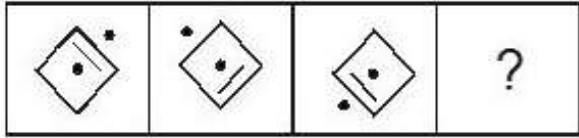
3. ✖ C

4. ✔ D

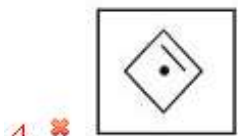
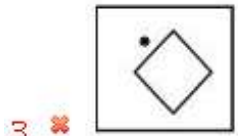
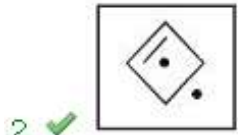
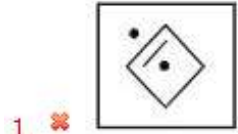
Question Number : 4 Question Id : 16794318982 Question Type : MCQ Option Shuffling : Yes Display Question Number : Yes  
Single Line Question Option : No Option Orientation : Vertical

Correct Marks : 1 Wrong Marks : 0.25

What will come in place of the? in the below series:



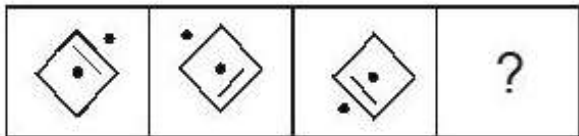
Options :



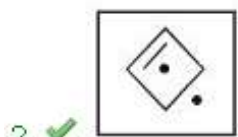
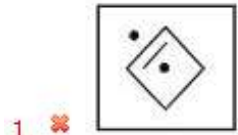
Question Number : 4 Question Id : 16794318982 Question Type : MCQ Option Shuffling : Yes Display Question Number : Yes  
Single Line Question Option : No Option Orientation : Vertical

Correct Marks : 1 Wrong Marks : 0.25

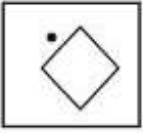
नीचे दी गई श्रृंखला में '?' की जगह कौन सी आकृति होगी?



Options :



3.



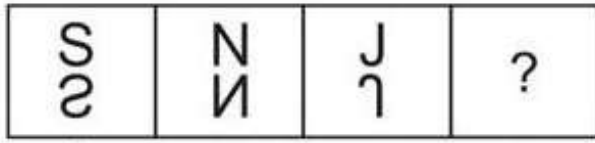
4.



Question Number : 5 Question Id : 16794318983 Question Type : MCQ Option Shuffling : Yes Display Question Number : Yes  
Single Line Question Option : No Option Orientation : Vertical

Correct Marks : 1 Wrong Marks : 0.25

What will come in place of the? in the below series:



A

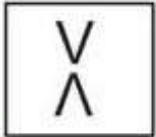
B

C


D

Options :

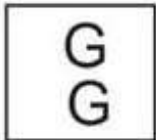
1.



2.



3.



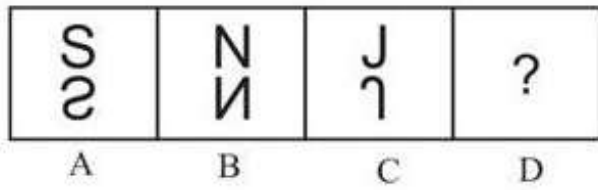
4.



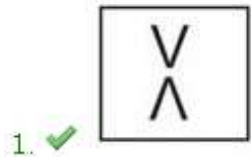
Question Number : 5 Question Id : 16794318983 Question Type : MCQ Option Shuffling : Yes Display Question Number : Yes  
Single Line Question Option : No Option Orientation : Vertical

Correct Marks : 1 Wrong Marks : 0.25

नीचे दी गई श्रृंखला में '?' की जगह कौन सी आकृति होगी?

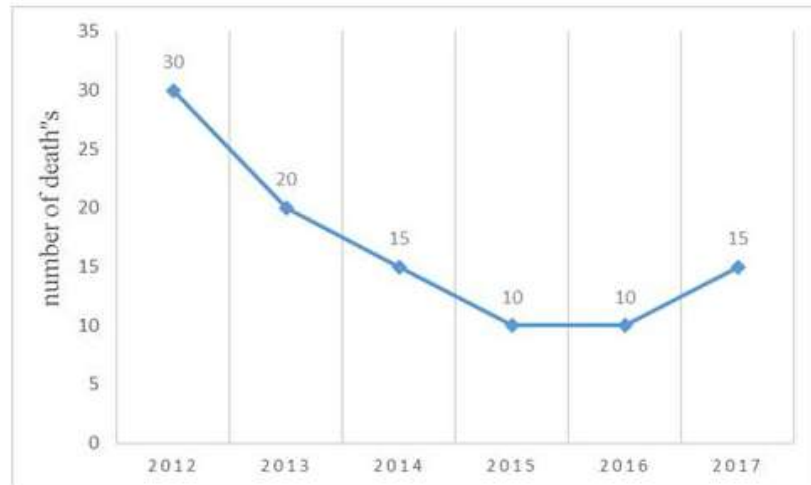


Options :



Question Number : 6 Question Id : 16794318984 Question Type : MCQ Option Shuffling : Yes Display Question Number : Yes  
 Single Line Question Option : No Option Orientation : Vertical  
 Correct Marks : 1 Wrong Marks : 0.25

The following graph shows information about the death rate because of dengue fever in a tribal village 'Z' for the past 6 years.



During which period does the dengue-related death rate appear to have gone down in village 'Z'?

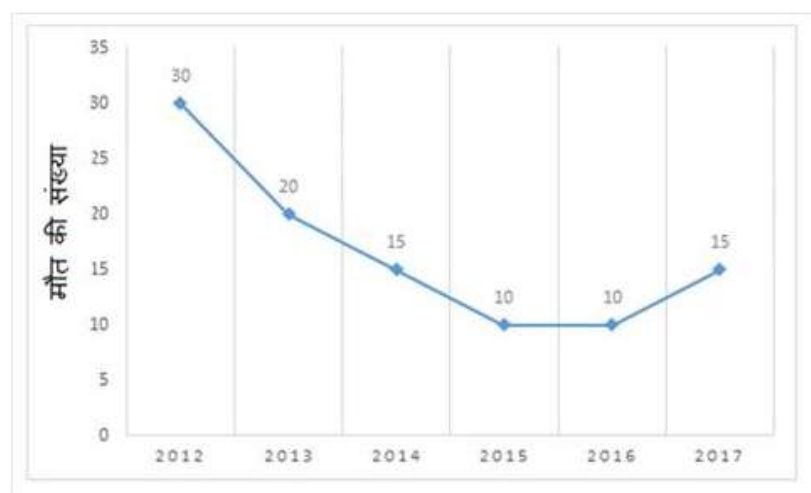
Options :

1. ✓ 2012-2014
2. ✗ 2015-2016
3. ✗ 2016-2017
4. ✗ 2014-2017

Question Number : 6 Question Id : 16794318984 Question Type : MCQ Option Shuffling : Yes Display Question Number : Yes  
Single Line Question Option : No Option Orientation : Vertical

Correct Marks : 1 Wrong Marks : 0.25

निम्नलिखित ग्राफ में पिछले 6 वर्षों से जनजातीय गांव Z में डेंगू बुखार की वजह से मृत्यु दर के बारे में जानकारी दी गई है।



किस अवधि के दौरान गाँव Z में डेंगू-संबंधित मृत्यु दर कम हो गई है?

Options :



1. ✓ 2012-2014

2. ✗ 2015-2016

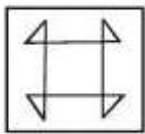
3. ✗ 2016-2017

4. ✗ 2014-2017

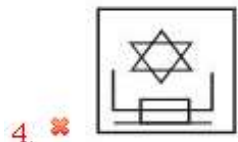
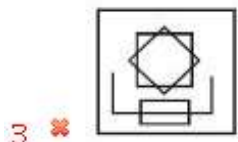
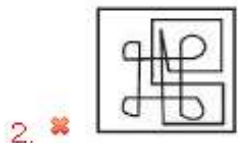
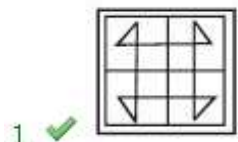
Question Number : 7 Question Id : 16794318985 Question Type : MCQ Option Shuffling : Yes Display Question Number : Yes  
Single Line Question Option : No Option Orientation : Vertical

Correct Marks : 1 Wrong Marks : 0.25

Identify the option figure that has the below figure embedded as part of it.



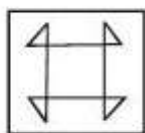
Options :



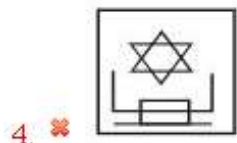
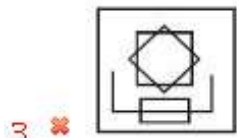
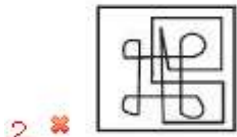
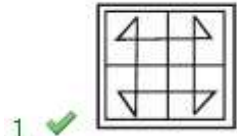
Question Number : 7 Question Id : 16794318985 Question Type : MCQ Option Shuffling : Yes Display Question Number : Yes  
Single Line Question Option : No Option Orientation : Vertical

Correct Marks : 1 Wrong Marks : 0.25

आकृति में विकल्प आकृति को चिन्हित करें जिसे नीचे दी गई आकृति में सन्निहत किया गया है।



Options :



Question Number : 8 Question Id : 16794318986 Question Type : MCQ Option Shuffling : Yes Display Question Number : Yes  
Single Line Question Option : No Option Orientation : Vertical

Correct Marks : 1 Wrong Marks : 0.25

Study the following information carefully and answer the given questions.

For a recruitment process in an accounting organisation, the candidates need to possess the following qualifications criteria:

- i) A graduate in commerce with at least 60% marks.
- ii) An age of at least 24 years and not more than 40 years as on 1-7-2016.
- iii) The candidates should have a post-qualification work experience of at least 2 years.
- iv) They should have secured 55% marks in the selection process.

However, if the candidate fulfils the above-mentioned criteria except:


(A) at (i), and if the candidate is not a graduate in commerce but has a post-graduation degree in finance with minimum of 60% marks, he/she should be referred to the Finance Manager of the organisation.


(B) at (iii), and if the candidate fulfils all the eligibility criteria of post-qualification work experience, but has secured 75% marks in the selection process, he/she may be referred to the Trainee Accountant.

Based on the above information study carefully whether following candidates are eligible for the recruitment process and mark your answer as follows. You are not to assume anything other than the information provided in each question. All the cases are given to you as on 1-7-2016

Praveen Kumar has completed graduation and post-graduation in commerce, and has secured 51% and 68% mark respectively. His date of birth is 26.11.1990. He has been working as an executive in a reputed firm for 2 years. He secured 54% marks in the selection process.

Options :

1.  He should be selected

2.  He should not be selected

3. ✖ He should be referred to the Finance Manager

4. ✖ He should be referred to the Trainee Accountant

Question Number : 8 Question Id : 16794318986 Question Type : MCQ Option Shuffling : Yes Display Question Number : Yes  
Single Line Question Option : No Option Orientation : Vertical  
Correct Marks : 1 Wrong Marks : 0.25

नीचे दी गई जानकारी को ध्यानपूर्वक पढ़ें और दिए गए प्रश्नों का उत्तर दें।

एक लेखा संगठन में भर्ती प्रक्रिया के लिए, उम्मीदवारों के लिए निम्नलिखित योग्यता मानदंड की आवश्यकता है:

- i) न्यूनतम 60% अंकों के साथ वाणिज्य में स्नातक।
- ii) 1-7-2016 को उम्र कम से कम 24 साल और 40 साल से अधिक नहीं।
- iii) उम्मीदवारों को शिक्षा के बाद कम से कम 2 वर्ष का कार्य अनुभव होना चाहिए।
- iv) उन्हें चयन प्रक्रिया में 55% अंक प्राप्त करना चाहिए था।

हालांकि, यदि उम्मीदवार उपर्युक्त मानदंडों को पूरा करता है तो इसे छोड़कर:

- (A) (i) के मामले में यदि उम्मीदवार वाणिज्य में स्नातक नहीं है लेकिन उसके पास वित्त में 60% अंक के साथ स्नातकोत्तर की डिग्री है, उसे संस्थान के वित्त प्रबंधन से संपर्क करना चाहिए।
- (B) (iii) के मामले में यदि उम्मीदवार शिक्षा के कार्य अनुभव के पात्रता मापदंड को पूरा करता है, इतना ही नहीं वह चयन प्रक्रिया में 75% अंक अर्जित करता है, तो उसे प्रशिक्षु अकाउंटेंट के लिए संदर्भित किया जा सकता है।

उपरोक्त सूचना के आधार पर ध्यानपूर्वक देखे के निम्नलिखित उम्मीदवार चयन प्रक्रिया में पात्र हैं और अपने उत्तर नीचे अंकित करें। आपको नीचे हर प्रश्न दी गई सूचना के अलावा कुछ और नहीं सोचना है। आपको दिए गए सभी मामले 1-7-2016 के हैं।

प्रवीण कुमार ने वाणिज्य में स्नातक और स्नातकोत्तर के किया है और क्रमशः 51% और 68% अंक अर्जित किया है। उसका जन्मदिन 26.11.1990 है। वह एक प्रतिष्ठित फर्म में 2 वर्ष तक एक एक्जीक्यूटिव के रूप में काम कर रहा है। उसने चयन प्रक्रिया में 54% अंक हासिल अर्जित किए हैं।

Options :

1. ✖ चयन होना चाहिए।
2. ✔ चयन नहीं होना चाहिए।
3. ✖ वित्त प्रबंधक संदर्भित किया जा सकता है।
4. ✖ प्रशिक्षु अकाउंटेंट संदर्भित किया जा सकता है।

Question Number : 9 Question Id : 16794318987 Question Type : MCQ Option Shuffling : Yes Display Question Number : Yes  
Single Line Question Option : No Option Orientation : Vertical

Correct Marks : 1 Wrong Marks : 0.25

You are travelling in city local bus. The bus reaches destination stop but you have yet not purchased the ticket because of heavy rush and conductor is busy in issuing tickets to other passengers in the bus. What should be your logical step?

Options :

1. ✖ Jump out of the bus quickly
2. ✖ Give the ticket money to the driver
3. ✖ Shout at the conductor for not issuing the ticket
4. ✔ Call the conductor, give him the money and get the ticket

Question Number : 9 Question Id : 16794318987 Question Type : MCQ Option Shuffling : Yes Display Question Number : Yes  
Single Line Question Option : No Option Orientation : Vertical

Correct Marks : 1 Wrong Marks : 0.25

आप शहर में स्थानीय बस में यात्रा कर रहे हैं। बस गंतव्य स्थल तक पहुंच जाती है, लेकिन फिर भी आपने टिकट नहीं खरीदा क्योंकि भारी भीड़ और कंडक्टर बस में अन्य यात्रियों को टिकट देने में व्यस्त था। आपका तार्किक कदम क्या होना चाहिए?

Options :

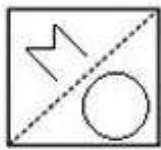
1. ✖ जल्दी से बस से बाहर निकलें।
2. ✖ ड्राइवर को टिकट के पैसे दे दें।
3. ✖ टिकट नहीं देने के लिए कंडक्टर पर चिल्लाएं।
4. ✔ कंडक्टर को बुलाएं, उसे पैसे दें और टिकट प्राप्त करें।




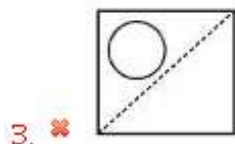
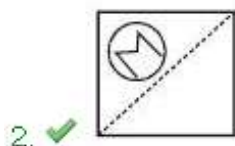
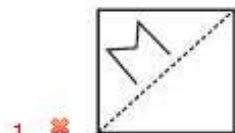
Question Number : 10 Question Id : 16794318988 Question Type : MCQ Option Shuffling : Yes Display Question Number : Yes  
Single Line Question Option : No Option Orientation : Vertical

Correct Marks : 1 Wrong Marks : 0.25

If the transparent paper is folded at the dotted line, what will be the resulting figure?



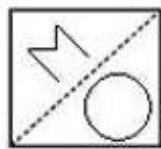
Options :



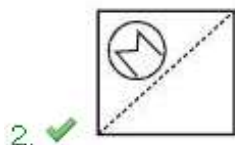

Question Number : 10 Question Id : 16794318988 Question Type : MCQ Option Shuffling : Yes Display Question Number : Yes  
Single Line Question Option : No Option Orientation : Vertical


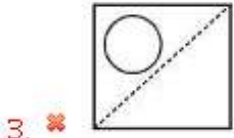
Correct Marks : 1 Wrong Marks : 0.25

यदि पारदर्शी कागज बिंदीदार रेखा पर मोड़ दिया जाता है, तो परिणाम आकृति क्या होगी?



Options :





Question Number : 11 Question Id : 16794318989 Question Type : MCQ Option Shuffling : Yes Display Question Number : Yes  
Single Line Question Option : No Option Orientation : Vertical

Correct Marks : 1 Wrong Marks : 0.25

Identify the most appropriate option.

A mobile phone must have:

Options :

1. ✔ calling facility
2. ✖ games
3. ✖ touchscreen
4. ✖ banking apps

Question Number : 11 Question Id : 16794318989 Question Type : MCQ Option Shuffling : Yes Display Question Number : Yes  
Single Line Question Option : No Option Orientation : Vertical

Correct Marks : 1 Wrong Marks : 0.25

सबसे उपयुक्त विकल्प की पहचान करें।

एक मोबाइल फोन में क्या होना चाहिए?

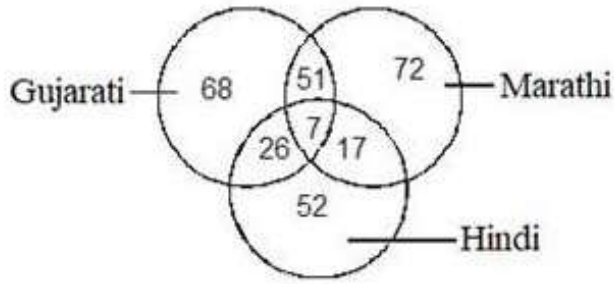
Options :

1. ✔ फोन करने की सुविधा
2. ✖ खेल
3. ✖ टच स्क्रीन
4. ✖ बैंकिंग ऐप्स

Question Number : 12 Question Id : 16794318990 Question Type : MCQ Option Shuffling : Yes Display Question Number : Yes  
Single Line Question Option : No Option Orientation : Vertical

Correct Marks : 1 Wrong Marks : 0.25

Study the following Venn diagram carefully and answer the question.



How many persons speak only Hindi?

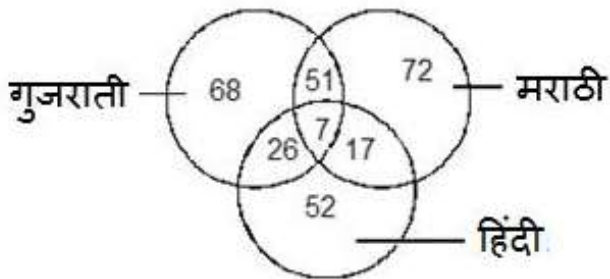
Options :

1. ✖ 152
2. ✖ 92
3. ✔ 52
4. ✖ 59

Question Number : 12 Question Id : 16794318990 Question Type : MCQ Option Shuffling : Yes Display Question Number : Yes Single Line Question Option : No Option Orientation : Vertical

Correct Marks : 1 Wrong Marks : 0.25

निम्नलिखित वेन आरेख ध्यानपूर्वक अध्ययन करें और प्रश्न का उत्तर दें।



कितने लोग केवल हिंदी बोलते हैं?

Options :

1. ✖ 152
2. ✖ 92
3. ✔ 52
4. ✖ 59



Question Number : 13 Question Id : 16794318991 Question Type : MCQ Option Shuffling : Yes Display Question Number : Yes  
Single Line Question Option : No Option Orientation : Vertical

Correct Marks : 1 Wrong Marks : 0.25

Sharada points to man saying, "He is my father's son's son". How is he related to Sharada?

Options :

1. ✖ Father
2. ✔ Nephew
3. ✖ Uncle
4. ✖ Brother

Question Number : 13 Question Id : 16794318991 Question Type : MCQ Option Shuffling : Yes Display Question Number : Yes  
Single Line Question Option : No Option Orientation : Vertical

Correct Marks : 1 Wrong Marks : 0.25

शारदा ने एक व्यक्ति की ओर इशारा करते हुए कहा, "वह मेरे पिता के बेटे का बेटा है"। वह शारदा से कैसे संबंधित है?

Options :

1. ✖ पिता
2. ✔ भतीजा
3. ✖ चाचा
4. ✖ भाई

Question Number : 14 Question Id : 16794318992 Question Type : MCQ Option Shuffling : Yes Display Question Number : Yes  
Single Line Question Option : No Option Orientation : Vertical

Correct Marks : 1 Wrong Marks : 0.25

If ' $<$ ' means  $-$ , ' $>$ ' means  $+$ , ' $=$ ' means  $\times$ , and ' $\div$ ' means  $\div$  then what would be the value of  $13 > 50 \div 5 < 4$ ?

Options :

1. ✖ 12
2. ✖ 32
3. ✖ 20
4. ✔ 19

Question Number : 14 Question Id : 16794318992 Question Type : MCQ Option Shuffling : Yes Display Question Number : Yes  
Single Line Question Option : No Option Orientation : Vertical

Correct Marks : 1 Wrong Marks : 0.25

यदि ' $<$ ' का अर्थ  $-$ , ' $>$ ' का अर्थ  $+$ , ' $=$ ' का अर्थ ' $\times$ ', और ' $\$$ ' का अर्थ ' $\div$ ' तो  $13 > 50 \$ 5 < 4$  का मान कितना होगा?

Options :

- 1. ✖ 12
- 2. ✖ 32
- 3. ✖ 20
- 4. ✔ 19

Question Number : 15 Question Id : 16794318993 Question Type : MCQ Option Shuffling : Yes Display Question Number : Yes  
Single Line Question Option : No Option Orientation : Vertical

Correct Marks : 1 Wrong Marks : 0.25

There are some benches in a classroom. If 3 students sit on each bench, then 2 benches are left unoccupied. However, if 2 students sit on each bench, 4 students are left standing. How many students are there in the class?

Options :

- 1. ✖ 33
- 2. ✖ 29
- 3. ✔ 24
- 4. ✖ 36

Question Number : 15 Question Id : 16794318993 Question Type : MCQ Option Shuffling : Yes Display Question Number : Yes  
Single Line Question Option : No Option Orientation : Vertical

Correct Marks : 1 Wrong Marks : 0.25

कक्षा में कुछ बेंच हैं। यदि 3 छात्र प्रत्येक बेंच पर बैठते हैं, तो 2 बेंच खाली रह जाते हैं। हालांकि, यदि 2 छात्र प्रत्येक बेंच पर बैठते हैं, तो 4 छात्र खड़े रह जाते हैं। कक्षा में कितने छात्र हैं?

Options :

- 1. ✖ 33
- 2. ✖ 29
- 3. ✔ 24
- 4. ✖ 36

Question Number : 16 Question Id : 16794318994 Question Type : MCQ Option Shuffling : Yes Display Question Number : Yes  
Single Line Question Option : No Option Orientation : Vertical

Correct Marks : 1 Wrong Marks : 0.25

The average age of a father and son is 21 years. If the father's age is 32 years, then what will be the age of his son after 5 years?

Options :

1. ✖ 6 years
2. ✖ 10 years
3. ✔ 15 years
4. ✖ 20 years

Question Number : 16 Question Id : 16794318994 Question Type : MCQ Option Shuffling : Yes Display Question Number : Yes  
Single Line Question Option : No Option Orientation : Vertical

Correct Marks : 1 Wrong Marks : 0.25

पिता और पुत्र की औसत आयु 21 वर्ष है। अगर पिता की आयु 32 साल है, तो 5 साल बाद उसके बेटे की आयु क्या होगी?

Options :

1. ✖ 6 साल
2. ✖ 10 साल
3. ✔ 15 साल
4. ✖ 20 साल

Question Number : 17 Question Id : 16794318995 Question Type : MCQ Option Shuffling : Yes Display Question Number : Yes  
Single Line Question Option : No Option Orientation : Vertical

Correct Marks : 1 Wrong Marks : 0.25

One pair of words shares different relationship as compared to the rest of the pairs. Find that odd pair out.

Options :

1. ✖ Bicycle : Pedal
2. ✖ Car : Steering
3. ✔ Pencil : Eraser
4. ✖ Aeroplane : Cockpit

Question Number : 17 Question Id : 16794318995 Question Type : MCQ Option Shuffling : Yes Display Question Number : Yes  
Single Line Question Option : No Option Orientation : Vertical

Correct Marks : 1 Wrong Marks : 0.25

उस विषम-युग्म को चुनें जिसमें शब्द अन्य युग्म की तुलना में अलग-अलग संबंधित हैं।

Options :

1. ✖ साइकिल : पेडल
2. ✖ कार : स्टेयरिंग
3. ✔ पेंसिल : इरेजर
4. ✖ विमान : कॉकपिट

Question Number : 18 Question Id : 16794318996 Question Type : MCQ Option Shuffling : Yes Display Question Number : Yes  
Single Line Question Option : No Option Orientation : Vertical

Correct Marks : 1 Wrong Marks : 0.25

Identify the odd pair of numbers that is different from the rest.

Options :

1. ✖ 16 : 20 : 18
2. ✖ 9 : 15 : 12
3. ✖ 8 : 24 : 16
4. ✔ 6 : 12 : 15

Question Number : 18 Question Id : 16794318996 Question Type : MCQ Option Shuffling : Yes Display Question Number : Yes  
Single Line Question Option : No Option Orientation : Vertical

Correct Marks : 1 Wrong Marks : 0.25

उस विषम-युग्म श्रृंखला की पहचान करें, जो बाकी से अलग है।

Options :

1. ✖ 16 : 20 : 18
2. ✖ 9 : 15 : 12
3. ✖ 8 : 24 : 16
4. ✔ 6 : 12 : 15

Question Number : 19 Question Id : 16794318997 Question Type : MCQ Option Shuffling : Yes Display Question Number : Yes  
Single Line Question Option : No Option Orientation : Vertical

Correct Marks : 1 Wrong Marks : 0.25

What would be the next number in the below series?

3, 7, 16, 32, 57, 93, ?

Options :

1. ✓ 142

2. ✗ 150

3. ✗ 157

4. ✗ 148

Question Number : 19 Question Id : 16794318997 Question Type : MCQ Option Shuffling : Yes Display Question Number : Yes  
Single Line Question Option : No Option Orientation : Vertical  
Correct Marks : 1 Wrong Marks : 0.25

नीचे दी गई श्रृंखला में अगली संख्या क्या होगी?

3, 7, 16, 32, 57, 93, ?

Options :

1. ✓ 142

2. ✗ 150

3. ✗ 157

4. ✗ 148

Question Number : 20 Question Id : 16794318998 Question Type : MCQ Option Shuffling : Yes Display Question Number : Yes  
Single Line Question Option : No Option Orientation : Vertical  
Correct Marks : 1 Wrong Marks : 0.25

What would come in the place of question mark in the below series?

J, O, T, Y, D, ?, N

Options :

1. ✗ K

2. ✓ I

3. ✗ M

4. ✗ L

Question Number : 20 Question Id : 16794318998 Question Type : MCQ Option Shuffling : Yes Display Question Number : Yes  
Single Line Question Option : No Option Orientation : Vertical  
Correct Marks : 1 Wrong Marks : 0.25

नीचे श्रृंखला में प्रश्न चिह्न के स्थान पर कौन सा अक्षर आएगा?

J, O, T, Y, D, ?, N

Options :

1. ✖ K

2. ✔ I

3. ✖ M

4. ✖ L

#### General Awareness

Group Number :	2
Group Id :	167943715
Group Maximum Duration :	0
Group Minimum Duration :	0
Revisit allowed for view? :	No
Revisit allowed for edit? :	No
Break time:	0
Group Marks:	20
Revisit allowed for group Instructions? :	Yes
Maximum Instruction Time:	0
Minimum Instruction Time:	0

#### General Awareness

Section Id :	167943780
Section Number :	1
Section type :	Online
Mandatory or Optional:	Mandatory
Number of Questions:	20
Number of Questions to be attempted:	20
Section Marks:	20
Display Number Panel:	Yes
Group All Questions:	No

Sub-Section Number:	1
Sub-Section Id:	1679431206
Question Shuffling Allowed :	Yes

Question Number : 21 Question Id : 16794318999 Question Type : MCQ Option Shuffling : Yes Display Question Number : Yes  
Single Line Question Option : No Option Orientation : Vertical  
Correct Marks : 1 Wrong Marks : 0.25



Which of the following statements is NOT true with reference to Mahmud of Ghazni who invaded India?

Options :

1. ✓ He was an Iranian invader
2. ✗ He was believed to have invaded India as many as 17 times
3. ✗ Rajput kingdoms were battered by his invasions
4. ✗ He carried away a lot of wealth from India

Question Number : 21 Question Id : 16794318999 Question Type : MCQ Option Shuffling : Yes Display Question Number : Yes  
Single Line Question Option : No Option Orientation : Vertical

Correct Marks : 1 Wrong Marks : 0.25

महमूद गज़नवी, जिसने भारत पर हमला किया, के संदर्भ में निम्नलिखित में से कौन सा कथन सत्य नहीं है?

Options :

1. ✓ वे एक ईरानी हमलावर थे।
2. ✗ माना जाता है कि उन्होंने भारत पर 17 बार आक्रमण किया।
3. ✗ उनके हमलों के कारण अनेक राजपूत साम्राज्य ध्वस्त हुए।
4. ✗ उन्होंने भारत से बहुत सारा धन लूटा।

Question Number : 22 Question Id : 16794319000 Question Type : MCQ Option Shuffling : Yes Display Question Number : Yes  
Single Line Question Option : No Option Orientation : Vertical

Correct Marks : 1 Wrong Marks : 0.25

Match the following South Indian dynasties with the respective famous places related to their kingdoms.

K. Pandyas	P. Halebidu
L. Hoysalas	Q. Madurai
M. Kakatiyas	R. Thanjavur
N. Cholas	S. Warangal

Options :

1. ✓ L-P, K-Q, M-S, N-R
2. ✗ M-S, K-R, L-P, N-Q
3. ✗ N-R, K-Q, L-S, M-P

4. ✖ K-R, L-S, M-P, N-Q

Question Number : 22 Question Id : 16794319000 Question Type : MCQ Option Shuffling : Yes Display Question Number : Yes  
Single Line Question Option : No Option Orientation : Vertical

Correct Marks : 1 Wrong Marks : 0.25

अपने साम्राज्यों से संबंधित प्रसिद्ध स्थानों के साथ निम्नलिखित दक्षिण भारतीय राजवंशों को मेल कराएं।

K. पण्ड्या	P. हलेबिद
L. होयसला	Q. मदुरै
M. ककातिया	R. तंजावुर
N. चोल	S. वारंगल

Options :

1. ✔ L-P, K-Q, M-S, N-R

2. ✖ M-S, K-R, L-P, N-Q

3. ✖ N-R, K-Q, L-S, M-P

4. ✖ K-R, L-S, M-P, N-Q

Question Number : 23 Question Id : 16794319001 Question Type : MCQ Option Shuffling : Yes Display Question Number : Yes  
Single Line Question Option : No Option Orientation : Vertical

Correct Marks : 1 Wrong Marks : 0.25

Who among the following served as both, Vice President and President of India?

Options :

1. ✔ KR Narayanan

2. ✖ GS Pathak

3. ✖ Krishan Kant

4. ✖ BS Shekhawat

Question Number : 23 Question Id : 16794319001 Question Type : MCQ Option Shuffling : Yes Display Question Number : Yes  
Single Line Question Option : No Option Orientation : Vertical

Correct Marks : 1 Wrong Marks : 0.25

निम्नलिखित में से किसने भारत के उपराष्ट्रपति और राष्ट्रपति दोनों के रूप में कार्य किया?

Options :

1. ✔ के. आर. नारायणन



2. ✖ जी.एस. पाठक
3. ✖ कृष्णकांत
4. ✖ बी. एस. शेखावत

Question Number : 24 Question Id : 16794319002 Question Type : MCQ Option Shuffling : Yes Display Question Number : Yes  
Single Line Question Option : No Option Orientation : Vertical

Correct Marks : 1 Wrong Marks : 0.25

Fill in the blank space with the most appropriate option.

\_\_\_\_\_ was holding the portfolio of River Development and Ganga Rejuvenation in the Union Cabinet as on 1<sup>st</sup> September 2018.

Options :

1. ✔ Nitin Jairam Gadkari
2. ✖ Uma Bharati
3. ✖ Radha Mohan Singh
4. ✖ Maneka Sanjay Gandhi

Question Number : 24 Question Id : 16794319002 Question Type : MCQ Option Shuffling : Yes Display Question Number : Yes  
Single Line Question Option : No Option Orientation : Vertical

Correct Marks : 1 Wrong Marks : 0.25

उचित विकल्प चुनकर रिक्त स्थान की पूर्ति करें।

\_\_\_\_\_ 1 सितम्बर 2018 को नदी विकास और गंगा संरक्षण मंत्रालय में केन्द्रीय मंत्री के पर पर थे/थीं।

Options :

1. ✔ नितिन जयराम गडकरी
2. ✖ उमा भारती
3. ✖ राधा मोहन सिंह
4. ✖ मेनका संजय गाँधी

Question Number : 25 Question Id : 16794319003 Question Type : MCQ Option Shuffling : Yes Display Question Number : Yes  
Single Line Question Option : No Option Orientation : Vertical

Correct Marks : 1 Wrong Marks : 0.25

Arrange the following ranks in the Indian Army in the ascending hierarchical order.

1. Lieutenant General, 2. Colonel, 3. Major General, 4. Brigadier, 5. General

Options :

1. ✓ 2-4-3-1-5

2. ✗ 3-1-5-2-4

3. ✗ 3-1-5-4-2

4. ✗ 4-2-3-1-5

Question Number : 25 Question Id : 16794319003 Question Type : MCQ Option Shuffling : Yes Display Question Number : Yes  
Single Line Question Option : No Option Orientation : Vertical

Correct Marks : 1 Wrong Marks : 0.25

निम्नलिखित को भारतीय सेना के रैंक के पदों के अनुसार बढ़ते हुए क्रम में सजाएं।

1. लेफ्टिनेंट जनरल, 2. कर्नल, 3. मेजर जनरल, 4. ब्रिगेडियर, 5. जनरल

Options :

1. ✓ 2-4-3-1-5

2. ✗ 3-1-5-2-4

3. ✗ 3-1-5-4-2

4. ✗ 4-2-3-1-5

Question Number : 26 Question Id : 16794319004 Question Type : MCQ Option Shuffling : Yes Display Question Number : Yes  
Single Line Question Option : No Option Orientation : Vertical

Correct Marks : 1 Wrong Marks : 0.25

The Armed Forces (Special Powers) Act was withdrawn from all areas of \_\_\_\_\_ from 01 April, 2018.

Options :

1. ✓ Meghalaya

2. ✗ Arunachal Pradesh

3. ✗ Nagaland

4. ✗ Tripura

Question Number : 26 Question Id : 16794319004 Question Type : MCQ Option Shuffling : Yes Display Question Number : Yes  
Single Line Question Option : No Option Orientation : Vertical

Correct Marks : 1 Wrong Marks : 0.25

सशस्त्र बल (विशेष अधिकार) अधिनियम, 1 अप्रैल 2018 को \_\_\_\_\_ के सभी क्षेत्रों से हटा लिया गया था।

Options :

1. ☒ मेघालय
2. ☐ अरुणाचल प्रदेश
3. ☐ नागालैंड
4. ☐ त्रिपुरा

Question Number : 27 Question Id : 16794319005 Question Type : MCQ Option Shuffling : Yes Display Question Number : Yes  
Single Line Question Option : No Option Orientation : Vertical

Correct Marks : 1 Wrong Marks : 0.25

Who among the following is a leading sportsperson in the game of 'Shooting'?

Options :

1. ☒ Saurabh Chaudhary
2. ☐ Tajinderpal Singh Toor
3. ☐ Arpinder Singh
4. ☐ Neeraj Chopra

Question Number : 27 Question Id : 16794319005 Question Type : MCQ Option Shuffling : Yes Display Question Number : Yes  
Single Line Question Option : No Option Orientation : Vertical

Correct Marks : 1 Wrong Marks : 0.25

निम्नलिखित में से कौन 'शूटिंग' के खेल में एक अग्रणी खिलाड़ी है?

Options :

1. ☒ सौरभ चौधरी
2. ☐ ताजिंदरपाल सिंह तूर
3. ☐ अर्पिन्दर सिंह
4. ☐ नीरज चोपड़ा

Question Number : 28 Question Id : 16794319006 Question Type : MCQ Option Shuffling : Yes Display Question Number : Yes  
Single Line Question Option : No Option Orientation : Vertical

Correct Marks : 1 Wrong Marks : 0.25

Who won the 'Player of the Tournament' in the ACC Women's Asia Cup 2018 cricket tournament?

Options :

1. ✓ Harmanpreet Kaur
2. ✗ Salma Khatun
3. ✗ Rumana Ahmed
4. ✗ Mithali Raj

Question Number : 28 Question Id : 16794319006 Question Type : MCQ Option Shuffling : Yes Display Question Number : Yes  
Single Line Question Option : No Option Orientation : Vertical

Correct Marks : 1 Wrong Marks : 0.25

एसीसी महिला एशिया कप 2018 क्रिकेट टूर्नामेंट में 'प्लेयर ऑफ द टूर्नामेंट' किसने जीता?

Options :

1. ✓ हरमनप्रीत कौर
2. ✗ सलमा खातून
3. ✗ रूमाना अहमद
4. ✗ मिताली राज

Question Number : 29 Question Id : 16794319007 Question Type : MCQ Option Shuffling : Yes Display Question Number : Yes  
Single Line Question Option : No Option Orientation : Vertical

Correct Marks : 1 Wrong Marks : 0.25

Fill in the blank space with the most appropriate option.

\_\_\_\_\_ founded the Satyashodhak Samaj.

Options :

1. ✓ Jyotirao Phule
2. ✗ Pandita Ramabai
3. ✗ Ishwarchandra Vidyasagar
4. ✗ Swami Dayanand Saraswati

Question Number : 29 Question Id : 16794319007 Question Type : MCQ Option Shuffling : Yes Display Question Number : Yes  
Single Line Question Option : No Option Orientation : Vertical

Correct Marks : 1 Wrong Marks : 0.25

उचित विकल्प चुनकर रिक्त स्थान की पूर्ति करें।

\_\_\_\_\_ ने सत्यशोधक समाज की स्थापना की।

Options :

1. ☒ ज्योतिबा फूले
2. ☐ पंडिता रमाबाई
3. ☐ ईश्वरचंद्र विद्यासागर
4. ☐ स्वामी दयानन्द सरस्वती

Question Number : 30 Question Id : 16794319008 Question Type : MCQ Option Shuffling : Yes Display Question Number : Yes  
Single Line Question Option : No Option Orientation : Vertical

Correct Marks : 1 Wrong Marks : 0.25

Most of the rock paintings discovered in Bhimbetka (Madhya Pradesh) belonged to the \_\_\_\_\_.

Options :

1. ☒ Prehistoric period
2. ☐ Indus Valley Civilisation
3. ☐ Mauryan period
4. ☐ Post-Mauryan period

Question Number : 30 Question Id : 16794319008 Question Type : MCQ Option Shuffling : Yes Display Question Number : Yes  
Single Line Question Option : No Option Orientation : Vertical

Correct Marks : 1 Wrong Marks : 0.25

भीमबेटका (मध्य प्रदेश) में खोजे गए शैलचित्र \_\_\_\_\_ से संबंधित हैं।

Options :

1. ☒ प्रागैतिहासिक काल
2. ☐ सिंधु घाटी सभ्यता
3. ☐ मौर्य काल



#### 4. ✖ उत्तर मौर्य काल

Question Number : 31 Question Id : 16794319009 Question Type : MCQ Option Shuffling : Yes Display Question Number : Yes  
Single Line Question Option : No Option Orientation : Vertical  
Correct Marks : 1 Wrong Marks : 0.25

The 36<sup>th</sup> International Geological Congress (IGC) would be held in \_\_\_\_\_ in March, 2020.

Options :

1. ✔ India
2. ✖ Australia
3. ✖ France
4. ✖ Norway

Question Number : 31 Question Id : 16794319009 Question Type : MCQ Option Shuffling : Yes Display Question Number : Yes  
Single Line Question Option : No Option Orientation : Vertical  
Correct Marks : 1 Wrong Marks : 0.25

36वाँ अंतर्राष्ट्रीय भूवैज्ञानिक कांग्रेस (IGC) का आयोजन \_\_\_\_\_ में मार्च 2020 में किया जायेगा।

Options :

1. ✔ भारत
2. ✖ ऑस्ट्रेलिया
3. ✖ फ्रांस
4. ✖ नार्वे

Question Number : 32 Question Id : 16794319010 Question Type : MCQ Option Shuffling : Yes Display Question Number : Yes  
Single Line Question Option : No Option Orientation : Vertical  
Correct Marks : 1 Wrong Marks : 0.25

Which soil is generally considered to be infertile?

Options :

1. ✔ Saline soil
2. ✖ Peaty soil
3. ✖ Red and yellow soil
4. ✖ Black soil

Question Number : 32 Question Id : 16794319010 Question Type : MCQ Option Shuffling : Yes Display Question Number : Yes  
Single Line Question Option : No Option Orientation : Vertical  
Correct Marks : 1 Wrong Marks : 0.25

कौन सी मिट्टी को आम तौर पर उपजाऊ नहीं माना जाता है?

Options :

1. ☒ लवणीकृत मृदा
2. ☐ पीटी मिट्टी
3. ☐ लाल और पीली मिट्टी
4. ☐ काली मिट्टी

Question Number : 33 Question Id : 16794319011 Question Type : MCQ Option Shuffling : Yes Display Question Number : Yes  
Single Line Question Option : No Option Orientation : Vertical  
Correct Marks : 1 Wrong Marks : 0.25

Find the INCORRECT statement in regard to the Pradhan Mantri Awas Yojana - Housing for All (Urban).

Options :

1. ☒ Non-slum urban poor household are not covered
2. ☐ Total housing shortage is estimated at 20 million
3. ☐ The mission is being implemented during 2015-2022
4. ☐ Rehabilitation of existing slum dwellers is envisaged

Question Number : 33 Question Id : 16794319011 Question Type : MCQ Option Shuffling : Yes Display Question Number : Yes  
Single Line Question Option : No Option Orientation : Vertical  
Correct Marks : 1 Wrong Marks : 0.25

प्रधान मंत्री आवास योजना - सभी के लिए आवास (शहरी) के बारे में सही कथन का चुनाव करें।

Options :

1. ☒ गैर-झोपड़पट्टी शहरी गरीब परिवार शामिल नहीं हैं।
2. ☐ कुल आवास की कमी का अनुमान 20 मिलियन है
3. ☐ मिशन 2015-2022 के दौरान लागू किया जा रहा है।

4. ✖ मौजूदा झोपड़पट्टी के निवासियों के पुनर्वास की परिकल्पना की गई है।

Question Number : 34 Question Id : 16794319012 Question Type : MCQ Option Shuffling : Yes Display Question Number : Yes  
Single Line Question Option : No Option Orientation : Vertical

Correct Marks : 1 Wrong Marks : 0.25

Find the INCORRECT statement in regard to 'Direct Benefit Transfer (DBT)'.

DBT aims to \_\_\_\_\_.

Options :

1. ✔ slow down the flow of information/funds
2. ✖ reform the delivery system in Government welfare schemes
3. ✖ ensure reduction of fraud
4. ✖ ensure accurate targeting of beneficiaries

Question Number : 34 Question Id : 16794319012 Question Type : MCQ Option Shuffling : Yes Display Question Number : Yes  
Single Line Question Option : No Option Orientation : Vertical

Correct Marks : 1 Wrong Marks : 0.25

'प्रत्यक्ष लाभ हस्तांतरण (DBT)' के सन्दर्भ में गलत कथन का चुनाव करें।

DBT का उद्देश्य है:

Options :

1. ✔ सूचना / धन के प्रवाह को धीमा करना
2. ✖ सरकारी कल्याण योजनाओं में वितरण प्रणाली में सुधार
3. ✖ धोखाधड़ी में कमी सुनिश्चित करना
4. ✖ लाभार्थियों के सटीक लक्ष्यीकरण को सुनिश्चित करना

Question Number : 35 Question Id : 16794319013 Question Type : MCQ Option Shuffling : Yes Display Question Number : Yes  
Single Line Question Option : No Option Orientation : Vertical

Correct Marks : 1 Wrong Marks : 0.25

The cardiac cycle includes all of the events that take place during \_\_\_\_\_.

Options :

1. ✔ one heartbeat



2. ✖ two heartbeats
3. ✖ three heartbeats
4. ✖ four heartbeats

Question Number : 35 Question Id : 16794319013 Question Type : MCQ Option Shuffling : Yes Display Question Number : Yes  
Single Line Question Option : No Option Orientation : Vertical  
Correct Marks : 1 Wrong Marks : 0.25

कार्डियक चक्र में \_\_\_\_\_ के दौरान होने वाली सभी घटनाएं शामिल होती हैं।

Options :

1. ✔ एक धड़कन
2. ✖ दो धड़कनों
3. ✖ तीन धड़कनों
4. ✖ चार धड़कनों

Question Number : 36 Question Id : 16794319014 Question Type : MCQ Option Shuffling : Yes Display Question Number : Yes  
Single Line Question Option : No Option Orientation : Vertical  
Correct Marks : 1 Wrong Marks : 0.25

The naming of any new element suggested by the discoverer is to be ratified by \_\_\_\_\_.

Options :

1. ✔ International Union of Pure and Applied Chemistry (IUPAC)
2. ✖ International Council for Science (ICSU)
3. ✖ International Organisation for Chemical Sciences in Development
4. ✖ The Global Network of Science Academies

Question Number : 36 Question Id : 16794319014 Question Type : MCQ Option Shuffling : Yes Display Question Number : Yes  
Single Line Question Option : No Option Orientation : Vertical  
Correct Marks : 1 Wrong Marks : 0.25

खोजकर्ता द्वारा सुझाए गए किसी भी नए तत्व का नामकरण \_\_\_\_\_ द्वारा अनुमोदित किया जाना है।

Options :

1. ✔ इंटरनेशनल यूनियन ऑफ प्योर एंड एप्लाइड केमिस्ट्री (IUPAC)

2. ✖ इंटरनेशनल कौंसिल फॉर साइंस (ICSU)

3. ✖ इंटरनेशनल आर्गेनाइजेशन फॉर केमिकल साइंसेज इन डेवलपमेंट

4. ✖ द ग्लोबल नेटवर्क ऑफ साइंस अकेडमिज़

Question Number : 37 Question Id : 16794319015 Question Type : MCQ Option Shuffling : Yes Display Question Number : Yes  
Single Line Question Option : No Option Orientation : Vertical

Correct Marks : 1 Wrong Marks : 0.25

Fill in the blank space with the most appropriate option.

The \_\_\_\_\_ edition of the world's biggest open innovation model - the Smart India Hackathon 2019 was launched in August 2018 in New Delhi.

Options :

1. ✔ third

2. ✖ first

3. ✖ second

4. ✖ fourth

Question Number : 37 Question Id : 16794319015 Question Type : MCQ Option Shuffling : Yes Display Question Number : Yes  
Single Line Question Option : No Option Orientation : Vertical

Correct Marks : 1 Wrong Marks : 0.25

उचित विकल्प चुनकर रिक्त स्थान की पूर्ति करें।

विश्व के सबसे बड़े ओपन इनोवेशन मॉडल का \_\_\_\_\_ संस्करण - स्मार्ट इंडिया हैकथॉन 2019 अगस्त 2018 में नई दिल्ली में लॉन्च किया गया था।

Options :

1. ✔ तीसरा

2. ✖ पहला

3. ✖ दूसरा

4. ✖ चौथा

Question Number : 38 Question Id : 16794319016 Question Type : MCQ Option Shuffling : Yes Display Question Number : Yes  
Single Line Question Option : No Option Orientation : Vertical

Correct Marks : 1 Wrong Marks : 0.25

ISECG stands for 'International Space Exploration \_\_\_\_\_ Group'.

Options :

1. ☒ Coordination
2. ☐ Campaign
3. ☐ Consultant
4. ☐ Conductor

Question Number : 38 Question Id : 16794319016 Question Type : MCQ Option Shuffling : Yes Display Question Number : Yes  
Single Line Question Option : No Option Orientation : Vertical

Correct Marks : 1 Wrong Marks : 0.25

ISECG का पूर्ण रूप है 'इंटरनेशनल स्पेस एक्सप्लोरेशन \_\_\_\_\_ ग्रुप'।

Options :

1. ☒ कोऑर्डिनेशन
2. ☐ कैपेन
3. ☐ कंसल्टेंट
4. ☐ कंडक्टर

Question Number : 39 Question Id : 16794319017 Question Type : MCQ Option Shuffling : Yes Display Question Number : Yes  
Single Line Question Option : No Option Orientation : Vertical

Correct Marks : 1 Wrong Marks : 0.25

The membership of the International Union for Conservation of Nature (IUCN) is composed of \_\_\_\_\_.

Options :

1. ☒ both government and civil society organisations
2. ☐ non-governmental organisations only
3. ☐ scientific and academic institutions only
4. ☐ government agencies only

Question Number : 39 Question Id : 16794319017 Question Type : MCQ Option Shuffling : Yes Display Question Number : Yes  
Single Line Question Option : No Option Orientation : Vertical

Correct Marks : 1 Wrong Marks : 0.25

प्रकृति संरक्षण के लिए अंतर्राष्ट्रीय संघ (IUCN) का सदस्य मंडल \_\_\_\_\_ से मिल कर बना है।

Options :

1. ✓ सरकार और गैर सरकारी दोनों संगठनों
2. ✗ केवल गैर सरकारी संगठनों
3. ✗ केवल वैज्ञानिक और अकादमिक संस्थानों
4. ✗ केवल सरकारी संगठनों

Question Number : 40 Question Id : 16794319018 Question Type : MCQ Option Shuffling : Yes Display Question Number : Yes  
Single Line Question Option : No Option Orientation : Vertical

Correct Marks : 1 Wrong Marks : 0.25

The National Commission for Protection of Child Rights (NCPCR) was set up in \_\_\_\_\_.

Options :

1. ✓ 2007
2. ✗ 2003
3. ✗ 2011
4. ✗ 2014

Question Number : 40 Question Id : 16794319018 Question Type : MCQ Option Shuffling : Yes Display Question Number : Yes  
Single Line Question Option : No Option Orientation : Vertical

Correct Marks : 1 Wrong Marks : 0.25

राष्ट्रीय बाल संरक्षण आयोग (एनसीपीसीआर) की स्थापना \_\_\_\_\_ में की गई थी।

Options :

1. ✓ 2007
2. ✗ 2003
3. ✗ 2011
4. ✗ 2014

Arithmetic Ability

Group Number :	3
Group Id :	167943716
Group Maximum Duration :	0
Group Minimum Duration :	0
Revisit allowed for view? :	No
Revisit allowed for edit? :	No

Break time:	0
Group Marks:	20
Revisit allowed for group Instructions? :	Yes
Maximum Instruction Time:	0
Minimum Instruction Time:	0

#### Arithmetic Ability

Section Id :	167943781
Section Number :	1
Section type :	Online
Mandatory or Optional:	Mandatory
Number of Questions:	19
Number of Questions to be attempted:	19
Section Marks:	20
Display Number Panel:	Yes
Group All Questions:	No

Sub-Section Number:	1
Sub-Section Id:	1679431207
Question Shuffling Allowed :	Yes

Question Number : 41 Question Id : 16794319019 Question Type : MCQ Option Shuffling : Yes Display Question Number : Yes  
Single Line Question Option : No Option Orientation : Vertical

Correct Marks : 1 Wrong Marks : 0.25

$$\text{If } x = \frac{[(13.8)^2 - (12.8)^2] + [(0.04)^2 + 0.04(26.56)]}{(2.25 \times 5.76) + [(1.44 \times 9) + (0.5)]} \text{ then } \sqrt{x} = ?$$

Options :

1. ✖  $3\sqrt{5}$

2. ✖  $4\sqrt{5}$

3. ✔  $5\sqrt{2}$

4. ✖  $4\sqrt{2}$

Question Number : 41 Question Id : 16794319019 Question Type : MCQ Option Shuffling : Yes Display Question Number : Yes  
Single Line Question Option : No Option Orientation : Vertical

Correct Marks : 1 Wrong Marks : 0.25

$$\text{यदि } x = \frac{[(13.8)^2 - (12.8)^2] + [(0.04)^2 + 0.04(26.56)]}{(2.25 \times 5.76) + [(1.44 \times 9) + (0.5)]} \text{ है तो } \sqrt{x} = ?$$

Options :

1. ✖  $3\sqrt{5}$

2. ✖  $4\sqrt{5}$

3. ✔  $5\sqrt{2}$

4. ✖  $4\sqrt{2}$

Question Number : 42 Question Id : 16794319020 Question Type : MCQ Option Shuffling : Yes Display Question Number : Yes  
Single Line Question Option : No Option Orientation : Vertical

Correct Marks : 1 Wrong Marks : 0.25

If  $\frac{4+\sqrt{5}}{4-\sqrt{5}} + \frac{4-\sqrt{5}}{4+\sqrt{5}} + \frac{\sqrt{5}-1}{\sqrt{5}+1} = a + b\sqrt{5}$ , then the value of  $(11a + 4b)$  will be:

Options :

1. ✖  $55\frac{1}{2}$

2. ✔  $56\frac{1}{2}$

3. ✖ 55

4. ✖ 56

Question Number : 42 Question Id : 16794319020 Question Type : MCQ Option Shuffling : Yes Display Question Number : Yes  
Single Line Question Option : No Option Orientation : Vertical

Correct Marks : 1 Wrong Marks : 0.25

यदि  $\frac{4+\sqrt{5}}{4-\sqrt{5}} + \frac{4-\sqrt{5}}{4+\sqrt{5}} + \frac{\sqrt{5}-1}{\sqrt{5}+1} = a + b\sqrt{5}$  है, तो  $(11a + 4b)$  का मान \_\_\_\_\_ होगा।

Options :

1. ✖  $55\frac{1}{2}$

2. ✔  $56\frac{1}{2}$

3. ✖ 55

4. ✖ 56

Question Number : 43 Question Id : 16794319021 Question Type : MCQ Option Shuffling : Yes Display Question Number : Yes  
Single Line Question Option : No Option Orientation : Vertical

Correct Marks : 1 Wrong Marks : 0.25



The value of  $\frac{(5 \div 2\frac{1}{4}) \div (9 \div 2\frac{1}{4})}{15 \div [2\frac{1}{2} - (3\frac{1}{2} - 2\frac{1}{2})]}$  of  $3\frac{3}{5}$  is:

Options :

1. ☒  $\frac{1}{5}$

2. ☐  $1\frac{3}{5}$

3. ☐  $2\frac{2}{5}$

4. ☐  $2\frac{1}{5}$

Question Number : 43 Question Id : 16794319021 Question Type : MCQ Option Shuffling : Yes Display Question Number : Yes  
Single Line Question Option : No Option Orientation : Vertical

Correct Marks : 1 Wrong Marks : 0.25

$3\frac{3}{5}$  के  $\frac{(5 \div 2\frac{1}{4}) \div (9 \div 2\frac{1}{4})}{15 \div [2\frac{1}{2} - (3\frac{1}{2} - 2\frac{1}{2})]}$  का मान \_\_\_\_\_ है।

Options :

1. ☒  $\frac{1}{5}$

2. ☐  $1\frac{3}{5}$

3. ☐  $2\frac{2}{5}$

4. ☐  $2\frac{1}{5}$

Question Number : 44 Question Id : 16794319022 Question Type : MCQ Option Shuffling : Yes Display Question Number : Yes  
Single Line Question Option : No Option Orientation : Vertical

Correct Marks : 1 Wrong Marks : 0.25

Let  $x$  be the least numbers which when divided by 12, 16, 18, 24, 27 and 54 leaves the remainder 15 in each case but is divisible by 29. If  $x$  is divided by 92, the remainder will be:

Options :

1. ☐ 43

2. ✖ 47

3. ✖ 53

4. ✔ 59

Question Number : 44 Question Id : 16794319022 Question Type : MCQ Option Shuffling : Yes Display Question Number : Yes  
Single Line Question Option : No Option Orientation : Vertical

Correct Marks : 1 Wrong Marks : 0.25

माना की  $x$  वह छोटी से छोटी संख्या है जिसको जब 12, 16, 18, 24, 27 और 54 से भाग दिया जाए, तो प्रत्येक दशा में शेषफल 15 प्राप्त होता है, लेकिन  $x$ , 29 से विभाज्य है. यदि  $x$  को 92 से भाग दिया जाए, तो शेषफल \_\_\_\_ होगा।

Options :

1. ✖ 43

2. ✖ 47

3. ✖ 53

4. ✔ 59

Question Number : 45 Question Id : 16794319023 Question Type : MCQ Option Shuffling : Yes Display Question Number : Yes  
Single Line Question Option : No Option Orientation : Vertical

Correct Marks : 1 Wrong Marks : 0.25

The sum of two numbers is 4840. If 10.8% of one numbers is equal to 18% of the other, then the difference of two numbers is  $x\%$  of their sum. The value of  $x$  is?

Options :

1. ✖ 20

2. ✖ 24

3. ✔ 25

4. ✖ 28

Question Number : 45 Question Id : 16794319023 Question Type : MCQ Option Shuffling : Yes Display Question Number : Yes  
Single Line Question Option : No Option Orientation : Vertical

Correct Marks : 1 Wrong Marks : 0.25

दो संख्याओं का योग 4840 है। यदि एक संख्या का 10.8%, दूसरी संख्या के 18% के बराबर है, तो दोनों संख्याओं का अंतर उनके योग के  $x\%$  के बराबर है।  $x$  का मान है:

Options :

1. ✖ 20

2. ✖ 24

3. ✔ 25

4. ✖ 28

Question Number : 46 Question Id : 16794319024 Question Type : MCQ Option Shuffling : Yes Display Question Number : Yes  
Single Line Question Option : No Option Orientation : Vertical

Correct Marks : 1 Wrong Marks : 0.25

The number of pens in packet A is 20% less than the number of pens in packet B. If 25% of the number of pens in A are transferred to B and then 20% of the number of pens in B are transferred to A, then the percentage of the total number of pens that B now has will be:

Options :

1. ✖  $46\frac{2}{3}$

2. ✖  $46\frac{1}{3}$

3. ✖  $53\frac{2}{3}$

4. ✔  $53\frac{1}{3}$

Question Number : 46 Question Id : 16794319024 Question Type : MCQ Option Shuffling : Yes Display Question Number : Yes  
Single Line Question Option : No Option Orientation : Vertical

Correct Marks : 1 Wrong Marks : 0.25

पैकेट A में पेनों की संख्या पैकेट B में पेनों की संख्या से 20% कम है। A के पेनों की संख्या का 25% यदि B में डाल दिया जाए और फिर B के पेनों की संख्या का 20% A में डाल दिया जाए, तो B में अब पेनों की संख्या कुल पेनों की संख्या का कितना प्रतिशत है?

Options :

1. ✖  $46\frac{2}{3}$

2. ✖  $46\frac{1}{3}$

3. ✖  $53\frac{2}{3}$

4. ✔  $53\frac{1}{3}$

Question Number : 47 Question Id : 16794319025 Question Type : MCQ Option Shuffling : Yes Display Question Number : Yes  
Single Line Question Option : No Option Orientation : Vertical

Correct Marks : 1 Wrong Marks : 0.25

The profit percent of each A and B is the same on selling an article for ₹ 4200. A calculates his profit on the selling price while B calculated it on the cost price of the articles, profit is  $33\frac{1}{3}\%$  in each case. The profit of A exceeds the profit of B by:

Options :

1. ✖ ₹ 325

2. ✔ ₹ 350

3. ✖ ₹ 380

4. ✖ ₹ 400

Question Number : 47 Question Id : 16794319025 Question Type : MCQ Option Shuffling : Yes Display Question Number : Yes  
Single Line Question Option : No Option Orientation : Vertical

Correct Marks : 1 Wrong Marks : 0.25

किसी वस्तु को ₹ 4200 में बेचने पर A और B प्रत्येक का लाभ प्रतिशत एक सामान है। A ने अपना लाभ वस्तु विक्रय मूल्य पर तथा B ने अपना लाभ वस्तु क्रय मूल्य पर परिकलित किया और प्रत्येक का लाभ  $33\frac{1}{3}\%$  है। A का लाभ B के लाभ से अधिक है:

Options :

1. ✖ ₹ 325

2. ✔ ₹ 350

3. ✖ ₹ 380

4. ✖ ₹ 400

Question Number : 48 Question Id : 16794319026 Question Type : MCQ Option Shuffling : Yes Display Question Number : Yes  
Single Line Question Option : No Option Orientation : Vertical

Correct Marks : 1 Wrong Marks : 0.25

A shopkeeper buys goods at 25% discount on the marked price. He resets the marked price and sells them at 19% discount on the new marked price and still manages to get 20% profit. By what percentage is the second marked price more than the original marked price?

Options :

1. ✔  $11\frac{1}{9}$

2. ✖  $10\frac{1}{9}$

3. ✖ 12

4. ✖ 10

Question Number : 48 Question Id : 16794319026 Question Type : MCQ Option Shuffling : Yes Display Question Number : Yes  
Single Line Question Option : No Option Orientation : Vertical

Correct Marks : 1 Wrong Marks : 0.25

एक दुकानदार वस्तुओं को उनके अंकित मूल्य पर 25% की छूट प्राप्त करके खरीदता है। वह फिर उनके मूल्यों को दोबारा अंकित इस प्रकार करता है की इन पर 19% की छूट देने के पश्चात भी उसे 20% का लाभ प्राप्त होता है। वस्तुओं का दूसरा अंकित मूल्य आरंभिक अंकित मूल्य से कितना प्रतिशत अधिक है?

Options :

1. ✔  $11\frac{1}{9}$

2. ✖  $10\frac{1}{9}$

3. ✖ 12

4. ✖ 10

Question Number : 49 Question Id : 16794319027 Question Type : MCQ Option Shuffling : Yes Display Question Number : Yes  
Single Line Question Option : No Option Orientation : Vertical

Correct Marks : 1 Wrong Marks : 0.25

The average age of 150 students is 16.5 years. 60% of all the students are boys and rests are girls. If the ratio of average age of boys and girls is 4 : 5, then what is the average age of the girls (in years)?

Options :

1. ✖ 15

2. ✖ 15.5

3. ✖ 16

4. ✔ 18.75

Question Number : 49 Question Id : 16794319027 Question Type : MCQ Option Shuffling : Yes Display Question Number : Yes  
Single Line Question Option : No Option Orientation : Vertical

Correct Marks : 1 Wrong Marks : 0.25

150 विद्यार्थियों की औसत आयु 16.5 वर्ष है। सभी विद्यार्थियों का 60% लड़के हैं और शेष लड़कियां हैं। यदि लड़के और लड़कियों की औसत आयु में 4 : 5 का अनुपात है, तो लड़कियों की औसत आयु (वर्ष में) क्या है?

Options :

1. ✖ 15



2. ✖ 15.5

3. ✖ 16

4. ✔ 18.75

Question Number : 50 Question Id : 16794319028 Question Type : MCQ Option Shuffling : Yes Display Question Number : Yes  
Single Line Question Option : No Option Orientation : Vertical

Correct Marks : 1 Wrong Marks : 0.25

A person borrows a certain sum at 8% per annum, interest compounded yearly. At the end of one year he repays a sum of ₹ 7,500 and at the end of second year, he repays the balance amount of ₹ 6,480. The sum borrowed by him is:

Options :

1. ✖ ₹ 12,000

2. ✖ ₹ 12,400

3. ✔ ₹ 12,500

4. ✖ ₹ 12,600

Question Number : 50 Question Id : 16794319028 Question Type : MCQ Option Shuffling : Yes Display Question Number : Yes  
Single Line Question Option : No Option Orientation : Vertical

Correct Marks : 1 Wrong Marks : 0.25

एक व्यक्ति एक राशी को 8% वार्षिक दर पर उधार लेता है जबकि ब्याज वार्षिक संयोजित होता है. एक वर्ष के पश्चात, वह ₹ 7,500 की राशी का भुगतान कर देता है. और दो वर्ष के बाद ₹ 6,480 का भुगतान करके पूरा ऋण उतार देता है. उसके द्वारा उधार ली गई राशी है.

Options :

1. ✖ ₹ 12,000

2. ✖ ₹ 12,400

3. ✔ ₹ 12,500

4. ✖ ₹ 12,600

Question Number : 51 Question Id : 16794319029 Question Type : MCQ Option Shuffling : Yes Display Question Number : Yes  
Single Line Question Option : No Option Orientation : Vertical

Correct Marks : 1 Wrong Marks : 0.25

A right-circular cone of volume  $x$ , a right-circular cylinder of volume  $y$  and a sphere of volume  $z$ , all have the same radius. The height of each of cone and cylinder is equal to 50% of the diameter of the sphere. Then which of the following is true?

Options :



1. ✖  $3(x + y) = z$

2. ✔  $3(x + z) = 5y$

3. ✖  $2(x + y) = z$

4. ✖  $2(x + y) = 3z$

Question Number : 51 Question Id : 16794319029 Question Type : MCQ Option Shuffling : Yes Display Question Number : Yes  
Single Line Question Option : No Option Orientation : Vertical

Correct Marks : 1 Wrong Marks : 0.25

एक लंब वृत्तीय शंकु का आयतन  $x$  है, एक लंब वृत्तीय बेलन का आयतन  $y$  है तथा एक गोले का आयतन  $z$  है। तीनों की त्रिज्याएँ बराबर हैं और शंकु और बेलन प्रत्येक की उंचाई गोले के व्यास के 50% के बराबर है। तब निम्नलिखित में से कौन सा सत्य है?

Options :

1. ✖  $3(x + y) = z$

2. ✔  $3(x + z) = 5y$

3. ✖  $2(x + y) = z$

4. ✖  $2(x + y) = 3z$

Question Number : 52 Question Id : 16794319030 Question Type : MCQ Option Shuffling : Yes Display Question Number : Yes  
Single Line Question Option : No Option Orientation : Vertical

Correct Marks : 1 Wrong Marks : 0.25

The length of a minute hand on a wall clock is 10.5 cm. The area swept by it in 10 minutes is: (take  $\pi = \frac{22}{7}$ )

Options :

1. ✖  $56.25 \text{ cm}^2$

2. ✔  $57.75 \text{ cm}^2$

3. ✖  $57.84 \text{ cm}^2$

4. ✖  $58.50 \text{ cm}^2$

Question Number : 52 Question Id : 16794319030 Question Type : MCQ Option Shuffling : Yes Display Question Number : Yes  
Single Line Question Option : No Option Orientation : Vertical

Correct Marks : 1 Wrong Marks : 0.25

एक घड़ी की मिनट की सुई 10.5 cm लंबी है। सुई द्वारा 10 मिनट में घुमा गया क्षेत्रफल क्या होगा? (मान लीजिए  $\pi = \frac{22}{7}$ )

Options :

1. ✖ 56.25 cm<sup>2</sup>
2. ✔ 57.75 cm<sup>2</sup>
3. ✖ 57.84 cm<sup>2</sup>
4. ✖ 58.50 cm<sup>2</sup>

Question Number : 53 Question Id : 16794319031 Question Type : MCQ Option Shuffling : Yes Display Question Number : Yes  
Single Line Question Option : No Option Orientation : Vertical

Correct Marks : 1 Wrong Marks : 0.25

A vessels contains 1,120 L solution of spirit and water in which the ratio of spirit and water is 5 : 3. 16 L of this solution is replaced by 23 L of water. What is the ratio of water and spirit in the resulting solution?

Options :

1. ✖ 17 : 28
2. ✖ 28 : 17
3. ✖ 30 : 19
4. ✔ 19 : 30

Question Number : 53 Question Id : 16794319031 Question Type : MCQ Option Shuffling : Yes Display Question Number : Yes  
Single Line Question Option : No Option Orientation : Vertical

Correct Marks : 1 Wrong Marks : 0.25

किसी बर्तन में स्प्रिट और पानी का 1,120 L घोल है जिसमें स्प्रिट और पानी का अनुपात 5 : 3 है। इस घोल में से 16 L घोल निकालकर शेष में 23 L पानी मिलाया जाता है। इस प्रकार प्राप्त घोल में पानी और स्प्रिट का अनुपात है।

Options :

1. ✖ 17 : 28
2. ✖ 28 : 17
3. ✖ 30 : 19
4. ✔ 19 : 30

Question Number : 54 Question Id : 16794319032 Question Type : MCQ Option Shuffling : Yes Display Question Number : Yes  
Single Line Question Option : No Option Orientation : Vertical

Correct Marks : 1 Wrong Marks : 0.25

A sum of ₹ 2500 is divided between A, B and C in such a way that the ratio of share of C to the combined share of B and A is 2 : 3, and A gets  $\frac{7}{8}$  of the share of B. What is the difference between the shares of A and C?

Options :

1. ✖ ₹ 250

2. ✔ ₹ 300

3. ✖ ₹ 320

4. ✖ ₹ 200

Question Number : 54 Question Id : 16794319032 Question Type : MCQ Option Shuffling : Yes Display Question Number : Yes  
Single Line Question Option : No Option Orientation : Vertical

Correct Marks : 1 Wrong Marks : 0.25

₹ 2500 की एक राशी को A, B और C में इस प्रकार बाँटा जाता है कि C के भाग का A और B के संयुक्त भाग से 2 : 3 का अनुपात है और A का भाग B के भाग के  $\frac{7}{8}$  के बराबर है। A और C के भागों में क्या अंतर है?

Options :

1. ✖ ₹ 250

2. ✔ ₹ 300

3. ✖ ₹ 320

4. ✖ ₹ 200

Question Number : 55 Question Id : 16794319033 Question Type : MCQ Option Shuffling : Yes Display Question Number : Yes  
Single Line Question Option : No Option Orientation : Vertical

Correct Marks : 1 Wrong Marks : 0.25

Two men and 3 women can do a complete a job in 8 days whereas 3 men and 2 women can do it in 7 days. How many men should assist 4 women to complete the job in 4 days?

Options :

1. ✖ 3

2. ✖ 4

3. ✔ 5

4. ✖ 6

Question Number : 55 Question Id : 16794319033 Question Type : MCQ Option Shuffling : Yes Display Question Number : Yes  
Single Line Question Option : No Option Orientation : Vertical

Correct Marks : 1 Wrong Marks : 0.25

दो पुरुष और 3 महिलाएं मिलकर एक काम को 8 दिन में कर सकते हैं जबकि 3 पुरुष और 2 महिलाएं मिलकर उस काम को 7 दिन में कर सकते हैं। काम को 4 दिन में पूरा करने के लिए, 4 महिलाओं के साथ कितने पुरुषों को काम करना होगा?

Options :

- 1. ✖ 3
- 2. ✖ 4
- 3. ✔ 5
- 4. ✖ 6

Question Number : 56 Question Id : 16794319034 Question Type : MCQ Option Shuffling : Yes Display Question Number : Yes  
Single Line Question Option : No Option Orientation : Vertical

Correct Marks : 1 Wrong Marks : 0.25

A is as efficient as B and C together. If A and B finish the work in  $9\frac{3}{5}$  hours and C alone can finish it in 48 hours, then in how many hours B alone will finish the work?

Options :

- 1. ✖ 48
- 2. ✖ 32
- 3. ✖ 16
- 4. ✔ 24

Question Number : 56 Question Id : 16794319034 Question Type : MCQ Option Shuffling : Yes Display Question Number : Yes  
Single Line Question Option : No Option Orientation : Vertical

Correct Marks : 1 Wrong Marks : 0.25

A की कार्यदक्षता, B और C की संयुक्त कार्यदक्षता के बराबर है। यदि A और B किसी काम को  $9\frac{3}{5}$  घंटे में पूरा करते हैं, और C अकेला उस काम को 48 घंटे में पूरा करता है, तो B अकेला उस काम को कितने घंटे में पूरा करेगा?

Options :

- 1. ✖ 48
- 2. ✖ 32
- 3. ✖ 16
- 4. ✔ 24

Question Number : 57 Question Id : 16794319035 Question Type : MCQ Option Shuffling : Yes Display Question Number : Yes  
Single Line Question Option : No Option Orientation : Vertical

Correct Marks : 1 Wrong Marks : 0.25

A train travelling at uniform speed clears a platform 210 m long in 15 s and passes a telegraphic post in 5 s. The length of the train (in m) and its speed (in km/h) are respectively.

Options :

1. ✓ 105 and 75.6
2. ✗ 105 and 79.2
3. ✗ 110 and 78.8
4. ✗ 110 and 80

Question Number : 57 Question Id : 16794319035 Question Type : MCQ Option Shuffling : Yes Display Question Number : Yes  
Single Line Question Option : No Option Orientation : Vertical

Correct Marks : 1 Wrong Marks : 0.25

समान चाल से चलती हुई एक रेलगाड़ी 210 m लम्बे प्लेटफार्म को 15 s में पार करती है और एक टेलीग्राफिक खम्बे को 5 s में पार करती है। रेलगाड़ी की लम्बाई (m में) तथा उसकी चाल (km/h में) क्रमशः हैं

Options :

1. ✓ 105 और 75.6
2. ✗ 105 और 79.2
3. ✗ 110 और 78.8
4. ✗ 110 और 80

Question Number : 58 Question Id : 16794319036 Question Type : MCQ Option Shuffling : Yes Display Question Number : Yes  
Single Line Question Option : No Option Orientation : Vertical

Correct Marks : 1 Wrong Marks : 0.25

A boat goes 16 km downstream and returns to the starting point. It takes 1 h less in downstream than going upstream. If the speed of the boat in still water is 12 km/h, then what is the ratio of speeds going upstream and downstream?

Options :

1. ✗ 1 : 3
2. ✓ 1 : 2
3. ✗ 2 : 3
4. ✗ 2 : 5

Question Number : 58 Question Id : 16794319036 Question Type : MCQ Option Shuffling : Yes Display Question Number : Yes  
Single Line Question Option : No Option Orientation : Vertical

Correct Marks : 1 Wrong Marks : 0.25



एक नाव धारा के अनुकूल 16 km जाकर अपने आरंभिक बिंदु पर वापस आ जाती है। नाव को धारा के अनुकूल जाने में लगे समय से एक घंटा कम है। यदि नाव की चाल शांत जल में 12 km/h है, तो धारा के प्रतिकूल जाने की चाल और धारा के अनुकूल जाने की चाल में अनुपात क्या है?

Options :

1. ✖ 1 : 3

2. ✔ 1 : 2

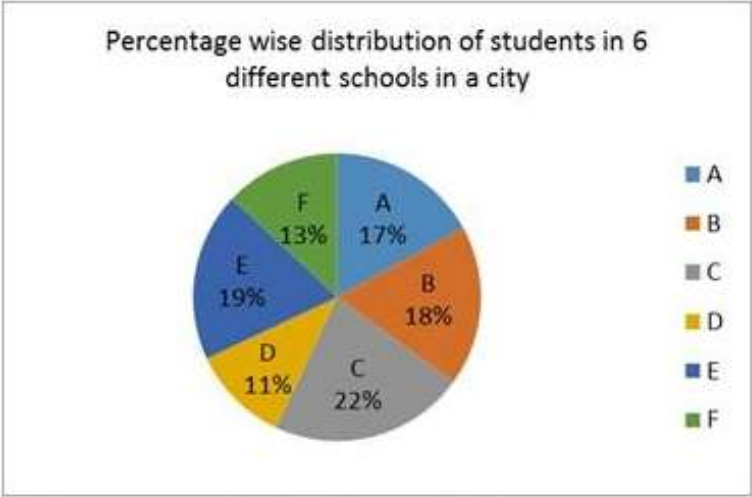
3. ✖ 2 : 3

4. ✖ 2 : 5

Sub-Section Number: 2  
Sub-Section Id: 1679431208  
Question Shuffling Allowed : Yes

Question Id : 16794319037 Question Type : COMPREHENSION Sub Question Shuffling Allowed : Yes Group Comprehension Questions : No  
Question Numbers : (59 to 60)  
Question Label : Comprehension

Study the following pie chart and table and answer question.



Total number of students = 4200

School	Ratio between Boys and Girls Boys : Girls	
A	8	9
B	16	11
C	5	6
D	6	5
E	11	10
F	7	6



### Sub questions

Question Number : 59 Question Id : 16794319038 Question Type : MCQ Option Shuffling : Yes Display Question Number : Yes  
Single Line Question Option : No Option Orientation : Vertical


Correct Marks : 1 Wrong Marks : 0.25


What is the ratio of the total number of boys in school  
B, E and F to the total number of girls in school  
D, A and F?

Options :

1.  29 : 21

2.  28 : 21

3.  14 : 11

4.  15 : 11

Question Number : 60 Question Id : 16794319039 Question Type : MCQ Option Shuffling : Yes Display Question Number : Yes  
Single Line Question Option : No Option Orientation : Vertical

Correct Marks : 1 Wrong Marks : 0.25

The number of girls in schools D and E together is approximately what percentage of the total students in schools A and F?

Options :

1.  44.8

2.  43.4

3.  45.6

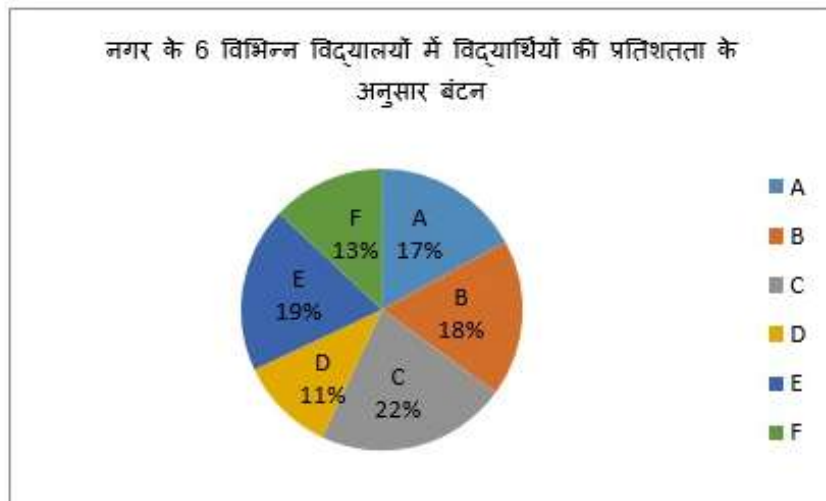
4.  46.8

Question Id : 16794319037 Question Type : COMPREHENSION Sub Question Shuffling Allowed : Yes Group Comprehension  
Questions : No

Question Numbers : (59 to 60)

Question Label : Comprehension

निम्नलिखित पाई चार्ट और तालिका और उत्तर प्रश्न का अध्ययन करें।



विद्यार्थियों की कुल संख्या = 4200

विद्यालय	लड़के और लड़कियों का अनुपात लड़के : लड़कियां	
A	8	9
B	16	11
C	5	6
D	6	5
E	11	10
F	7	6

Sub questions

Question Number : 59 Question Id : 16794319038 Question Type : MCQ Option Shuffling : Yes Display Question Number : Yes Single Line Question Option : No Option Orientation : Vertical

Correct Marks : 1 Wrong Marks : 0.25

विद्यालय B, E और F में लड़कों की कुल संख्या का विद्यालय D, A और F में लड़कियों की कुल संख्या से अनुपात क्या है?

Options :

1. ✓ 29 : 21

2. ✗ 28 : 21

3. ✗ 14 : 11

4. ✗ 15 : 11

Question Number : 60 Question Id : 16794319039 Question Type : MCQ Option Shuffling : Yes Display Question Number : Yes  
Single Line Question Option : No Option Orientation : Vertical  
Correct Marks : 1 Wrong Marks : 0.25

विद्यालय D और E में कुल मिलाकर लड़कियों की संख्या  
स्कूल A और F में के कुल छात्रों का लगभग कितना  
प्रतिशत है?

Options :

1. ✖ 44.8

2. ✖ 43.4

3. ✖ 45.6

4. ✔ 46.8

#### General English

Group Number :	4
Group Id :	167943717
Group Maximum Duration :	0
Group Minimum Duration :	0
Revisit allowed for view? :	No
Revisit allowed for edit? :	No
Break time:	0
Group Marks:	20
Revisit allowed for group Instructions? :	Yes
Maximum Instruction Time:	0
Minimum Instruction Time:	0

#### General English

Section Id :	167943782
Section Number :	1
Section type :	Online
Mandatory or Optional:	Mandatory
Number of Questions:	16
Number of Questions to be attempted:	16
Section Marks:	20
Display Number Panel:	Yes
Group All Questions:	No

Sub-Section Number:	1
Sub-Section Id:	1679431209
Question Shuffling Allowed :	Yes

Question Number : 61 Question Id : 16794319040 Question Type : MCQ Option Shuffling : Yes Display Question Number : Yes  
Single Line Question Option : No Option Orientation : Vertical

Correct Marks : 1 Wrong Marks : 0.25

Which of the options is closest in meaning to the word below?

Sanguine

Options :

1. ✖ Overweight

2. ✔ Optimistic

3. ✖ Covered with blood

4. ✖ Sleepy

Question Number : 61 Question Id : 16794319040 Question Type : MCQ Option Shuffling : Yes Display Question Number : Yes  
Single Line Question Option : No Option Orientation : Vertical

Correct Marks : 1 Wrong Marks : 0.25

Which of the options is closest in meaning to the word below?

Sanguine

Options :

1. ✖ Overweight

2. ✔ Optimistic

3. ✖ Covered with blood

4. ✖ Sleepy

Question Number : 62 Question Id : 16794319041 Question Type : MCQ Option Shuffling : Yes Display Question Number : Yes  
Single Line Question Option : No Option Orientation : Vertical

Correct Marks : 1 Wrong Marks : 0.25

Which of the options has the opposite meaning to the word below?

Obdurate

Options :

1. ✖ Angry

2. ✔ Compassionate

3. ✖ Kind

4. ✖ Unintelligent

Question Number : 62 Question Id : 16794319041 Question Type : MCQ Option Shuffling : Yes Display Question Number : Yes  
Single Line Question Option : No Option Orientation : Vertical

Correct Marks : 1 Wrong Marks : 0.25

Which of the options has the opposite meaning to the word below?

Obdurate

Options :

1. ✖ Angry

2. ✔ Compassionate

3. ✖ Kind

4. ✖ Unintelligent

Question Number : 63 Question Id : 16794319042 Question Type : MCQ Option Shuffling : Yes Display Question Number : Yes  
Single Line Question Option : No Option Orientation : Vertical

Correct Marks : 1 Wrong Marks : 0.25

Fill in the blank space with the most appropriate option.

Do you sell apples \_\_\_\_\_ the kilo?

Options :

1. ✖ in

2. ✖ at

3. ✔ by

4. ✖ for

Question Number : 63 Question Id : 16794319042 Question Type : MCQ Option Shuffling : Yes Display Question Number : Yes  
Single Line Question Option : No Option Orientation : Vertical

Correct Marks : 1 Wrong Marks : 0.25

Fill in the blank space with the most appropriate option.

Do you sell apples \_\_\_\_\_ the kilo?

Options :

1. ✖ in

2. ✖ at

3. ✔ by

4. ✖ for

Question Number : 64 Question Id : 16794319043 Question Type : MCQ Option Shuffling : Yes Display Question Number : Yes  
Single Line Question Option : No Option Orientation : Vertical

Correct Marks : 1 Wrong Marks : 0.25

Fill in the blank space with the most appropriate option

\_\_\_\_\_ apologised, I wouldn't have been so upset at the time.

Options :

1. ✖ He had

2. ✖ If he

3. ✔ Had he

4. ✖ Would he

Question Number : 64 Question Id : 16794319043 Question Type : MCQ Option Shuffling : Yes Display Question Number : Yes  
Single Line Question Option : No Option Orientation : Vertical

Correct Marks : 1 Wrong Marks : 0.25

Fill in the blank space with the most appropriate option

\_\_\_\_\_ apologised, I wouldn't have been so upset at the time.

Options :

1. ✖ He had

2. ✖ If he

3. ✔ Had he

4. ✖ Would he

Question Number : 65 Question Id : 16794319044 Question Type : MCQ Option Shuffling : Yes Display Question Number : Yes  
Single Line Question Option : No Option Orientation : Vertical

Correct Marks : 1 Wrong Marks : 0.25

Fill in the blank space with the most appropriate option.

It's about time you \_\_\_\_\_ exercising regularly.

Options :



1. ✖ start
2. ✖ should start
3. ✖ will start
4. ✔ started

Question Number : 65 Question Id : 16794319044 Question Type : MCQ Option Shuffling : Yes Display Question Number : Yes  
Single Line Question Option : No Option Orientation : Vertical

Correct Marks : 1 Wrong Marks : 0.25

Fill in the blank space with the most appropriate option.

It's about time you \_\_\_\_\_ exercising regularly.

Options :

1. ✖ start
2. ✖ should start
3. ✖ will start
4. ✔ started

Question Number : 66 Question Id : 16794319045 Question Type : MCQ Option Shuffling : Yes Display Question Number : Yes  
Single Line Question Option : No Option Orientation : Vertical

Correct Marks : 1 Wrong Marks : 0.25

Change the speech form of the below sentence.

The policeman said to the boy, "Where do you live?"

Options :

1. ✖ The boy was asked by the policeman.
2. ✖ The policeman asks the boy where he lives.
3. ✔ The policeman asked the boy where he lived.
4. ✖ The policeman is asking the boy where he lives.

Question Number : 66 Question Id : 16794319045 Question Type : MCQ Option Shuffling : Yes Display Question Number : Yes  
Single Line Question Option : No Option Orientation : Vertical

Correct Marks : 1 Wrong Marks : 0.25

Change the speech form of the below sentence.

The policeman said to the boy, "Where do you live?"

Options :

1. ✖ The boy was asked by the policeman.
2. ✖ The policeman asks the boy where he lives.
3. ✔ The policeman asked the boy where he lived.
4. ✖ The policeman is asking the boy where he lives.

Question Number : 67 Question Id : 16794319046 Question Type : MCQ Option Shuffling : Yes Display Question Number : Yes  
Single Line Question Option : No Option Orientation : Vertical

Correct Marks : 1 Wrong Marks : 0.25

Choose the most appropriate option to complete the below sentence.

Ravi is a man \_\_\_\_\_ is interesting to talk with, but \_\_\_\_\_ stories about himself are so incredible that not many people believe them.

Options :

1. ✔ who; whose
2. ✖ that; what
3. ✖ whom; when
4. ✖ what; whom

Question Number : 67 Question Id : 16794319046 Question Type : MCQ Option Shuffling : Yes Display Question Number : Yes  
Single Line Question Option : No Option Orientation : Vertical

Correct Marks : 1 Wrong Marks : 0.25

Choose the most appropriate option to complete the below sentence.

Ravi is a man \_\_\_\_\_ is interesting to talk with, but \_\_\_\_\_ stories about himself are so incredible that not many people believe them.

Options :

1. ✔ who; whose
2. ✖ that; what
3. ✖ whom; when

4. ✖ what; whom

Question Number : 68 Question Id : 16794319047 Question Type : MCQ Option Shuffling : Yes Display Question Number : Yes  
Single Line Question Option : No Option Orientation : Vertical

Correct Marks : 1 Wrong Marks : 0.25

Choose the most appropriate option to complete the below sentence.

My father gave me two English books \_\_\_\_\_ he thought I would be able to read; however, \_\_\_\_\_ was suitable for my level.

Options :

1. ✖ who; none

2. ✖ whose; each

3. ✔ that; neither

4. ✖ when; both

Question Number : 68 Question Id : 16794319047 Question Type : MCQ Option Shuffling : Yes Display Question Number : Yes  
Single Line Question Option : No Option Orientation : Vertical

Correct Marks : 1 Wrong Marks : 0.25

Choose the most appropriate option to complete the below sentence.

My father gave me two English books \_\_\_\_\_ he thought I would be able to read; however, \_\_\_\_\_ was suitable for my level.

Options :

1. ✖ who; none

2. ✖ whose; each

3. ✔ that; neither

4. ✖ when; both

Question Number : 69 Question Id : 16794319048 Question Type : MCQ Option Shuffling : Yes Display Question Number : Yes  
Single Line Question Option : No Option Orientation : Vertical

Correct Marks : 1 Wrong Marks : 0.25

Choose the most appropriate word/phrase to complete the below sentence.

Many people are successful in their careers \_\_\_\_\_ the fact that they do not have a university degree.

Options :

1. ✖ although

2. ✖ even though

3. ✔ in spite of

4. ✖ in view of

Question Number : 69 Question Id : 16794319048 Question Type : MCQ Option Shuffling : Yes Display Question Number : Yes  
Single Line Question Option : No Option Orientation : Vertical

Correct Marks : 1 Wrong Marks : 0.25

Choose the most appropriate word/phrase to complete the below sentence.

Many people are successful in their careers \_\_\_\_\_ the fact that they do not have a university degree.

Options :

1. ✖ although

2. ✖ even though

3. ✔ in spite of

4. ✖ in view of

Question Number : 70 Question Id : 16794319049 Question Type : MCQ Option Shuffling : Yes Display Question Number : Yes  
Single Line Question Option : No Option Orientation : Vertical

Correct Marks : 1 Wrong Marks : 0.25

Choose the most appropriate word/phrase to complete the sentence.

\_\_\_\_\_ theoretical knowledge can be acquired from books, skills must be gained through practice.

Options :

1. ✖ Even as

2. ✖ Even so

3. ✖ Sometimes

4. ✔ Whereas

Question Number : 70 Question Id : 16794319049 Question Type : MCQ Option Shuffling : Yes Display Question Number : Yes  
Single Line Question Option : No Option Orientation : Vertical

Correct Marks : 1 Wrong Marks : 0.25

Choose the most appropriate word/phrase to complete the sentence.

\_\_\_\_\_ theoretical knowledge can be acquired from books, skills must be gained through practice.

Options :

1. ✖ Even as
2. ✖ Even so
3. ✖ Sometimes
4. ✔ Whereas

Question Number : 71 Question Id : 16794319050 Question Type : MCQ Option Shuffling : Yes Display Question Number : Yes  
Single Line Question Option : No Option Orientation : Vertical

Correct Marks : 1 Wrong Marks : 0.25

Which is the option opposite in meaning to the word 'eternal'?

Options :

1. ✖ Concrete
2. ✖ Patient
3. ✔ Ephemeral
4. ✖ Piqued

Question Number : 71 Question Id : 16794319050 Question Type : MCQ Option Shuffling : Yes Display Question Number : Yes  
Single Line Question Option : No Option Orientation : Vertical

Correct Marks : 1 Wrong Marks : 0.25

Which is the option opposite in meaning to the word 'eternal'?

Options :

1. ✖ Concrete
2. ✖ Patient
3. ✔ Ephemeral
4. ✖ Piqued

Question Number : 72 Question Id : 16794319051 Question Type : MCQ Option Shuffling : Yes Display Question Number : Yes  
Single Line Question Option : No Option Orientation : Vertical

Correct Marks : 1 Wrong Marks : 0.25

Which is the option opposite in meaning to the word 'mendacious'?

Options :

1. ✖ Perilous



2. ✖ Apathetic

3. ✖ Perfunctory

4. ✔ Veracious

Question Number : 72 Question Id : 16794319051 Question Type : MCQ Option Shuffling : Yes Display Question Number : Yes  
Single Line Question Option : No Option Orientation : Vertical

Correct Marks : 1 Wrong Marks : 0.25

Which is the option opposite in meaning to the word 'mendacious'?

Options :

1. ✖ Perilous

2. ✖ Apathetic

3. ✖ Perfunctory

4. ✔ Veracious

Question Number : 73 Question Id : 16794319052 Question Type : MCQ Option Shuffling : Yes Display Question Number : Yes  
Single Line Question Option : No Option Orientation : Vertical

Correct Marks : 1 Wrong Marks : 0.25

Complete the following sentence with the most appropriate option.

During the early period of ocean navigation, \_\_\_\_\_ any need for sophisticated instruments and techniques.

Options :

1. ✖ so that hardly

2. ✖ when there hardly was

3. ✖ hardly

4. ✔ there was hardly

Question Number : 73 Question Id : 16794319052 Question Type : MCQ Option Shuffling : Yes Display Question Number : Yes  
Single Line Question Option : No Option Orientation : Vertical

Correct Marks : 1 Wrong Marks : 0.25

Complete the following sentence with the most appropriate option.

During the early period of ocean navigation, \_\_\_\_\_ any need for sophisticated instruments and techniques.

Options :



1. ✖ so that hardly
2. ✖ when there hardly was
3. ✖ hardly
4. ✔ there was hardly

Question Number : 74 Question Id : 16794319053 Question Type : MCQ Option Shuffling : Yes Display Question Number : Yes  
Single Line Question Option : No Option Orientation : Vertical

Correct Marks : 1 Wrong Marks : 0.25

Fill in the blank with the most appropriate option.

Refrigerating meats \_\_\_\_\_ the spread of bacteria.

Options :

1. ✔ slows
2. ✖ had been slowed
3. ✖ is slowing
4. ✖ slow

Question Number : 74 Question Id : 16794319053 Question Type : MCQ Option Shuffling : Yes Display Question Number : Yes  
Single Line Question Option : No Option Orientation : Vertical

Correct Marks : 1 Wrong Marks : 0.25

Fill in the blank with the most appropriate option.

Refrigerating meats \_\_\_\_\_ the spread of bacteria.

Options :

1. ✔ slows
2. ✖ had been slowed
3. ✖ is slowing
4. ✖ slow

Question Number : 75 Question Id : 16794319054 Question Type : MCQ Option Shuffling : Yes Display Question Number : Yes  
Single Line Question Option : No Option Orientation : Vertical

Correct Marks : 1 Wrong Marks : 0.25

Choose the option that best defines the word in capital letters.

ACERBIC

Options :

1. ✖ harmful or toxic
2. ✖ saccharine or sweet
3. ✔ cutting or biting
4. ✖ small or dainty

Question Number : 75 Question Id : 16794319054 Question Type : MCQ Option Shuffling : Yes Display Question Number : Yes  
Single Line Question Option : No Option Orientation : Vertical

Correct Marks : 1 Wrong Marks : 0.25

Choose the option that best defines the word in capital letters.

ACERBIC

Options :

1. ✖ harmful or toxic
2. ✖ saccharine or sweet
3. ✔ cutting or biting
4. ✖ small or dainty

Sub-Section Number:	2
Sub-Section Id:	1679431210
Question Shuffling Allowed :	Yes

Question Id : 16794319055 Question Type : COMPREHENSION Sub Question Shuffling Allowed : Yes Group Comprehension  
Questions : No

Question Numbers : (76 to 80)

Question Label : Comprehension

Read the following passage and answer the questions given after it.

The ancient temple of Kom Ombo, 400 miles south of Cairo, where archaeologists recently unearthed stack of decaying mummies is facing an unusual peril: waterlogged foundations.

Decades of flood irrigation in the surrounding fields, which were once desert, have soaked the soil beneath the temple. Water has penetrated the sandstone foundations, combining with salt and heat to scrub some hieroglyphs from the temple walls. The symbols and figures, effectively the lines of an ancient story, are fading to dust.

The solution, according to engineers working on a \$9 million American-financed project, is some modern drainage. Since October 2017, dozens of laborers have been digging a 30-foot-deep trench around the temple walls in an effort to drain the groundwater and divert it back into the Nile.

Unusually, a team of archaeologists is working alongside the laborers, hoping to save any treasures that are uncovered in the dig. It has found significant objects, including a bust of Marcus Aurelius, an Old Kingdom pottery workshop and a relief of Sobek, the crocodile god of the temple. On a searing July afternoon, one archaeologist held forth an ancient lunch: a fistful of charred, 4,000-year-old grains of wheat, discovered in an excavated urn.

The most exciting discovery may have been in recent weeks, when archaeologists pulled a sand-encrusted sphinx from a damp hole. It has been dated to the Ptolemaic era, which ran from 305 B.C. to 30 B.C.

At less than two feet tall, the sphinx is a dwarf compared with the famed Great Sphinx of Giza, which rises to 65 feet and stretches 240 feet from head to tail. It also had a broken paw and no identifying markings.

But unlike the Giza sphinx, whose features are badly eroded by time and the elements, the Kom Ombo sphinx is finely preserved — as is the sense of its mythic power: a man's head on a lion's body.

The water troubles at Kom Ombo, and at many other Pharaonic sites along the Nile, are a product of one of Egypt's proudest successes.

The massive Aswan High Dam, 30 miles upstream from Kom Ombo, transformed Egyptian agriculture when it was completed in 1971. Having tamed the ancient cycle of flood and drought, Egyptians could cultivate up to the river's edge, helping make their land some of the most productive on earth.

In the decades since, though, the unwanted side effects of the Aswan Dam have become gradually more apparent. In some parts of the fertile Nile Delta, the dam has caused increased salinity, forcing farmers to switch crops or abandon fields entirely. And the Pharaonic temples lining the river have also suffered.

The work at Kom Ombo is one of six major groundwater-lowering projects financed by the United States in Egypt, at a cost of \$100 million, since the 1990s. Previous efforts have focused on the Pyramids of Giza, the catacombs of Alexandria and Cairo's old city.

### Sub questions

Question Number : 76 Question Id : 16794319056 Question Type : MCQ Option Shuffling : Yes Display Question Number : Yes  
Single Line Question Option : No Option Orientation : Vertical

Correct Marks : 1 Wrong Marks : 0.25

The main theme of the passage is :

Options :

1. ✖ the 100 million dollar project being carried out by the US to save the temple.
2. ✔ the problem of waterlogged foundations of the Kom Ombo temple in Egypt.
3. ✖ the problems created by the construction of the Aswan Dam in Egypt.
4. ✖ the strategy being use for draining out the water from the foundations of the temple.

Question Number : 77 Question Id : 16794319057 Question Type : MCQ Option Shuffling : Yes Display Question Number : Yes  
Single Line Question Option : No Option Orientation : Vertical

Correct Marks : 1 Wrong Marks : 0.25

“one of Egypt’s proudest successes” refers to:

Options :

1. ✖ the Kom Ombo temple
2. ✔ the construction of Aswan Dam
3. ✖ the transformed Egyptian agriculture
4. ✖ taming of the ancient cycle of flood and drought

Question Number : 78 Question Id : 16794319058 Question Type : MCQ Option Shuffling : Yes Display Question Number : Yes  
Single Line Question Option : No Option Orientation : Vertical

Correct Marks : 1 Wrong Marks : 0.25

Which is an unwanted side effect of the Aswan Dam?

Options :

1. ✖ The ancient cycle of floods and drought has been tamed.
2. ✖ High yield crops can be grown in the desert land of Egypt.
3. ✖ The crops can be irrigated at the required time.

4. ✓ The farmers need to switch crops due to salinity.

Question Number : 79 Question Id : 16794319059 Question Type : MCQ Option Shuffling : Yes Display Question Number : Yes  
Single Line Question Option : No Option Orientation : Vertical

Correct Marks : 1 Wrong Marks : 0.25

Archaeologists have unearthed many significant objects from the Kom Ombo temple. Which one is the most important?

Options :

1. ✓ a finely preserved small sphinx
2. ✗ a bust of Marcus Aurelius,
3. ✗ a relief of Sobek, the crocodile god
4. ✗ 4,000-year-old grains of wheat

Question Number : 80 Question Id : 16794319060 Question Type : MCQ Option Shuffling : Yes Display Question Number : Yes  
Single Line Question Option : No Option Orientation : Vertical

Correct Marks : 1 Wrong Marks : 0.25

Which statement is NOT true about the Kom Ombo Sphinx?

Options :

1. ✓ It is sixty five feet high.
2. ✗ It is finely preserved.
3. ✗ It has a damaged paw.
4. ✗ It has no identifying marks.

Question Id : 16794319055 Question Type : COMPREHENSION Sub Question Shuffling Allowed : Yes Group Comprehension  
Questions : No

Question Numbers : (76 to 80)

Question Label : Comprehension



Read the following passage and answer the questions given after it.

The ancient temple of Kom Ombo, 400 miles south of Cairo, where archaeologists recently unearthed stack of decaying mummies is facing an unusual peril: waterlogged foundations.

Decades of flood irrigation in the surrounding fields, which were once desert, have soaked the soil beneath the temple. Water has penetrated the sandstone foundations, combining with salt and heat to scrub some hieroglyphs from the temple walls. The symbols and figures, effectively the lines of an ancient story, are fading to dust.

The solution, according to engineers working on a \$9 million American-financed project, is some modern drainage. Since October 2017, dozens of laborers have been digging a 30-foot-deep trench around the temple walls in an effort to drain the groundwater and divert it back into the Nile.

Unusually, a team of archaeologists is working alongside the laborers, hoping to save any treasures that are uncovered in the dig. It has found significant objects, including a bust of Marcus Aurelius, an Old Kingdom pottery workshop and a relief of Sobek, the crocodile god of the temple. On a searing July afternoon, one archaeologist held forth an ancient lunch: a fistful of charred, 4,000-year-old grains of wheat, discovered in an excavated urn.

The most exciting discovery may have been in recent weeks, when archaeologists pulled a sand-encrusted sphinx from a damp hole. It has been dated to the Ptolemaic era, which ran from 305 B.C. to 30 B.C.

At less than two feet tall, the sphinx is a dwarf compared with the famed Great Sphinx of Giza, which rises to 65 feet and stretches 240 feet from head to tail. It also had a broken paw and no identifying markings.

But unlike the Giza sphinx, whose features are badly eroded by time and the elements, the Kom Ombo sphinx is finely preserved — as is the sense of its mythic power: a man's head on a lion's body.

The water troubles at Kom Ombo, and at many other Pharaonic sites along the Nile, are a product of one of Egypt's proudest successes.

The massive Aswan High Dam, 30 miles upstream from Kom Ombo, transformed Egyptian agriculture when it was completed in 1971. Having tamed the ancient cycle of flood and drought, Egyptians could cultivate up to the river's edge, helping make their land some of the most productive on earth.

In the decades since, though, the unwanted side effects of the Aswan Dam have become gradually more apparent. In some parts of the fertile Nile Delta, the dam has caused increased salinity, forcing farmers to switch crops or abandon fields entirely. And the Pharaonic temples lining the river have also suffered.

The work at Kom Ombo is one of six major groundwater-lowering projects financed by the United States in Egypt, at a cost of \$100 million, since the 1990s. Previous efforts have focused on the Pyramids of Giza, the catacombs of Alexandria and Cairo's old city.



### Sub questions

Question Number : 76 Question Id : 16794319056 Question Type : MCQ Option Shuffling : Yes Display Question Number : Yes  
Single Line Question Option : No Option Orientation : Vertical

Correct Marks : 1 Wrong Marks : 0.25

The main theme of the passage is :

Options :

1. ✖ the 100 million dollar project being carried out by the US to save the temple.
2. ✔ the problem of waterlogged foundations of the Kom Ombo temple in Egypt.
3. ✖ the problems created by the construction of the Aswan Dam in Egypt.
4. ✖ the strategy being use for draining out the water from the foundations of the temple.

Question Number : 77 Question Id : 16794319057 Question Type : MCQ Option Shuffling : Yes Display Question Number : Yes  
Single Line Question Option : No Option Orientation : Vertical

Correct Marks : 1 Wrong Marks : 0.25

“one of Egypt’s proudest successes” refers to:

Options :

1. ✖ the Kom Ombo temple
2. ✔ the construction of Aswan Dam
3. ✖ the transformed Egyptian agriculture
4. ✖ taming of the ancient cycle of flood and drought

Question Number : 78 Question Id : 16794319058 Question Type : MCQ Option Shuffling : Yes Display Question Number : Yes  
Single Line Question Option : No Option Orientation : Vertical

Correct Marks : 1 Wrong Marks : 0.25

Which is an unwanted side effect of the Aswan Dam?

Options :

1. ✖ The ancient cycle of floods and drought has been tamed.
2. ✖ High yield crops can be grown in the desert land of Egypt.
3. ✖ The crops can be irrigated at the required time.

4. ✓ The farmers need to switch crops due to salinity.

Question Number : 79 Question Id : 16794319059 Question Type : MCQ Option Shuffling : Yes Display Question Number : Yes  
Single Line Question Option : No Option Orientation : Vertical

Correct Marks : 1 Wrong Marks : 0.25

Archaeologists have unearthed many significant objects from the Kom Ombo temple. Which one is the most important?

Options :

1. ✓ a finely preserved small sphinx
2. ✗ a bust of Marcus Aurelius,
3. ✗ a relief of Sobek, the crocodile god
4. ✗ 4,000-year-old grains of wheat

Question Number : 80 Question Id : 16794319060 Question Type : MCQ Option Shuffling : Yes Display Question Number : Yes  
Single Line Question Option : No Option Orientation : Vertical

Correct Marks : 1 Wrong Marks : 0.25

Which statement is NOT true about the Kom Ombo Sphinx?

Options :

1. ✓ It is sixty five feet high.
2. ✗ It is finely preserved.
3. ✗ It has a damaged paw.
4. ✗ It has no identifying marks.

#### General Hindi

Group Number :	5
Group Id :	167943718
Group Maximum Duration :	0
Group Minimum Duration :	0
Revisit allowed for view? :	No
Revisit allowed for edit? :	No
Break time:	0
Group Marks:	20
Revisit allowed for group Instructions? :	Yes
Maximum Instruction Time:	0
Minimum Instruction Time:	0

General Hindi

Section Id :	167943783
Section Number :	1
Section type :	Online
Mandatory or Optional:	Mandatory
Number of Questions:	16
Number of Questions to be attempted:	16
Section Marks:	20
Display Number Panel:	Yes
Group All Questions:	No

Sub-Section Number:	1
Sub-Section Id:	1679431211
Question Shuffling Allowed :	Yes

Question Id : 16794319061 Question Type : COMPREHENSION Sub Question Shuffling Allowed : Yes Group Comprehension Questions : No

Question Numbers : (81 to 85)

Question Label : Comprehension

नीचे दिये गए गद्यांश को पढ़कर पूछे गये प्रश्नों के उत्तर दीजिए।

द्विवेदी जी हिन्दी के अलावा संस्कृत, प्राकृत, अपभ्रंश, बंगला के भी मर्मज्ञ विद्वान थे। कालिदास उनके प्रिय कवि थे। उन्होंने कालिदास पर एक स्वतंत्र पुस्तक लिखी है जिसमें कालिदास की रचना-प्रक्रिया को समझाने का प्रयास किया गया है। द्विवेदी जी ने कालिदास द्वारा प्रयुक्त अनेक शब्दों की सहायता से कालिदास की कविता की व्याख्या की है और अनेक गुत्थियाँ सुलझाई हैं। इस तरह इन शब्दों को अवधारणात्मक पदों के रूप में प्रतिष्ठित किया गया है। द्विवेदी जी समाजवादी विचारों को भारतीयता का विरोधी नहीं मानते। वे मनुष्य को साहित्य का लक्ष्य मानते हैं, इसलिए उन्हें मानवतावादी समालोचक कहा जाता है।

Sub questions

Question Number : 81 Question Id : 16794319062 Question Type : MCQ Option Shuffling : Yes Display Question Number : Yes Single Line Question Option : No Option Orientation : Vertical

Correct Marks : 1 Wrong Marks : 0.25

द्विवेदी जी का पहली किताब किस पर थी?

Options :

1. ✖ कबीरदास

2. ✖ सूरदास

3. ✖ तुलसीदास

4. ✔ कालिदास

Question Number : 82 Question Id : 16794319063 Question Type : MCQ Option Shuffling : Yes Display Question Number : Yes  
Single Line Question Option : No Option Orientation : Vertical

Correct Marks : 1 Wrong Marks : 0.25

द्विवेदी जी के प्रिय कवि थे:

Options :

1. ✖ व्यास

2. ✖ वाल्मीकि

3. ✔ कालिदास

4. ✖ भवभूति

Question Number : 83 Question Id : 16794319064 Question Type : MCQ Option Shuffling : Yes Display Question Number : Yes  
Single Line Question Option : No Option Orientation : Vertical

Correct Marks : 1 Wrong Marks : 0.25

द्विवेदी जी साहित्य का लक्ष्य किसे मानते हैं?

Options :

1. ✖ राष्ट्र

2. ✖ समाज

3. ✖ देश

4. ✔ मनुष्य

Question Number : 84 Question Id : 16794319065 Question Type : MCQ Option Shuffling : Yes Display Question Number : Yes  
Single Line Question Option : No Option Orientation : Vertical

Correct Marks : 1 Wrong Marks : 0.25

द्विवेदी जी को कैसा समालोचक माना जाता है?

Options :

1. ✔ मानवतावादी

2. ✖ मार्क्सवादी

3. ✖ मनोविश्लेषणवादी

4. ✖ कलावादी

Question Number : 85 Question Id : 16794319066 Question Type : MCQ Option Shuffling : Yes Display Question Number : Yes  
Single Line Question Option : No Option Orientation : Vertical  
Correct Marks : 1 Wrong Marks : 0.25

द्विवेदी जी निम्न में से किस भाषा के विद्वान नहीं थे?

Options :

1. ✖ संस्कृत

2. ✖ प्राकृत

3. ✔ फारसी

4. ✖ अपभ्रंश

Question Id : 16794319061 Question Type : COMPREHENSION Sub Question Shuffling Allowed : Yes Group Comprehension  
Questions : No  
Question Numbers : (81 to 85)  
Question Label : Comprehension

नीचे दिये गए गद्यांश को पढ़कर पूछे गये प्रश्नों के उत्तर दीजिए।

द्विवेदी जी हिन्दी के अलावा संस्कृत, प्राकृत, अपभ्रंश, बंगला के भी मर्मज्ञ विद्वान थे। कालिदास उनके प्रिय कवि थे। उन्होंने कालिदास पर एक स्वतंत्र पुस्तक लिखी है जिसमें कालिदास की रचना-प्रक्रिया को समझाने का प्रयास किया गया है। द्विवेदी जी ने कालिदास द्वारा प्रयुक्त अनेक शब्दों की सहायता से कालिदास की कविता की व्याख्या की है और अनेक गुत्थियाँ सुलझाई हैं। इस तरह इन शब्दों को अवधारणात्मक पदों के रूप में प्रतिष्ठित किया गया है। द्विवेदी जी समाजवादी विचारों को भारतीयता का विरोधी नहीं मानते। वे मनुष्य को साहित्य का लक्ष्य मानते हैं, इसलिए उन्हें मानवतावादी समालोचक कहा जाता है।

Sub questions

Question Number : 81 Question Id : 16794319062 Question Type : MCQ Option Shuffling : Yes Display Question Number : Yes  
Single Line Question Option : No Option Orientation : Vertical  
Correct Marks : 1 Wrong Marks : 0.25



द्विवेदी जी का पहली किताब किस पर थी?

Options :

1. ✖ कबीरदास
2. ✖ सूरदास
3. ✖ तुलसीदास
4. ✔ कालिदास

Question Number : 82 Question Id : 16794319063 Question Type : MCQ Option Shuffling : Yes Display Question Number : Yes  
Single Line Question Option : No Option Orientation : Vertical

Correct Marks : 1 Wrong Marks : 0.25

द्विवेदी जी के प्रिय कवि थे:

Options :

1. ✖ व्यास
2. ✖ वाल्मीकि
3. ✔ कालिदास
4. ✖ भवभूति

Question Number : 83 Question Id : 16794319064 Question Type : MCQ Option Shuffling : Yes Display Question Number : Yes  
Single Line Question Option : No Option Orientation : Vertical

Correct Marks : 1 Wrong Marks : 0.25

द्विवेदी जी साहित्य का लक्ष्य किसे मानते हैं?

Options :

1. ✖ राष्ट्र
2. ✖ समाज
3. ✖ देश
4. ✔ मनुष्य

Question Number : 84 Question Id : 16794319065 Question Type : MCQ Option Shuffling : Yes Display Question Number : Yes  
Single Line Question Option : No Option Orientation : Vertical

Correct Marks : 1 Wrong Marks : 0.25



द्विवेदी जी को कैसा समालोचक माना जाता है?

Options :

1. ☒ मानवतावादी
2. ☐ मार्क्सवादी
3. ☐ मनोविश्लेषणवादी
4. ☐ कलावादी

Question Number : 85 Question Id : 16794319066 Question Type : MCQ Option Shuffling : Yes Display Question Number : Yes  
Single Line Question Option : No Option Orientation : Vertical  
Correct Marks : 1 Wrong Marks : 0.25

द्विवेदी जी निम्न में से किस भाषा के विद्वान नहीं थे?

Options :

1. ☐ संस्कृत
2. ☐ प्राकृत
3. ☒ फारसी
4. ☐ अपभ्रंश

Sub-Section Number: 2  
Sub-Section Id: 1679431212  
Question Shuffling Allowed : Yes

Question Number : 86 Question Id : 16794319067 Question Type : MCQ Option Shuffling : Yes Display Question Number : Yes  
Single Line Question Option : No Option Orientation : Vertical  
Correct Marks : 1 Wrong Marks : 0.25

निम्न में से कौन सा शब्द तत्सम है?

Options :

1. ☐ लाठी
2. ☒ लोचन
3. ☐ लाख

4. ✖ लकड़ी

Question Number : 86 Question Id : 16794319067 Question Type : MCQ Option Shuffling : Yes Display Question Number : Yes  
Single Line Question Option : No Option Orientation : Vertical  
Correct Marks : 1 Wrong Marks : 0.25

निम्न में से कौन सा शब्द तत्सम है?

Options :

1. ✖ लाठी

2. ✔ लोचन

3. ✖ लाख

4. ✖ लकड़ी

Question Number : 87 Question Id : 16794319068 Question Type : MCQ Option Shuffling : Yes Display Question Number : Yes  
Single Line Question Option : No Option Orientation : Vertical  
Correct Marks : 1 Wrong Marks : 0.25

निम्न में तद्भव शब्द कौन सा है?

Options :

1. ✔ भरोसा

2. ✖ वामन

3. ✖ वचन

4. ✖ वपन

Question Number : 87 Question Id : 16794319068 Question Type : MCQ Option Shuffling : Yes Display Question Number : Yes  
Single Line Question Option : No Option Orientation : Vertical  
Correct Marks : 1 Wrong Marks : 0.25

निम्न में तद्भव शब्द कौन सा है?

Options :

1. ✔ भरोसा

2. ✖ वामन

3. ✖ वचन

4. ✖ वपन

Question Number : 88 Question Id : 16794319069 Question Type : MCQ Option Shuffling : Yes Display Question Number : Yes  
Single Line Question Option : No Option Orientation : Vertical

Correct Marks : 1 Wrong Marks : 0.25

निम्न में व्यक्तिवाचक संज्ञा कौन सी है?

Options :

1. ✖ मंत्री

2. ✖ घोड़ा

3. ✖ पानी

4. ✔ हिमालय

Question Number : 88 Question Id : 16794319069 Question Type : MCQ Option Shuffling : Yes Display Question Number : Yes  
Single Line Question Option : No Option Orientation : Vertical

Correct Marks : 1 Wrong Marks : 0.25

निम्न में व्यक्तिवाचक संज्ञा कौन सी है?

Options :

1. ✖ मंत्री

2. ✖ घोड़ा

3. ✖ पानी

4. ✔ हिमालय

Question Number : 89 Question Id : 16794319070 Question Type : MCQ Option Shuffling : Yes Display Question Number : Yes  
Single Line Question Option : No Option Orientation : Vertical

Correct Marks : 1 Wrong Marks : 0.25

पुरुषवाचक सर्वनाम है:

Options :

1. ✔ हम

2. ✖ आप

3. ✖ कोई

4. ✖ कौन

Question Number : 89 Question Id : 16794319070 Question Type : MCQ Option Shuffling : Yes Display Question Number : Yes  
Single Line Question Option : No Option Orientation : Vertical

Correct Marks : 1 Wrong Marks : 0.25

पुरुषवाचक सर्वनाम है:

Options :

1. ☒ हम
2. ☐ आप
3. ☐ कोई
4. ☐ कौन

Question Number : 90 Question Id : 16794319071 Question Type : MCQ Option Shuffling : Yes Display Question Number : Yes  
Single Line Question Option : No Option Orientation : Vertical

Correct Marks : 1 Wrong Marks : 0.25

निम्न में से कौन सा शब्द अव्यय है?

Options :

1. ☐ पिछला
2. ☒ कब
3. ☐ चौकोर
4. ☐ पीला

Question Number : 90 Question Id : 16794319071 Question Type : MCQ Option Shuffling : Yes Display Question Number : Yes  
Single Line Question Option : No Option Orientation : Vertical

Correct Marks : 1 Wrong Marks : 0.25

निम्न में से कौन सा शब्द अव्यय है?

Options :

1. ☐ पिछला
2. ☒ कब
3. ☐ चौकोर
4. ☐ पीला

Question Number : 91 Question Id : 16794319072 Question Type : MCQ Option Shuffling : Yes Display Question Number : Yes  
Single Line Question Option : No Option Orientation : Vertical

Correct Marks : 1 Wrong Marks : 0.25

‘अधोगति’ का संधि-विच्छेद होगा:

Options :

1. ✖ अध + गति
2. ✖ अधा + गति
3. ✖ अधो + गति
4. ✔ अधः + गति

Question Number : 91 Question Id : 16794319072 Question Type : MCQ Option Shuffling : Yes Display Question Number : Yes  
Single Line Question Option : No Option Orientation : Vertical

Correct Marks : 1 Wrong Marks : 0.25

‘अधोगति’ का संधि-विच्छेद होगा:

Options :

1. ✖ अध + गति
2. ✖ अधा + गति
3. ✖ अधो + गति
4. ✔ अधः + गति

Question Number : 92 Question Id : 16794319073 Question Type : MCQ Option Shuffling : Yes Display Question Number : Yes  
Single Line Question Option : No Option Orientation : Vertical

Correct Marks : 1 Wrong Marks : 0.25

‘धड़ाधड़’ में समास है:

Options :

1. ✖ द्वंद्व
2. ✖ द्विगु
3. ✔ अव्ययीभाव
4. ✖ तत्पुरुष

Question Number : 92 Question Id : 16794319073 Question Type : MCQ Option Shuffling : Yes Display Question Number : Yes  
Single Line Question Option : No Option Orientation : Vertical

Correct Marks : 1 Wrong Marks : 0.25

‘धड़ाधड़’ में समास है:

Options :

1. ✖ द्वंद्व
2. ✖ दविगु
3. ✔ अव्ययीभाव
4. ✖ तत्पुरुष

Question Number : 93 Question Id : 16794319074 Question Type : MCQ Option Shuffling : Yes Display Question Number : Yes  
Single Line Question Option : No Option Orientation : Vertical

Correct Marks : 1 Wrong Marks : 0.25

निम्न में कौन सा शब्द पुलिंग है?

Options :

1. ✔ आचरण
2. ✖ आयु
3. ✖ आराधना
4. ✖ आवाज

Question Number : 93 Question Id : 16794319074 Question Type : MCQ Option Shuffling : Yes Display Question Number : Yes  
Single Line Question Option : No Option Orientation : Vertical

Correct Marks : 1 Wrong Marks : 0.25

निम्न में कौन सा शब्द पुलिंग है?

Options :

1. ✔ आचरण
2. ✖ आयु
3. ✖ आराधना
4. ✖ आवाज

Question Number : 94 Question Id : 16794319075 Question Type : MCQ Option Shuffling : Yes Display Question Number : Yes  
Single Line Question Option : No Option Orientation : Vertical

Correct Marks : 1 Wrong Marks : 0.25



‘अभिशाप’ में उपसर्ग है:

Options :

1. ✖ अ
2. ✔ अभि
3. ✖ आ
4. ✖ शाप

Question Number : 94 Question Id : 16794319075 Question Type : MCQ Option Shuffling : Yes Display Question Number : Yes  
Single Line Question Option : No Option Orientation : Vertical

Correct Marks : 1 Wrong Marks : 0.25

‘अभिशाप’ में उपसर्ग है:

Options :

1. ✖ अ
2. ✔ अभि
3. ✖ आ
4. ✖ शाप

Question Number : 95 Question Id : 16794319076 Question Type : MCQ Option Shuffling : Yes Display Question Number : Yes  
Single Line Question Option : No Option Orientation : Vertical

Correct Marks : 1 Wrong Marks : 0.25

‘ननिहाल’ में प्रत्यय है:

Options :

1. ✖ ल
2. ✖ आल
3. ✔ हाल
4. ✖ ननि

Question Number : 95 Question Id : 16794319076 Question Type : MCQ Option Shuffling : Yes Display Question Number : Yes  
Single Line Question Option : No Option Orientation : Vertical

Correct Marks : 1 Wrong Marks : 0.25

‘ननिहाल’ में प्रत्यय है:

Options :

1. ✖ ल
2. ✖ आल
3. ✔ हाल
4. ✖ ननि

Question Number : 96 Question Id : 16794319077 Question Type : MCQ Option Shuffling : Yes Display Question Number : Yes  
Single Line Question Option : No Option Orientation : Vertical

Correct Marks : 1 Wrong Marks : 0.25

‘गंगा’ का पर्यायवाची है:

Options :

1. ✖ प्रभा
2. ✖ तरिणी
3. ✖ सरिता
4. ✔ भागीरथी

Question Number : 96 Question Id : 16794319077 Question Type : MCQ Option Shuffling : Yes Display Question Number : Yes  
Single Line Question Option : No Option Orientation : Vertical

Correct Marks : 1 Wrong Marks : 0.25

‘गंगा’ का पर्यायवाची है:

Options :

1. ✖ प्रभा
2. ✖ तरिणी
3. ✖ सरिता
4. ✔ भागीरथी

Question Number : 97 Question Id : 16794319078 Question Type : MCQ Option Shuffling : Yes Display Question Number : Yes  
Single Line Question Option : No Option Orientation : Vertical

Correct Marks : 1 Wrong Marks : 0.25

‘स्वामी’ का विलोम होगा:

Options :

1. ✖ मालिक

2. ✓ दास

3. ✗ कमजोर

4. ✗ किसान

Question Number : 97 Question Id : 16794319078 Question Type : MCQ Option Shuffling : Yes Display Question Number : Yes  
Single Line Question Option : No Option Orientation : Vertical

Correct Marks : 1 Wrong Marks : 0.25

‘स्वामी’ का विलोम होगा:

Options :

1. ✗ मालिक

2. ✓ दास

3. ✗ कमजोर

4. ✗ किसान

Question Number : 98 Question Id : 16794319079 Question Type : MCQ Option Shuffling : Yes Display Question Number : Yes  
Single Line Question Option : No Option Orientation : Vertical

Correct Marks : 1 Wrong Marks : 0.25

‘वह स्त्री जिसका पति जीवित हो’ के लिए एक शब्द होगा:

Options :

1. ✓ सधवा

2. ✗ विधवा

3. ✗ सती

4. ✗ पतिव्रता

Question Number : 98 Question Id : 16794319079 Question Type : MCQ Option Shuffling : Yes Display Question Number : Yes  
Single Line Question Option : No Option Orientation : Vertical

Correct Marks : 1 Wrong Marks : 0.25

‘वह स्त्री जिसका पति जीवित हो’ के लिए एक शब्द होगा:

Options :

1. ✓ सधवा

- 2. ✖ विधवा
- 3. ✖ सती
- 4. ✖ पतिव्रता

Question Number : 99 Question Id : 16794319080 Question Type : MCQ Option Shuffling : Yes Display Question Number : Yes  
Single Line Question Option : No Option Orientation : Vertical  
Correct Marks : 1 Wrong Marks : 0.25

निम्न में शुद्ध वर्तनी वाला शब्द है:

Options :

- 1. ✖ प्रमणिक
- 2. ✖ प्रमाणिक
- 3. ✔ प्रामाणिक
- 4. ✖ प्रमाणीक

Question Number : 99 Question Id : 16794319080 Question Type : MCQ Option Shuffling : Yes Display Question Number : Yes  
Single Line Question Option : No Option Orientation : Vertical  
Correct Marks : 1 Wrong Marks : 0.25

निम्न में शुद्ध वर्तनी वाला शब्द है:

Options :

- 1. ✖ प्रमणिक
- 2. ✖ प्रमाणिक
- 3. ✔ प्रामाणिक
- 4. ✖ प्रमाणीक

Question Number : 100 Question Id : 16794319081 Question Type : MCQ Option Shuffling : Yes Display Question Number : Yes  
Single Line Question Option : No Option Orientation : Vertical  
Correct Marks : 1 Wrong Marks : 0.25

‘मैंने उससे बात किया था।’ वाक्य में अशुद्ध अंश है:

Options :

- 1. ✖ मैंने

2. ✖ उससे

3. ✖ बात

4. ✔ किया था।

Question Number : 100 Question Id : 16794319081 Question Type : MCQ Option Shuffling : Yes Display Question Number : Yes  
Single Line Question Option : No Option Orientation : Vertical

Correct Marks : 1 Wrong Marks : 0.25

‘मैंने उससे बात किया था।’ वाक्य में अशुद्ध अंश है:

Options :

1. ✖ मैंने

2. ✖ उससे

3. ✖ बात

4. ✔ किया था।

#### Subject Related

Group Number :	6
Group Id :	167943719
Group Maximum Duration :	0
Group Minimum Duration :	0
Revisit allowed for view? :	No
Revisit allowed for edit? :	No
Break time:	0
Group Marks:	20
Revisit allowed for group Instructions? :	Yes
Maximum Instruction Time:	0
Minimum Instruction Time:	0

#### Subject Related

Section Id :	167943784
Section Number :	1
Section type :	Online
Mandatory or Optional:	Mandatory
Number of Questions:	20
Number of Questions to be attempted:	20
Section Marks:	20
Display Number Panel:	Yes
Group All Questions:	No

Sub-Section Number: 1  
Sub-Section Id: 1679431213  
Question Shuffling Allowed : Yes

Question Number : 101 Question Id : 16794319082 Question Type : MCQ Option Shuffling : Yes Display Question Number : Yes  
Single Line Question Option : No Option Orientation : Vertical  
Correct Marks : 1 Wrong Marks : 0.25

Britain recognized Irish independence in the year \_\_\_\_\_.

Options :

- 1. ✖ 1959
- 2. ✔ 1949
- 3. ✖ 1999
- 4. ✖ 1939

Question Number : 101 Question Id : 16794319082 Question Type : MCQ Option Shuffling : Yes Display Question Number : Yes  
Single Line Question Option : No Option Orientation : Vertical  
Correct Marks : 1 Wrong Marks : 0.25

ब्रिटेन ने वर्ष \_\_\_\_\_ में आयरिश की आजादी को मान्यता दी।

Options :

- 1. ✖ 1959
- 2. ✔ 1949
- 3. ✖ 1999
- 4. ✖ 1939

Question Number : 102 Question Id : 16794319083 Question Type : MCQ Option Shuffling : Yes Display Question Number : Yes  
Single Line Question Option : No Option Orientation : Vertical  
Correct Marks : 1 Wrong Marks : 0.25

Practice of Sati was made illegal in the year \_\_\_\_\_.

Options :

- 1. ✖ 1830
- 2. ✖ 1820
- 3. ✔ 1829



4. ✖ 1800

Question Number : 102 Question Id : 16794319083 Question Type : MCQ Option Shuffling : Yes Display Question Number : Yes  
Single Line Question Option : No Option Orientation : Vertical

Correct Marks : 1 Wrong Marks : 0.25

वर्ष \_\_\_\_\_ में सती प्रथा को गैरकानूनी घोषित किया गया था।

Options :

1. ✖ 1830

2. ✖ 1820

3. ✔ 1829

4. ✖ 1800

Question Number : 103 Question Id : 16794319084 Question Type : MCQ Option Shuffling : Yes Display Question Number : Yes  
Single Line Question Option : No Option Orientation : Vertical

Correct Marks : 1 Wrong Marks : 0.25

All political parties were illegal in Russia before the year \_\_\_\_\_.

Options :

1. ✔ 1914

2. ✖ 1917

3. ✖ 1898

4. ✖ 1905

Question Number : 103 Question Id : 16794319084 Question Type : MCQ Option Shuffling : Yes Display Question Number : Yes  
Single Line Question Option : No Option Orientation : Vertical

Correct Marks : 1 Wrong Marks : 0.25

\_\_\_\_\_ से पहले रूस में सभी राजनीतिक दल गैरकानूनी थे।

Options :

1. ✔ 1914

2. ✖ 1917

3. ✖ 1898

4. ✖ 1905

Question Number : 104 Question Id : 16794319085 Question Type : MCQ Option Shuffling : Yes Display Question Number : Yes  
Single Line Question Option : No Option Orientation : Vertical

Correct Marks : 1 Wrong Marks : 0.25

Spain favoured the \_\_\_\_\_ during the time of social change in Europe.

Options :

1. ✖ Church of Spain
2. ✔ Catholic Church
3. ✖ Protestant Church
4. ✖ Pentecost Church

Question Number : 104 Question Id : 16794319085 Question Type : MCQ Option Shuffling : Yes Display Question Number : Yes  
Single Line Question Option : No Option Orientation : Vertical

Correct Marks : 1 Wrong Marks : 0.25

स्पेन ने यूरोप में सामाजिक परिवर्तन के दौरान \_\_\_\_\_ का पक्ष लिया।

Options :

1. ✖ स्पेन का चर्च
2. ✔ कैथोलिक चर्च
3. ✖ प्रोटेस्टेंट चर्च
4. ✖ पेंटेकोस्ट चर्च

Question Number : 105 Question Id : 16794319086 Question Type : MCQ Option Shuffling : Yes Display Question Number : Yes  
Single Line Question Option : No Option Orientation : Vertical

Correct Marks : 1 Wrong Marks : 0.25

Rasputin was an advisor to \_\_\_\_\_.

Options :

1. ✖ Czar William
2. ✖ Octavian-Nicolae Stansila
3. ✖ David Judit
4. ✔ Czar Nicholas II

Question Number : 105 Question Id : 16794319086 Question Type : MCQ Option Shuffling : Yes Display Question Number : Yes  
Single Line Question Option : No Option Orientation : Vertical

Correct Marks : 1 Wrong Marks : 0.25

रसपुतिन \_\_\_\_\_ के सलाहकार थे।

Options :

1. ✖ ज़ार विलियम
2. ✖ ओक्टावियन-निकोला स्ट्रांसिला
3. ✖ डेविड जुडिट
4. ✔ ज़ार निकोलस II

Question Number : 106 Question Id : 16794319087 Question Type : MCQ Option Shuffling : Yes Display Question Number : Yes  
Single Line Question Option : No Option Orientation : Vertical

Correct Marks : 1 Wrong Marks : 0.25

The Bolshevik were backed by which of these countries?

Options :

1. ✖ Malaysia
2. ✖ China
3. ✔ Japan
4. ✖ Thailand

Question Number : 106 Question Id : 16794319087 Question Type : MCQ Option Shuffling : Yes Display Question Number : Yes  
Single Line Question Option : No Option Orientation : Vertical

Correct Marks : 1 Wrong Marks : 0.25

बोल्शेविक का समर्थन किस देश में किया गया था?

Options :

1. ✖ मलेशिया
2. ✖ चीन
3. ✔ जापान
4. ✖ थाईलैंड

Question Number : 107 Question Id : 16794319088 Question Type : MCQ Option Shuffling : Yes Display Question Number : Yes  
Single Line Question Option : No Option Orientation : Vertical

Correct Marks : 1 Wrong Marks : 0.25

The German economy was worst hit in the year 1929 due to one of the following reasons:

Options :

1. ☒ Crash of wall street Exchange
2. ☐ War indemnity
3. ☐ Lack of industrial progress
4. ☐ Public uprising

Question Number : 107 Question Id : 16794319088 Question Type : MCQ Option Shuffling : Yes Display Question Number : Yes  
Single Line Question Option : No Option Orientation : Vertical

Correct Marks : 1 Wrong Marks : 0.25

निम्नलिखित कारणों में से किस एक के कारण वर्ष 1929 में जर्मनी की अर्थव्यवस्था सबसे बुरी तरह प्रभावित हुई थी?

Options :

1. ☒ वाल स्ट्रीट एक्सचेंज का क्रैश
2. ☐ युद्ध क्षतिपूर्ति
3. ☐ औद्योगिक प्रगति की कमी
4. ☐ जन उन्माद

Question Number : 108 Question Id : 16794319089 Question Type : MCQ Option Shuffling : Yes Display Question Number : Yes  
Single Line Question Option : No Option Orientation : Vertical

Correct Marks : 1 Wrong Marks : 0.25

In which year Hitler planned to seize control of Bavaria but failed and got arrested?

Options :

1. ☐ 1919
2. ☒ 1923
3. ☐ 1929
4. ☐ 1928

Question Number : 108 Question Id : 16794319089 Question Type : MCQ Option Shuffling : Yes Display Question Number : Yes  
Single Line Question Option : No Option Orientation : Vertical

Correct Marks : 1 Wrong Marks : 0.25

हिटलर ने किस वर्ष बावेरीया का नियंत्रण अपने अधिकार में करने की योजना बनाई लेकिन असफल हो गए और उन्हें गिरफ्तार कर लिया गया?

Options :

1. ✖ 1919
2. ✔ 1923
3. ✖ 1929
4. ✖ 1928

Question Number : 109 Question Id : 16794319090 Question Type : MCQ Option Shuffling : Yes Display Question Number : Yes  
Single Line Question Option : No Option Orientation : Vertical

Correct Marks : 1 Wrong Marks : 0.25

The people's car Volkswagen was the brain child of which of the following economists implemented as a part of economic recovery of Germany?

Options :

1. ✖ Robinson
2. ✖ Kalecki
3. ✔ Hjalmar Schacht
4. ✖ Ricardo

Question Number : 109 Question Id : 16794319090 Question Type : MCQ Option Shuffling : Yes Display Question Number : Yes  
Single Line Question Option : No Option Orientation : Vertical

Correct Marks : 1 Wrong Marks : 0.25

जनता की कार वोक्सवैगन निम्नलिखित अर्थशास्त्रियों में से एक का आविष्कार थी जो जर्मनी की आर्थिक सुधार के एक भाग के रूप में लागू किया गया।

Options :

1. ✖ रॉबिन्सन (Robinson)
2. ✖ कलेकी (Kalecki)
3. ✔ हयालमार शाख्त (Hjalmar Schacht)
4. ✖ रिकार्डो (Ricardo)

Question Number : 110 Question Id : 16794319091 Question Type : MCQ Option Shuffling : Yes Display Question Number : Yes  
Single Line Question Option : No Option Orientation : Vertical

Correct Marks : 1 Wrong Marks : 0.25

In which period Ghettoization was mated out to the Jews?

Options :

1. ✖ 1933-1939
2. ✔ 1940-1944
3. ✖ 1941-1945
4. ✖ 1929-1933

Question Number : 110 Question Id : 16794319091 Question Type : MCQ Option Shuffling : Yes Display Question Number : Yes  
Single Line Question Option : No Option Orientation : Vertical

Correct Marks : 1 Wrong Marks : 0.25

किस कालावधि में यहूदियों को अलग बस्तियों में ठहराया जाने लगा?

Options :

1. ✖ 1933-1939
2. ✔ 1940-1944
3. ✖ 1941-1945
4. ✖ 1929-1933

Question Number : 111 Question Id : 16794319092 Question Type : MCQ Option Shuffling : Yes Display Question Number : Yes  
Single Line Question Option : No Option Orientation : Vertical

Correct Marks : 1 Wrong Marks : 0.25

Who were the Deutsches Jungvolk?

Options :

1. ✖ Nazi Women Force
2. ✖ Nazi Army
3. ✔ Nazi Youth Group
4. ✖ Nazi Party collective

Question Number : 111 Question Id : 16794319092 Question Type : MCQ Option Shuffling : Yes Display Question Number : Yes  
Single Line Question Option : No Option Orientation : Vertical

Correct Marks : 1 Wrong Marks : 0.25

डॉयचेस युंगफ़ोल्क (Deutsches Jungvolk) कौन थे?

Options :



1. ✖ नाज़ी महिला बल
2. ✖ नाज़ी सेना
3. ✔ नाज़ी युवा समूह
4. ✖ नाज़ी पार्टी सामूहिक

Question Number : 112 Question Id : 16794319093 Question Type : MCQ Option Shuffling : Yes Display Question Number : Yes  
Single Line Question Option : No Option Orientation : Vertical

Correct Marks : 1 Wrong Marks : 0.25

Which of the following Governor Generals was mocked by the British press for advocating clemency?

Options :

1. ✔ Lord Canning
2. ✖ Lord Dalhousie
3. ✖ Lord Dufferin
4. ✖ Lord ConVogus

Question Number : 112 Question Id : 16794319093 Question Type : MCQ Option Shuffling : Yes Display Question Number : Yes  
Single Line Question Option : No Option Orientation : Vertical

Correct Marks : 1 Wrong Marks : 0.25

ब्रिटिश प्रेस द्वारा निम्नलिखित में से क्षमादान की पैरी करने वाले किस गवर्नर जनरल का मज़ाक उड़ाया गया था?

Options :

1. ✔ लॉर्ड कैनिंग
2. ✖ लार्ड डलहौजी
3. ✖ लॉर्ड डफरिन
4. ✖ लॉर्ड कोनवोगस

Question Number : 113 Question Id : 16794319094 Question Type : MCQ Option Shuffling : Yes Display Question Number : Yes  
Single Line Question Option : No Option Orientation : Vertical

Correct Marks : 1 Wrong Marks : 0.25

Gangadhar Nehru was \_\_\_\_\_.

Options :

1. ✓ Kotwal of Delhi before the revolt of 1857
2. ✗ Zamindar of Delhi
3. ✗ Minister of counselling court of Kashmir
4. ✗ Minister in Independent India

Question Number : 113 Question Id : 16794319094 Question Type : MCQ Option Shuffling : Yes Display Question Number : Yes  
Single Line Question Option : No Option Orientation : Vertical

Correct Marks : 1 Wrong Marks : 0.25

गंगाधर नेहरू \_\_\_\_\_ थे।

Options :

1. ✓ 1857 के विद्रोह से पहले दिल्ली के कोतवाल
2. ✗ दिल्ली के ज़मीनदार
3. ✗ कश्मीर के परामर्श न्यायालय मंत्री
4. ✗ स्वतंत्र भारत में मंत्री

Question Number : 114 Question Id : 16794319095 Question Type : MCQ Option Shuffling : Yes Display Question Number : Yes  
Single Line Question Option : No Option Orientation : Vertical

Correct Marks : 1 Wrong Marks : 0.25

After the American War of Independence from 1775 to 1783 and the formation of the United States of America, the white Americans began to move towards which direction?

Options :

1. ✗ Eastward
2. ✓ Westward
3. ✗ Northward
4. ✗ Southward

Question Number : 114 Question Id : 16794319095 Question Type : MCQ Option Shuffling : Yes Display Question Number : Yes  
Single Line Question Option : No Option Orientation : Vertical

Correct Marks : 1 Wrong Marks : 0.25

1775 से 1783 तक अमेरिकी स्वतंत्रता संघर्ष के बाद और संयुक्त राज्य अमेरिका के गठन के बाद, श्वेत अमेरिकियों ने किस दिशा में आगे बढ़ना शुरू किया?

Options :

1. ✖ पूर्व की ओर
2. ✔ पश्चिम की ओर
3. ✖ उत्तर की ओर
4. ✖ दक्षिण की ओर

Question Number : 115 Question Id : 16794319096 Question Type : MCQ Option Shuffling : Yes Display Question Number : Yes  
Single Line Question Option : No Option Orientation : Vertical

Correct Marks : 1 Wrong Marks : 0.25

The earliest factories in England came up by the 1730's. But it was only in the late \_\_\_\_\_ that the number of factories multiplied.

Options :

1. ✖ Seventeenth century
2. ✔ Eighteenth century
3. ✖ Nineteenth century
4. ✖ Twentieth century

Question Number : 115 Question Id : 16794319096 Question Type : MCQ Option Shuffling : Yes Display Question Number : Yes  
Single Line Question Option : No Option Orientation : Vertical

Correct Marks : 1 Wrong Marks : 0.25

इंग्लैंड में सबसे पहले फैक्टरी की शुरुआत 1730 के दशक में की गई थी, लेकिन केवल \_\_\_\_\_ के अंत में कारखानों की संख्या में वृद्धि हुई।

Options :

1. ✖ सत्रहवीं सदी
2. ✔ अठारहवीं सदी
3. ✖ उन्नीसवीं सदी
4. ✖ बीसवीं सदी

Question Number : 116 Question Id : 16794319097 Question Type : MCQ Option Shuffling : Yes Display Question Number : Yes  
Single Line Question Option : No Option Orientation : Vertical

Correct Marks : 1 Wrong Marks : 0.25

From 1834 till 1920, ships left the ports of India on a regular basis carrying people of various religions, gender, classes and castes destined to work for a minimum of five years on one of the plantations in these countries:

Options :

1. ✖ Srilanka
2. ✖ Malaysia
3. ✖ Singapore
4. ✔ Mauritius

Question Number : 116 Question Id : 16794319097 Question Type : MCQ Option Shuffling : Yes Display Question Number : Yes  
Single Line Question Option : No Option Orientation : Vertical

Correct Marks : 1 Wrong Marks : 0.25

1834 से 1920 तक, नियमित रूप से भारत के बंदरगाहों से विभिन्न धर्मों, वर्गों और जाति और समुदाय के लोगों को जहाज से ले जाते थे, जो किस देश में वृक्षारोपण में से कम से कम पांच साल तक काम करने के लिए नियत थे?

Options :

1. ✖ श्रीलंका
2. ✖ मलेशिया
3. ✖ सिंगापुर
4. ✔ मॉरीशस

Question Number : 117 Question Id : 16794319098 Question Type : MCQ Option Shuffling : Yes Display Question Number : Yes  
Single Line Question Option : No Option Orientation : Vertical

Correct Marks : 1 Wrong Marks : 0.25

Whom did the peasants consider as oppressors and also as allies of the British before the Revolt of 1857?

Options :

1. ✖ Indian rulers
2. ✔ Money lenders and Rich Indians
3. ✖ Upper caste people
4. ✖ Lower caste people

Question Number : 117 Question Id : 16794319098 Question Type : MCQ Option Shuffling : Yes Display Question Number : Yes  
Single Line Question Option : No Option Orientation : Vertical

Correct Marks : 1 Wrong Marks : 0.25

1857 के विद्रोह से पहले किसानों ने दमन करने वालों और अंग्रेजों के सहयोगियों के रूप में किसे माना था?

Options :

1. ✖ भारतीय शासक
2. ✔ महाजनों (धन उधारदाताओं) और समृद्ध भारतीयों
3. ✖ सवर्ण जाति के लोग
4. ✖ अवर्ण जाति के लोग

Question Number : 118 Question Id : 16794319099 Question Type : MCQ Option Shuffling : Yes Display Question Number : Yes  
Single Line Question Option : No Option Orientation : Vertical

Correct Marks : 1 Wrong Marks : 0.25

After the annexation of which of these places did the religious leaders and self-styled prophets preached the destruction of British rule before the Revolt of 1857?

Options :

1. ✖ Hyderabad Nizam
2. ✔ Awadh
3. ✖ Maharashtra
4. ✖ Bengal

Question Number : 118 Question Id : 16794319099 Question Type : MCQ Option Shuffling : Yes Display Question Number : Yes  
Single Line Question Option : No Option Orientation : Vertical

Correct Marks : 1 Wrong Marks : 0.25

1857 के विद्रोह से पहले धार्मिक नेताओं और स्वयं-घोषित मसीहों ने ब्रिटिश शासन के विनाश का प्रचार किस तरह किया था?

Options :

1. ✖ हैदराबाद निजाम
2. ✔ अवध
3. ✖ महाराष्ट्र
4. ✖ बंगाल

Question Number : 119 Question Id : 16794319100 Question Type : MCQ Option Shuffling : Yes Display Question Number : Yes  
Single Line Question Option : No Option Orientation : Vertical

Correct Marks : 1 Wrong Marks : 0.25



Mention the name of the Moulvi who participated in 1857 Revolt.

Options :

1. ☒ Moulvi Ahmadullah Shah
2. ☐ Moulvi Bismillah Khan
3. ☐ Moulvi Abdul Rehman
4. ☐ Moulvi Rahamatullah

Question Number : 119 Question Id : 16794319100 Question Type : MCQ Option Shuffling : Yes Display Question Number : Yes  
Single Line Question Option : No Option Orientation : Vertical

Correct Marks : 1 Wrong Marks : 0.25

1857 के विद्रोह में भाग लेने वाले मौलवी के नाम का उल्लेख करें।

Options :

1. ☒ मौलवी अहमदुल्लाह शाह
2. ☐ मौलवी बिस्मिल्लाह खान
3. ☐ मौलवी अब्दुल रहमान
4. ☐ मौलवी रहमातुल्लाह

Question Number : 120 Question Id : 16794319101 Question Type : MCQ Option Shuffling : Yes Display Question Number : Yes  
Single Line Question Option : No Option Orientation : Vertical

Correct Marks : 1 Wrong Marks : 0.25

Under whose leadership from 1820, did the British adopt policies aimed at “reforming” Indian society by introducing Western education, Western ideas and Western institutions?

Options :

1. ☒ Governor General Lord William Bentinck
2. ☐ Governor General Lord Dalhousie
3. ☐ Governor General Lord Cornwallis
4. ☐ Governor General Lord Warren Hastings

Question Number : 120 Question Id : 16794319101 Question Type : MCQ Option Shuffling : Yes Display Question Number : Yes  
Single Line Question Option : No Option Orientation : Vertical

Correct Marks : 1 Wrong Marks : 0.25

1820 से किसके नेतृत्व में, अंग्रेजों ने पश्चिमी शिक्षा, पश्चिमी विचारों और पश्चिमी संस्थानों को शुरू करके भारतीय समाज को "सुधारने" के उद्देश्य से नीतियों को अपनाया?

Options :

1. ✓ गवर्नर जनरल लॉर्ड विलियम बैंटिंक
2. ✗ गवर्नर जनरल लॉर्ड डलहौली
3. ✗ गवर्नर जनरल लॉर्ड कॉर्नवालिस
4. ✗ गवर्नर जनरल लॉर्ड वॉरेन हेस्टिंग्स

#### Subject Related

Group Number :	7
Group Id :	167943720
Group Maximum Duration :	0
Group Minimum Duration :	0
Revisit allowed for view? :	No
Revisit allowed for edit? :	No
Break time:	0
Group Marks:	20
Revisit allowed for group Instructions? :	Yes
Maximum Instruction Time:	0
Minimum Instruction Time:	0

#### Subject Related

Section Id :	167943785
Section Number :	1
Section type :	Online
Mandatory or Optional:	Mandatory
Number of Questions:	20
Number of Questions to be attempted:	20
Section Marks:	20
Display Number Panel:	Yes
Group All Questions:	No

Sub-Section Number:	1
Sub-Section Id:	1679431214
Question Shuffling Allowed :	Yes

Question Number : 121 Question Id : 16794319102 Question Type : MCQ Option Shuffling : Yes Display Question Number : Yes  
Single Line Question Option : No Option Orientation : Vertical  
Correct Marks : 1 Wrong Marks : 0.25

Complete the statement choosing the appropriate options.

The Arms Act was passed in the year \_\_\_\_\_, disallowing Indians from possessing arms. In the same year the \_\_\_\_\_ was also enacted to silence those who were critical of the government.

Options :

1. ✖ 1887; Regulating Act
2. ✔ 1878; Vernacular Press Act
3. ✖ 1848; Regulating Act
4. ✖ 1887; Vernacular Press Act

Question Number : 121 Question Id : 16794319102 Question Type : MCQ Option Shuffling : Yes Display Question Number : Yes  
Single Line Question Option : No Option Orientation : Vertical

Correct Marks : 1 Wrong Marks : 0.25

सही विकल्प का चयन करके कथन को पूरा करें।

भारतीयों को हथियार रखने अनुमति न देने वाला शस्त्र कानून (आर्म एक्ट) वर्ष \_\_\_\_\_ में पारित किया गया था। उसी वर्ष सरकार की आलोचना करने वालों का मुंह बन्द करने के लिए \_\_\_\_\_ भी लागू किया गया।

Options :

1. ✖ 1887, विनियमन अधिनियम
2. ✔ 1878, देशी प्रेस अधिनियम
3. ✖ 1848, विनियमन अधिनियम
4. ✖ 1887, देशी प्रेस अधिनियम

Question Number : 122 Question Id : 16794319103 Question Type : MCQ Option Shuffling : Yes Display Question Number : Yes  
Single Line Question Option : No Option Orientation : Vertical

Correct Marks : 1 Wrong Marks : 0.25

Identify the leaders from Bengal, Maharashtra and Punjab, who explored more radical objectives and methods. They criticised the Moderates for their “politics of prayers”, and emphasised the importance of self-reliance and constructive work.

Options :

1. ✖ M.K. Gandhi, Jawaharlal Nehru and Sardar Vallabhai Patel
2. ✖ Sardar Vallabhai Patel, Rajagopala Chari and Sarvepalli Radha Krishna

3. ✓ Bipin Chandra Pal, Bal Gangadhar Tilak and Lala Lajpat Rai

4. ✗ Bipin Chandra Pal, Bal Gangadhar Tilak and Lala Sitaram Rai

Question Number : 122 Question Id : 16794319103 Question Type : MCQ Option Shuffling : Yes Display Question Number : Yes  
Single Line Question Option : No Option Orientation : Vertical

Correct Marks : 1 Wrong Marks : 0.25

बंगाल, महाराष्ट्र और पंजाब के नेताओं की पहचान करें, जिन्होंने अधिक अतिवादी उद्देश्यों और तरीकों की खोज की। उन्होंने उदारवादियों की उनकी "प्रार्थनाओं की राजनीति" के लिए आलोचना की और आत्मनिर्भरता और रचनात्मक कार्य के महत्व पर बल दिया।

Options :

1. ✗ एम.के. गांधी, जवाहरलाल नेहरू और सरदार वल्लभभाई पटेल

2. ✗ सरदार वल्लभभाई पटेल, राजगोपालचारी, सर्वपल्लि राधाकृष्णन

3. ✓ बिपीन चंद्र पाल, बाल गंगाधर तिलक और लाला लाजपत राय

4. ✗ बिपीन चंद्र पाल, बाल गंगाधर तिलक और लाला सीताराम राय

Question Number : 123 Question Id : 16794319104 Question Type : MCQ Option Shuffling : Yes Display Question Number : Yes  
Single Line Question Option : No Option Orientation : Vertical

Correct Marks : 1 Wrong Marks : 0.25

Gandhiji abruptly called off the Non-Cooperation Movement in February 1922 when a crowd of peasants set fire to a police station in which of these places?

Options :

1. ✗ Assam

2. ✗ Jallianwala Bagh

3. ✗ Utter Provinces

4. ✓ Chauri Chaura

Question Number : 123 Question Id : 16794319104 Question Type : MCQ Option Shuffling : Yes Display Question Number : Yes  
Single Line Question Option : No Option Orientation : Vertical

Correct Marks : 1 Wrong Marks : 0.25

गांधीजी ने फरवरी 1922 में अचानक असहयोग आंदोलन को वापस लिया जब किसानों की एक भीड़ ने इन स्थानों में से एक पुलिस स्टेशन में आग लगा दी?

Options :

1. ✗ असम



2. ✖ जलियांवाला बाग

3. ✖ उत्तर प्रांत

4. ✔ चौरी चौरा

Question Number : 124 Question Id : 16794319105 Question Type : MCQ Option Shuffling : Yes Display Question Number : Yes  
Single Line Question Option : No Option Orientation : Vertical

Correct Marks : 1 Wrong Marks : 0.25

Who threw the bomb in the Central Legislative Assembly on 8 April 1929 with the aim pf not to kill but to “to make the deaf hear” with fellow nationalist B.K. Dutt?

Options :

1. ✔ Bhagat Singh

2. ✖ Subash Chandra Bose

3. ✖ Lala Lajpat Rai

4. ✖ Vanchinathan

Question Number : 124 Question Id : 16794319105 Question Type : MCQ Option Shuffling : Yes Display Question Number : Yes  
Single Line Question Option : No Option Orientation : Vertical

Correct Marks : 1 Wrong Marks : 0.25

8 अप्रैल 1929 को सेंट्रल असेंबली (आजकल की संसद) में किन्होंने अपने राष्ट्रवादी साथी बी. के. दत्त के साथ मारने के उद्देश्य से नहीं बल्कि “बहरों को आवाज सुनाने के लिए” के लिए बम फेंका था?

Options :

1. ✔ भगत सिंह

2. ✖ सुभाष चंद्र बोस

3. ✖ लाला लाजपत राय

4. ✖ वंचिनाथन

Question Number : 125 Question Id : 16794319106 Question Type : MCQ Option Shuffling : Yes Display Question Number : Yes  
Single Line Question Option : No Option Orientation : Vertical

Correct Marks : 1 Wrong Marks : 0.25

Who persuaded Mahatma Gandhi to allow women to participate in Salt Satyagraha though Gandhiji Initially opposed women participation?

Options :

1. ✖ Jawaharlal Nehru

2. ✔ Sarojini Naidu

3. ✖ Bal Gangadhar Tilak

4. ✖ Kasturba Gandhi

Question Number : 125 Question Id : 16794319106 Question Type : MCQ Option Shuffling : Yes Display Question Number : Yes  
Single Line Question Option : No Option Orientation : Vertical

Correct Marks : 1 Wrong Marks : 0.25

नमक सत्याग्रह में महिलाओं को भाग लेने की इजाजत देने के लिए महात्मा गांधी को किसने राजी किया था, हालांकि गांधीजी ने पहले महिलाओं के भाग लेने का विरोध किया था?

Options :

1. ✖ जवाहर लाल नेहरू

2. ✔ सरोजिनी नायडू

3. ✖ बाल गंगाधर तिलक

4. ✖ कस्तूरबा गांधी

Question Number : 126 Question Id : 16794319107 Question Type : MCQ Option Shuffling : Yes Display Question Number : Yes  
Single Line Question Option : No Option Orientation : Vertical

Correct Marks : 1 Wrong Marks : 0.25

The end of Second World war can also be known as the beginning of \_\_\_\_\_.

Options :

1. ✔ Cold war

2. ✖ Nuclear war

3. ✖ Missile war

4. ✖ Bio war

Question Number : 126 Question Id : 16794319107 Question Type : MCQ Option Shuffling : Yes Display Question Number : Yes  
Single Line Question Option : No Option Orientation : Vertical

Correct Marks : 1 Wrong Marks : 0.25

द्वितीय विश्व युद्ध के अंत को \_\_\_\_\_ के आरंभकाल के रूप में भी जाना जाता है।

Options :



1. ☒ शीत युद्ध
2. ☐ परमाणु युद्ध
3. ☐ मिसाइल युद्ध
4. ☐ जैव युद्ध

Question Number : 127 Question Id : 16794319108 Question Type : MCQ Option Shuffling : Yes Display Question Number : Yes  
Single Line Question Option : No Option Orientation : Vertical

Correct Marks : 1 Wrong Marks : 0.25

Identify the Warsaw Pact Member country among these.

Options :

1. ☒ East Germany
2. ☐ West Germany
3. ☐ Turkey
4. ☐ Austria

Question Number : 127 Question Id : 16794319108 Question Type : MCQ Option Shuffling : Yes Display Question Number : Yes  
Single Line Question Option : No Option Orientation : Vertical

Correct Marks : 1 Wrong Marks : 0.25

इनमें से वारसाँ संधि के सदस्य देश की पहचान करें।

Options :

1. ☒ पूर्वी जर्मनी
2. ☐ पश्चिम जर्मनी
3. ☐ तुर्की
4. ☐ ऑस्ट्रिया

Question Number : 128 Question Id : 16794319109 Question Type : MCQ Option Shuffling : Yes Display Question Number : Yes  
Single Line Question Option : No Option Orientation : Vertical

Correct Marks : 1 Wrong Marks : 0.25

The Eastern alliance led by the Soviet Union, was created in the year \_\_\_\_\_ and its principal function was to counter \_\_\_\_\_ forces in Europe.

Options :

1. ✖ 1965; NATO's
2. ✖ 1955; Warsaw Pact's
3. ✔ 1955; NATO's
4. ✖ 1965; Warsaw Pact's

Question Number : 128 Question Id : 16794319109 Question Type : MCQ Option Shuffling : Yes Display Question Number : Yes  
Single Line Question Option : No Option Orientation : Vertical

Correct Marks : 1 Wrong Marks : 0.25

सोवियत संघ के नेतृत्व में ईस्टर्न अलायंस (पूर्वी गठबंधन), वर्ष \_\_\_\_\_ में किया गया था और इसका मुख्य कार्य यूरोप में \_\_\_\_\_ बलों का मुकाबला करना था।

Options :

1. ✖ 1965, नाटो के
2. ✖ 1955, वारसाँ संधि के
3. ✔ 1955, नाटो के
4. ✖ 1965, वारसाँ संधि के

Question Number : 129 Question Id : 16794319110 Question Type : MCQ Option Shuffling : Yes Display Question Number : Yes  
Single Line Question Option : No Option Orientation : Vertical

Correct Marks : 1 Wrong Marks : 0.25

One among these is not the founder of NAM.

Options :

1. ✖ Gamal Abdel Nasser
2. ✖ Josip Broz Tito
3. ✖ Jawaharlal Nehru
4. ✔ Hubert Pierlot

Question Number : 129 Question Id : 16794319110 Question Type : MCQ Option Shuffling : Yes Display Question Number : Yes  
Single Line Question Option : No Option Orientation : Vertical

Correct Marks : 1 Wrong Marks : 0.25

इनमें से एक गुटनिरपेक्ष आंदोलन (एन. ए. एम.) के संस्थापक नहीं थे?

Options :

1. ✖ जमाल अब्देल नासेर
2. ✖ जोसिप ब्रोज टीटो
3. ✖ जवाहर लाल नेहरू
4. ✔ हबर्ट पिएल्लोत

Question Number : 130 Question Id : 16794319111 Question Type : MCQ Option Shuffling : Yes Display Question Number : Yes  
Single Line Question Option : No Option Orientation : Vertical

Correct Marks : 1 Wrong Marks : 0.25

Who waged a battle in the 1960's against anti-Black racial discrimination in the USA?

Options :

1. ✔ Martin Luther King
2. ✖ Abraham Lincoln
3. ✖ Thomas Jefferson
4. ✖ John F. Kennedy

Question Number : 130 Question Id : 16794319111 Question Type : MCQ Option Shuffling : Yes Display Question Number : Yes  
Single Line Question Option : No Option Orientation : Vertical

Correct Marks : 1 Wrong Marks : 0.25

संयुक्त राज्य अमेरिका में अश्वेत-नस्ल-विरोधी भेदभाव के खिलाफ 1960 के दशक में किसने युद्ध लड़ा था?

Options :

1. ✔ मार्टिन लूथर किंग
2. ✖ अब्राहम लिंकन
3. ✖ थॉमस जेफरसन
4. ✖ जॉन एफ़ कैनेडी

Question Number : 131 Question Id : 16794319112 Question Type : MCQ Option Shuffling : Yes Display Question Number : Yes  
Single Line Question Option : No Option Orientation : Vertical

Correct Marks : 1 Wrong Marks : 0.25

Tehran Conference Declaration of the Three Powers (US, Britain and Soviet Union) was made in which period?

Options :

1. ✖ 1945, February
2. ✔ 1943, December
3. ✖ 1945, June
4. ✖ 1945, October

Question Number : 131 Question Id : 16794319112 Question Type : MCQ Option Shuffling : Yes Display Question Number : Yes  
Single Line Question Option : No Option Orientation : Vertical

Correct Marks : 1 Wrong Marks : 0.25

तीन शक्तियों (यूएस, ब्रिटेन और सोवियत संघ) के तेहरान सम्मेलन घोषणा किस कालावधि में की गई थी?

Options :

1. ✖ 1945 फरवरी
2. ✔ 1943 दिसंबर
3. ✖ 1945 जून
4. ✖ 1945 अक्टूबर

Question Number : 132 Question Id : 16794319113 Question Type : MCQ Option Shuffling : Yes Display Question Number : Yes  
Single Line Question Option : No Option Orientation : Vertical

Correct Marks : 1 Wrong Marks : 0.25

Peace keeping operations and Missions come under which category in the United Nations System Principal Organs?

Options :

1. ✖ Programs and funds
2. ✖ Non-Subsidiary bodies
3. ✖ Economic and social council
4. ✔ Subsidiary bodies

Question Number : 132 Question Id : 16794319113 Question Type : MCQ Option Shuffling : Yes Display Question Number : Yes  
Single Line Question Option : No Option Orientation : Vertical

Correct Marks : 1 Wrong Marks : 0.25

संयुक्त राष्ट्र प्रणाली संस्था में किस श्रेणी के तहत शांति बहाली संचालन और मिशन आते हैं?

Options :

1. ✖ कार्यक्रम और निधि
2. ✖ गैर-सहायक संस्थाएं
3. ✖ आर्थिक और सामाजिक परिषद
4. ✔ सहायक निकाय

Question Number : 133 Question Id : 16794319114 Question Type : MCQ Option Shuffling : Yes Display Question Number : Yes  
Single Line Question Option : No Option Orientation : Vertical

Correct Marks : 1 Wrong Marks : 0.25

Which UN Secretary General negotiated the independence of Namibia?

Options :

1. ✖ U. Thant
2. ✖ Kurt Waldheim
3. ✔ Javier Perez de Cuellar
4. ✖ Boutros - Ghali

Question Number : 133 Question Id : 16794319114 Question Type : MCQ Option Shuffling : Yes Display Question Number : Yes  
Single Line Question Option : No Option Orientation : Vertical

Correct Marks : 1 Wrong Marks : 0.25

संयुक्त राष्ट्र महासचिव ने नामीबिया की स्वतंत्रता पर बातचीत की?

Options :

1. ✖ यू थेंट
2. ✖ कर्ट वाल्डहेम
3. ✔ जेवियर पेरिज डी कुईयार
4. ✖ बूत्रोस घाली

Question Number : 134 Question Id : 16794319115 Question Type : MCQ Option Shuffling : Yes Display Question Number : Yes  
Single Line Question Option : No Option Orientation : Vertical

Correct Marks : 1 Wrong Marks : 0.25

Who declared the US-led invasion of Iraq as an illegal act?

Options :



1. ☒ Kofi A. Annan
2. ☐ Javier Perez de Cuellar
3. ☐ Kurt Waldheim
4. ☐ Trygve Lie

Question Number : 134 Question Id : 16794319115 Question Type : MCQ Option Shuffling : Yes Display Question Number : Yes  
Single Line Question Option : No Option Orientation : Vertical

Correct Marks : 1 Wrong Marks : 0.25

किसने इराक में अमेरिकी नेतृत्व वाले आक्रमण को अवैध अधिनियम घोषित किया था?

Options :

1. ☒ कोफी ए अन्नान
2. ☐ जेवियर पेरेज़ डी कुईयार
3. ☐ कर्ट वाल्डहेम
4. ☐ ट्रिग्वी ली

Question Number : 135 Question Id : 16794319116 Question Type : MCQ Option Shuffling : Yes Display Question Number : Yes  
Single Line Question Option : No Option Orientation : Vertical

Correct Marks : 1 Wrong Marks : 0.25

The World Bank was created immediately after the \_\_\_\_\_.

Options :

1. ☐ World War 1
2. ☒ World War 2
3. ☐ Cold War
4. ☐ Economic crisis in USA

Question Number : 135 Question Id : 16794319116 Question Type : MCQ Option Shuffling : Yes Display Question Number : Yes  
Single Line Question Option : No Option Orientation : Vertical

Correct Marks : 1 Wrong Marks : 0.25

विश्व बैंक का गठन किस घटना के तुरंत बाद किया गया था?

Options :



1. ✖ प्रथम विश्व युद्ध

2. ✔ द्वितीय विश्व युद्ध

3. ✖ शीत युद्ध

4. ✖ संयुक्त राज्य अमेरिका में आर्थिक संकट

Question Number : 136 Question Id : 16794319117 Question Type : MCQ Option Shuffling : Yes Display Question Number : Yes  
Single Line Question Option : No Option Orientation : Vertical

Correct Marks : 1 Wrong Marks : 0.25

When was the World trade Organization set up?

Options :

1. ✖ 1994

2. ✔ 1995

3. ✖ 1996

4. ✖ 1997

Question Number : 136 Question Id : 16794319117 Question Type : MCQ Option Shuffling : Yes Display Question Number : Yes  
Single Line Question Option : No Option Orientation : Vertical

Correct Marks : 1 Wrong Marks : 0.25

विश्व व्यापार संगठन की स्थापना कब की गई थी?

Options :

1. ✖ 1994

2. ✔ 1995

3. ✖ 1996

4. ✖ 1997

Question Number : 137 Question Id : 16794319118 Question Type : MCQ Option Shuffling : Yes Display Question Number : Yes  
Single Line Question Option : No Option Orientation : Vertical

Correct Marks : 1 Wrong Marks : 0.25

To which country did Karl Marx exile and lived there till death?

Options :

1. ✖ France
2. ✖ Japan
3. ✖ USA
4. ✔ England

Question Number : 137 Question Id : 16794319118 Question Type : MCQ Option Shuffling : Yes Display Question Number : Yes  
Single Line Question Option : No Option Orientation : Vertical

Correct Marks : 1 Wrong Marks : 0.25

निर्वासित होने पर, कार्ल मार्क्स किस देश चले गए और वहाँ आभरण स्थायी हो गए?

Options :

1. ✖ फ्रांस
2. ✖ जापान
3. ✖ अमेरीका
4. ✔ इंग्लैंड

Question Number : 138 Question Id : 16794319119 Question Type : MCQ Option Shuffling : Yes Display Question Number : Yes  
Single Line Question Option : No Option Orientation : Vertical

Correct Marks : 1 Wrong Marks : 0.25

In the February Revolution in Petrograd, women led the strike and this came to be known as:

Options :

1. ✖ Socialism in Russia
2. ✔ International Women's Day
3. ✖ Women Empowerment in Russia
4. ✖ Freedom of Women in Russia

Question Number : 138 Question Id : 16794319119 Question Type : MCQ Option Shuffling : Yes Display Question Number : Yes  
Single Line Question Option : No Option Orientation : Vertical

Correct Marks : 1 Wrong Marks : 0.25

पेट्रोग्रेड में फरवरी क्रांति में, महिलाओं ने हड़ताल का नेतृत्व किया और इसे इस रूप में जाना जाने लगा:

Options :

1. ✖ रूस में समाजवाद

2. ✓ अंतर्राष्ट्रीय महिला दिवस

3. ✗ रूस में महिला सशक्तिकरण

4. ✗ रूस में महिलाओं की स्वतंत्रता

Question Number : 139 Question Id : 16794319120 Question Type : MCQ Option Shuffling : Yes Display Question Number : Yes  
Single Line Question Option : No Option Orientation : Vertical

Correct Marks : 1 Wrong Marks : 0.25

What was *Lenin* April thesis?

Options :

1. ✗

Lenin declared that the war be brought to a close, land be transferred to the peasants, and banks be closed permanently.

2. ✗

Lenin declared that the war to be continued, land be transferred to the peasants, and banks be nationalized.

3. ✗

Lenin declared that the war be brought to a close, land be nationalised, and banks be nationalized.

4. ✓

Lenin declared that the war be brought to a close, land be transferred to the peasants, and banks be nationalized.

Question Number : 139 Question Id : 16794319120 Question Type : MCQ Option Shuffling : Yes Display Question Number : Yes  
Single Line Question Option : No Option Orientation : Vertical

Correct Marks : 1 Wrong Marks : 0.25

लेनिन अप्रैल थीसिस क्या था?

Options :

1. ✗

लेनिन ने घोषित किया कि युद्ध को समाप्त किया जाए, जमीन किसानों को स्थानांतरित कर दी जाएगी और बैंक स्थायी रूप से बंद किए जाएं

2. ✗

लेनिन ने घोषित किया कि युद्ध जारी रखा जाए, जमीन किसानों को स्थानांतरित की जाए और बैंकों को राष्ट्रीयकृत किया जाए

3. ✗

लेनिन ने घोषित किया कि युद्ध को समाप्त किया जाए, जमीन राष्ट्रीयकृत की जाए और बैंकों को राष्ट्रीयकृत किया जाए

4. ✓

लेनिन ने घोषित किया कि युद्ध को समाप्त किया जाए, जमीन किसानों को स्थानांतरित कर दी जाए और बैंकों को राष्ट्रीयकृत किया जाए

Question Number : 140 Question Id : 16794319121 Question Type : MCQ Option Shuffling : Yes Display Question Number : Yes  
Single Line Question Option : No Option Orientation : Vertical

Correct Marks : 1 Wrong Marks : 0.25

Complete the sentence.

The main initiators for the Russian Civil War were 'The Reds', 'The Whites' and '\_\_\_\_\_'.

Options :

1. ☒ The Greens

2. ☐ The Blues

3. ☐ The Oranges

4. ☐ The Blacks

Question Number : 140 Question Id : 16794319121 Question Type : MCQ Option Shuffling : Yes Display Question Number : Yes  
Single Line Question Option : No Option Orientation : Vertical

Correct Marks : 1 Wrong Marks : 0.25

वाक्य को पूरा करें।

रूसी गृहयुद्ध के लिए मुख्य आरंभकर्ता 'द रेड्स', 'द व्हाइट' और \_\_\_\_\_ थे।

Options :

1. ☒ द ग्रीन

2. ☐ द ब्लू

3. ☐ द ऑरेंज

4. ☐ द ब्लैक

Subject Related

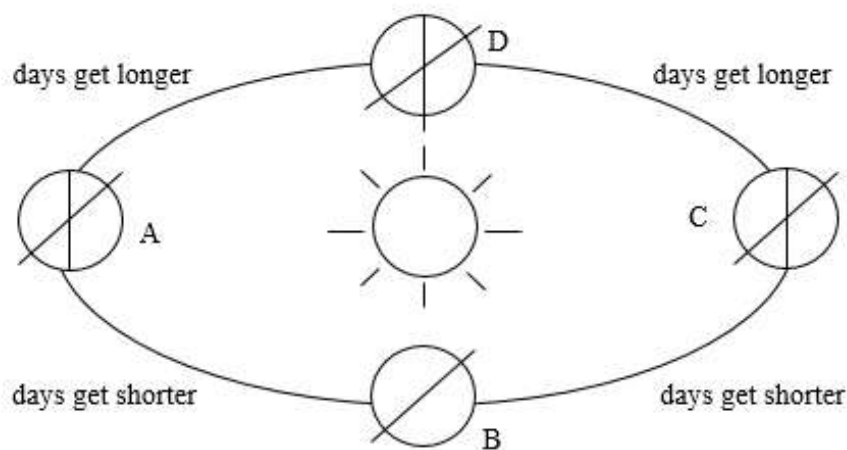
Group Number :	8
Group Id :	167943721
Group Maximum Duration :	0
Group Minimum Duration :	0
Revisit allowed for view? :	No
Revisit allowed for edit? :	No
Break time:	0
Group Marks:	20
Revisit allowed for group Instructions? :	Yes
Maximum Instruction Time:	0
Minimum Instruction Time:	0

	Subject Related
Section Id :	167943786
Section Number :	1
Section type :	Online
Mandatory or Optional:	Mandatory
Number of Questions:	20
Number of Questions to be attempted:	20
Section Marks:	20
Display Number Panel:	Yes
Group All Questions:	No

Sub-Section Number:	1
Sub-Section Id:	1679431215
Question Shuffling Allowed :	Yes

Question Number : 141 Question Id : 16794319122 Question Type : MCQ Option Shuffling : Yes Display Question Number : Yes  
 Single Line Question Option : No Option Orientation : Vertical  
 Correct Marks : 1 Wrong Marks : 0.25

Identify what is A, B, C and D?



Options :

- A: Summer Solstice
- B: Autumnal Equinox
- C: Winter Solstice
- D: Vernal Equinox

1. ✓

- A: Summer Solstice
- B: Winter Solstice
- C: Autumnal Equinox
- D: Vernal Equinox

2. ✗



- A: Summer Solstice  
B: Autumnal Equinox  
C: Vernal Equinox  
D: Winter Solstice

3. ✖

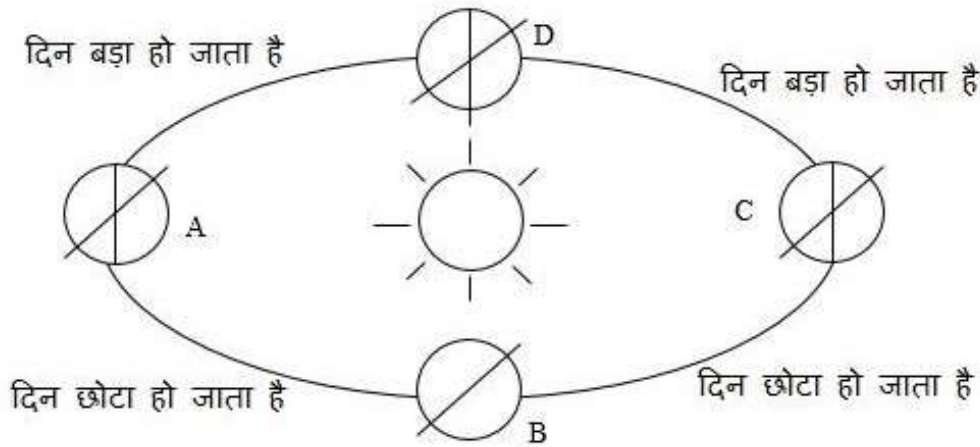
- A: Autumnal Equinox  
B: Summer Solstice  
C: Winter Solstice  
D: Vernal Equinox

4. ✖

Question Number : 141 Question Id : 16794319122 Question Type : MCQ Option Shuffling : Yes Display Question Number : Yes  
Single Line Question Option : No Option Orientation : Vertical

Correct Marks : 1 Wrong Marks : 0.25

A, B, C और D क्या हैं पहचानें?



Options :

- A: ग्रीष्मकालीन संक्रांति,  
B: शरत्काल विषुव  
C: शिशिर अयनांत  
D: वसंत विषुव

1. ✔

- A: ग्रीष्मकालीन संक्रांति,  
B: शिशिर अयनांत  
C: शरत्काल विषुव  
D: वसंत विषुव

2. ✖



- A: ग्रीष्मकालीन संक्रांति,  
B: शरतकाल विषुव  
C: वसंत विषुव  
3. ✖ D: शिशिर अयनांत

- A: शरत काल विषुव  
B: ग्रीष्म संक्रांति  
C: शिशिर अयनांत  
4. ✖ D: वसंत विषुव

Question Number : 142 Question Id : 16794319123 Question Type : MCQ Option Shuffling : Yes Display Question Number : Yes  
Single Line Question Option : No Option Orientation : Vertical  
Correct Marks : 1 Wrong Marks : 0.25

Mr. X wants to celebrate his festival twice on the same year same day in Alaska and Russian Federation. How can that be possible?

Options :

1. ✖ By crossing Arctic ocean  
2. ✖ Being in One country and visualizing of going to other  
3. ✔ By crossing International Date Line  
4. ✖ By crossing Atlantic Ocean

Question Number : 142 Question Id : 16794319123 Question Type : MCQ Option Shuffling : Yes Display Question Number : Yes  
Single Line Question Option : No Option Orientation : Vertical  
Correct Marks : 1 Wrong Marks : 0.25

श्री. X अलास्का और रशियन फेडरेशन में उसी वर्ष उसी दिन अपने त्यौहार का जश्न दो बार मनाता हैं। वह कैसे संभव हो सकता है?

Options :

1. ✖ आर्कटिक महासागर पार करके  
2. ✖ एक देश में होने और दूसरे जाने की कल्पना करके  
3. ✔ अंतर्राष्ट्रीय तिथि रेखा पार करके  
4. ✖ अटलांटिक महासागर पार करके

Question Number : 143 Question Id : 16794319124 Question Type : MCQ Option Shuffling : Yes Display Question Number : Yes  
Single Line Question Option : No Option Orientation : Vertical

Correct Marks : 1 Wrong Marks : 0.25

Longitude 82.5E doesn't cross through which of these places?

Options :

1. ✖ Chhattisgarh
2. ✖ Odessa
3. ✖ Utter Pradesh
4. ✔ Bihar

Question Number : 143 Question Id : 16794319124 Question Type : MCQ Option Shuffling : Yes Display Question Number : Yes  
Single Line Question Option : No Option Orientation : Vertical

Correct Marks : 1 Wrong Marks : 0.25

रेखांश 82.5E इन स्थानों में से किससे गुजरता नहीं है?

Options :

1. ✖ छत्तीसगढ़
2. ✖ उड़ीसा
3. ✖ उत्तरा प्रदेश
4. ✔ बिहार

Question Number : 144 Question Id : 16794319125 Question Type : MCQ Option Shuffling : Yes Display Question Number : Yes  
Single Line Question Option : No Option Orientation : Vertical

Correct Marks : 1 Wrong Marks : 0.25

Who said "It was realised that all along the mid oceanic ridges, volcanic eruptions are common and they bring huge amounts of lava to the surface in this area"?

Options :

1. ✖ Carl Ritter
2. ✖ David Harvey
3. ✖ Ptolemy
4. ✔ Wegener

Question Number : 144 Question Id : 16794319125 Question Type : MCQ Option Shuffling : Yes Display Question Number : Yes  
Single Line Question Option : No Option Orientation : Vertical

Correct Marks : 1 Wrong Marks : 0.25

किसने कहा "यह महसूस किया गया था कि मध्य सागर के किनारे, ज्वालामुखीय विस्फोट आम हैं और वे इस क्षेत्र में सतह पर लावा की बड़ी मात्रा लाते हैं"?

Options :

1. ✖ कार्ल रिटर
2. ✖ डेविड हार्वे
3. ✖ टॉलेमी
4. ✔ वेगनर

Question Number : 145 Question Id : 16794319126 Question Type : MCQ Option Shuffling : Yes Display Question Number : Yes  
Single Line Question Option : No Option Orientation : Vertical

Correct Marks : 1 Wrong Marks : 0.25

Aluminum, Calcium, Silica, \_\_\_\_\_, Magnesium are the major elements of Amphibole.

Options :

1. ✖ Potassium
2. ✖ Copper
3. ✖ Sodium
4. ✔ Iron

Question Number : 145 Question Id : 16794319126 Question Type : MCQ Option Shuffling : Yes Display Question Number : Yes  
Single Line Question Option : No Option Orientation : Vertical

Correct Marks : 1 Wrong Marks : 0.25

एल्यूमिनियम, कैल्शियम, सिलिका, \_\_\_\_\_, मैग्नीशियम एम्फिबोल के प्रमुख तत्व हैं।

Options :

1. ✖ पोटैशियम
2. ✖ तांबा
3. ✖ सोडियम
4. ✔ लोहा

Question Number : 146 Question Id : 16794319127 Question Type : MCQ Option Shuffling : Yes Display Question Number : Yes  
Single Line Question Option : No Option Orientation : Vertical

Correct Marks : 1 Wrong Marks : 0.25

Identify the Non-ferrous metal among these.

Options :

1. ✓ Tin
2. ✗ Gold
3. ✗ Platinum
4. ✗ Iron

Question Number : 146 Question Id : 16794319127 Question Type : MCQ Option Shuffling : Yes Display Question Number : Yes  
Single Line Question Option : No Option Orientation : Vertical

Correct Marks : 1 Wrong Marks : 0.25

इनमें से गैर-लौह धातु की पहचान करें।

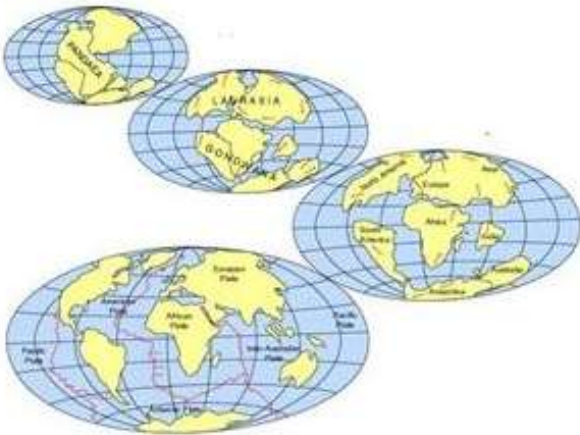
Options :

1. ✓ टिन
2. ✗ सोना
3. ✗ प्लैटिनम
4. ✗ लोहा

Question Number : 147 Question Id : 16794319128 Question Type : MCQ Option Shuffling : Yes Display Question Number : Yes  
Single Line Question Option : No Option Orientation : Vertical

Correct Marks : 1 Wrong Marks : 0.25

This picture of globe depicts \_\_\_\_\_.



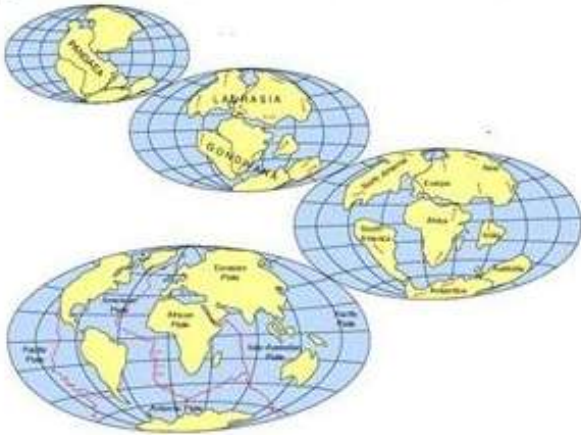
Options :

1. ✗ Various Geologists revelation of Earth in 18<sup>th</sup> Century

2. ✖ Navigation maps for ships
3. ✔ Position of continents through geological past
4. ✖ Position of continents through satellite pictures

Question Number : 147 Question Id : 16794319128 Question Type : MCQ Option Shuffling : Yes Display Question Number : Yes  
 Single Line Question Option : No Option Orientation : Vertical  
 Correct Marks : 1 Wrong Marks : 0.25

दुनिया की यह तस्वीर \_\_\_\_\_ दर्शाती है।



Options :

1. ✖ 18वीं सदी के पृथ्वी के विभिन्न भूवैज्ञानिकों की रहस्योद्घाटन
2. ✖ जहाजों के लिए नौपरिवहन नक्शा (नेविगेशन मैप)
3. ✔ भूगर्भीय अतीत के माध्यम से महाद्वीपों की स्थिति
4. ✖ उपग्रह चित्रों के माध्यम से महाद्वीपों की स्थिति

Question Number : 148 Question Id : 16794319129 Question Type : MCQ Option Shuffling : Yes Display Question Number : Yes  
 Single Line Question Option : No Option Orientation : Vertical  
 Correct Marks : 1 Wrong Marks : 0.25

Which one of the following is not a minor plate?

Options :

1. ✔ Antarctica
2. ✖ Arabia
3. ✖ Nazca



4. ✖ Philippines

Question Number : 148 Question Id : 16794319129 Question Type : MCQ Option Shuffling : Yes Display Question Number : Yes  
Single Line Question Option : No Option Orientation : Vertical

Correct Marks : 1 Wrong Marks : 0.25

निम्नलिखित में से कौन सा छोटी प्लेट नहीं है?

Options :

1. ✔ अंटार्कटिका

2. ✖ अरब

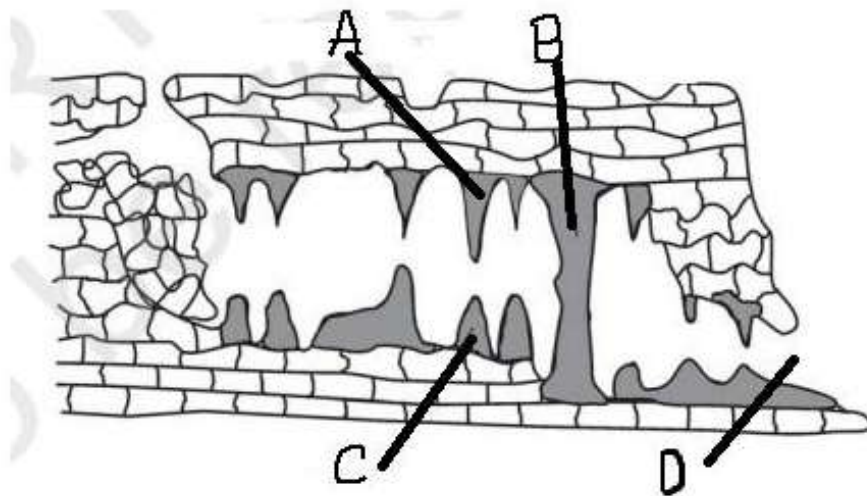
3. ✖ नाज़्का

4. ✖ फिलीपींस

Question Number : 149 Question Id : 16794319130 Question Type : MCQ Option Shuffling : Yes Display Question Number : Yes  
Single Line Question Option : No Option Orientation : Vertical

Correct Marks : 1 Wrong Marks : 0.25

Identify Physical features formed in the following diagram.



Options :

1. ✖ A-Stalactite, B-Pillar, C-Cave Mouth, D-Stalagmite

2. ✖ A-Stalactite, B-Stalagmite, C-Cave Mouth, D-Pillar

3. ✖ A-Cave Mouth, B-Stalagmite, C-Pillar, D-Stalactite

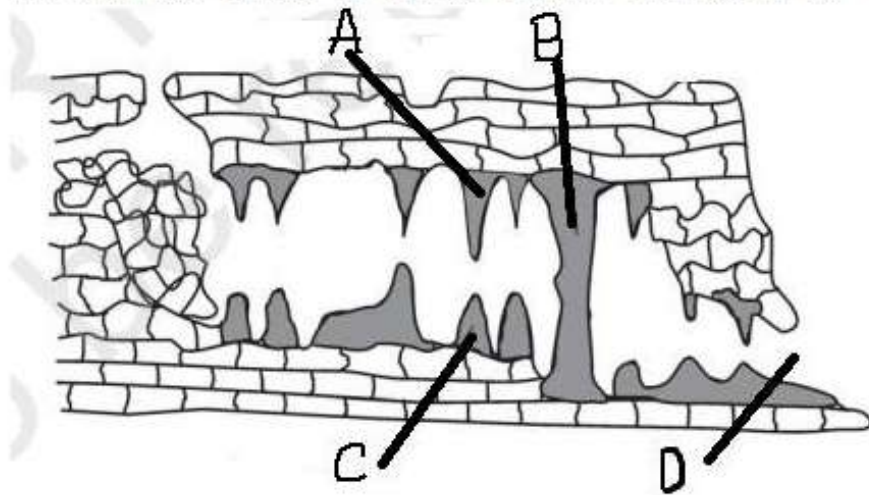
4. ✔ A-Stalactite, B-Pillar, C-Stalagmite, D-Cave Mouth

Question Number : 149 Question Id : 16794319130 Question Type : MCQ Option Shuffling : Yes Display Question Number : Yes  
Single Line Question Option : No Option Orientation : Vertical



Correct Marks : 1 Wrong Marks : 0.25

निम्नलिखित आरेख में निर्मित भौतिक विशेषताओं की पहचान करें:



Options :

1. ✖

A-स्टालाक्टसाइट (आरोही निक्षेप), B-पिल्लर (स्तंभ), C-कैव माउथ (गुफाद्वार), D-स्टालाग्माइट (निलंबी निक्षेप)

2. ✖

A-स्टालाक्टसाइट (आरोही निक्षेप), B-स्टालाग्माइट (निलंबी निक्षेप), C-कैव माउथ (गुफाद्वार), D-पिल्लर (स्तंभ)

3. ✖

A-कैव माउथ (गुफाद्वार), B-स्टालाग्माइट (निलंबी निक्षेप), C-पिल्लर (स्तंभ), D-स्टालाक्टसाइट (आरोही निक्षेप)

4. ✔

A-स्टालाक्टसाइट (आरोही निक्षेप), B-पिल्लर (स्तंभ), C-स्टालाग्माइट (निलंबी निक्षेप), D-कैव माउथ (गुफाद्वार)

Question Number : 150 Question Id : 16794319131 Question Type : MCQ Option Shuffling : Yes Display Question Number : Yes  
Single Line Question Option : No Option Orientation : Vertical

Correct Marks : 1 Wrong Marks : 0.25

A deep, long and wide trough or basin with very steep concave high walls at its head as well as in sides is known as \_\_\_\_\_.

Options :

1. ✖ Lateral Moraine

2. ✔ Cirque

3. ✖ Glacial valley

4. ✖ Esker

Question Number : 150 Question Id : 16794319131 Question Type : MCQ Option Shuffling : Yes Display Question Number : Yes  
Single Line Question Option : No Option Orientation : Vertical

Correct Marks : 1 Wrong Marks : 0.25

एक गहरे, लंबे और चौड़ी घाटी या बेसिन के साथ शीर्ष पर और साथ ही किनारों पर बहुत अत्यधिक अवतल उच्च दीवारों के साथ \_\_\_\_\_ के रूप में जाना जाता है।

Options :

1. ✖ लेटरल मोराइन
2. ✔ सर्क
3. ✖ ग्लेशियल घाटी
4. ✖ एस्कर

Question Number : 151 Question Id : 16794319132 Question Type : MCQ Option Shuffling : Yes Display Question Number : Yes  
Single Line Question Option : No Option Orientation : Vertical

Correct Marks : 1 Wrong Marks : 0.25

Which one of the following causes rainfall during winters in north-western part of India?

Options :

1. ✔ Western Cyclonic Disturbances
2. ✖ Retreating Monsoon
3. ✖ Southwest Monsoon
4. ✖ Inter Cyclonic Convergence

Question Number : 151 Question Id : 16794319132 Question Type : MCQ Option Shuffling : Yes Display Question Number : Yes  
Single Line Question Option : No Option Orientation : Vertical

Correct Marks : 1 Wrong Marks : 0.25

भारत के उत्तर-पश्चिमी हिस्से में सर्दियों के दौरान निम्नलिखित में से किस कारण वर्षा होती है?

Options :

1. ✔ पश्चिमी चक्रवात
2. ✖ मानसून की वापसी
3. ✖ दक्षिण पश्चिम मानसून
4. ✖ इंटर चक्रवात अभिसरण

Question Number : 152 Question Id : 16794319133 Question Type : MCQ Option Shuffling : Yes Display Question Number : Yes  
Single Line Question Option : No Option Orientation : Vertical

Correct Marks : 1 Wrong Marks : 0.25

Which winds account for rainfall along the Malabar coast?

Options :

1. ✖ North east monsoons
2. ✔ South west monsoons
3. ✖ South east monsoons
4. ✖ North west monsoons

Question Number : 152 Question Id : 16794319133 Question Type : MCQ Option Shuffling : Yes Display Question Number : Yes  
Single Line Question Option : No Option Orientation : Vertical

Correct Marks : 1 Wrong Marks : 0.25

मलाबार तट के किनारे बारिश के लिए कौन सी हवाएं चलती हैं?

Options :

1. ✖ उत्तर पूर्व मानसून
2. ✔ दक्षिण पश्चिम मानसून
3. ✖ दक्षिण पूर्व मानसून
4. ✖ उत्तर पश्चिम मानसून

Question Number : 153 Question Id : 16794319134 Question Type : MCQ Option Shuffling : Yes Display Question Number : Yes  
Single Line Question Option : No Option Orientation : Vertical

Correct Marks : 1 Wrong Marks : 0.25

Why does India have a monsoon type of climate?

Options :

1. ✔ Climate is influenced by monsoon winds
2. ✖ Climate is influenced by monsoon of China
3. ✖ Climate is influenced by prevailing winds
4. ✖ Climate is influenced by monsoon of central India

Question Number : 153 Question Id : 16794319134 Question Type : MCQ Option Shuffling : Yes Display Question Number : Yes  
Single Line Question Option : No Option Orientation : Vertical

Correct Marks : 1 Wrong Marks : 0.25

भारत में क्यों जलवायु का मानसून प्रकार है?

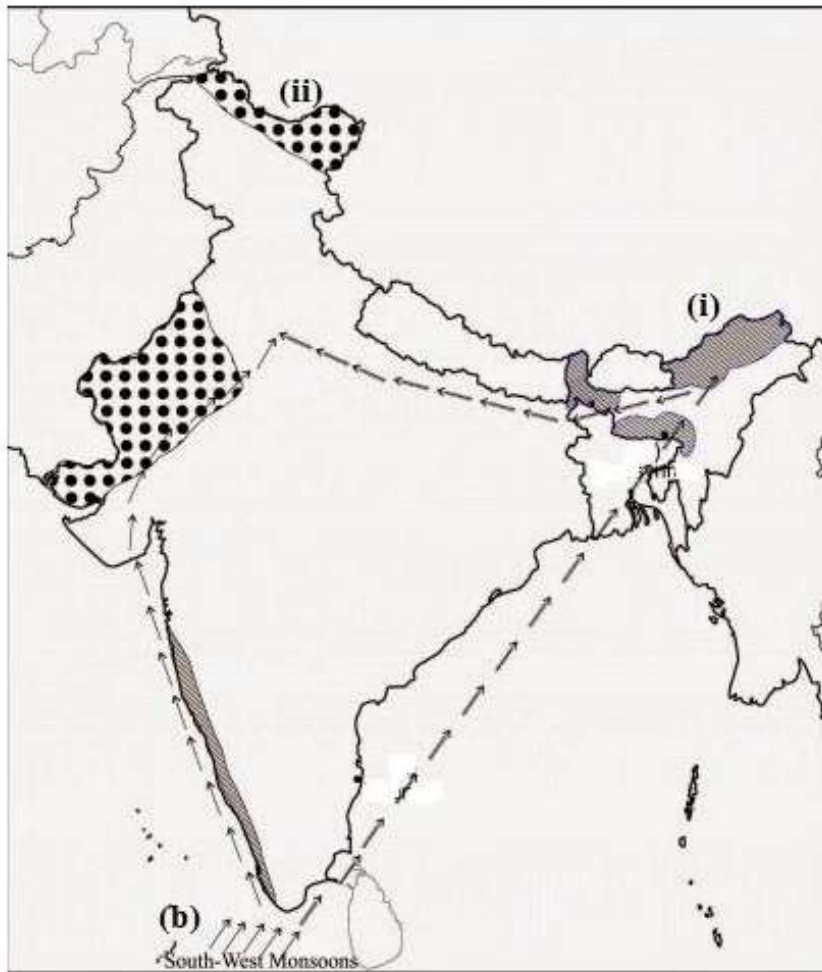
Options :

1. ✓ जलवायु मानसून हवाओं से प्रभावित है
2. ✗ जलवायु चीन के मानसून से प्रभावित है
3. ✗ जलवायु मौजूदा हवाओं से प्रभावित है
4. ✗ जलवायु मध्य भारत के मानसून से प्रभावित है

Question Number : 154 Question Id : 16794319135 Question Type : MCQ Option Shuffling : Yes Display Question Number : Yes  
Single Line Question Option : No Option Orientation : Vertical

Correct Marks : 1 Wrong Marks : 0.25

What does (ii) represent?



Options :

1. ✗ Areas receiving rainfall over 400 cm.
2. ✓ Areas receiving less than 20 cm of rainfall.



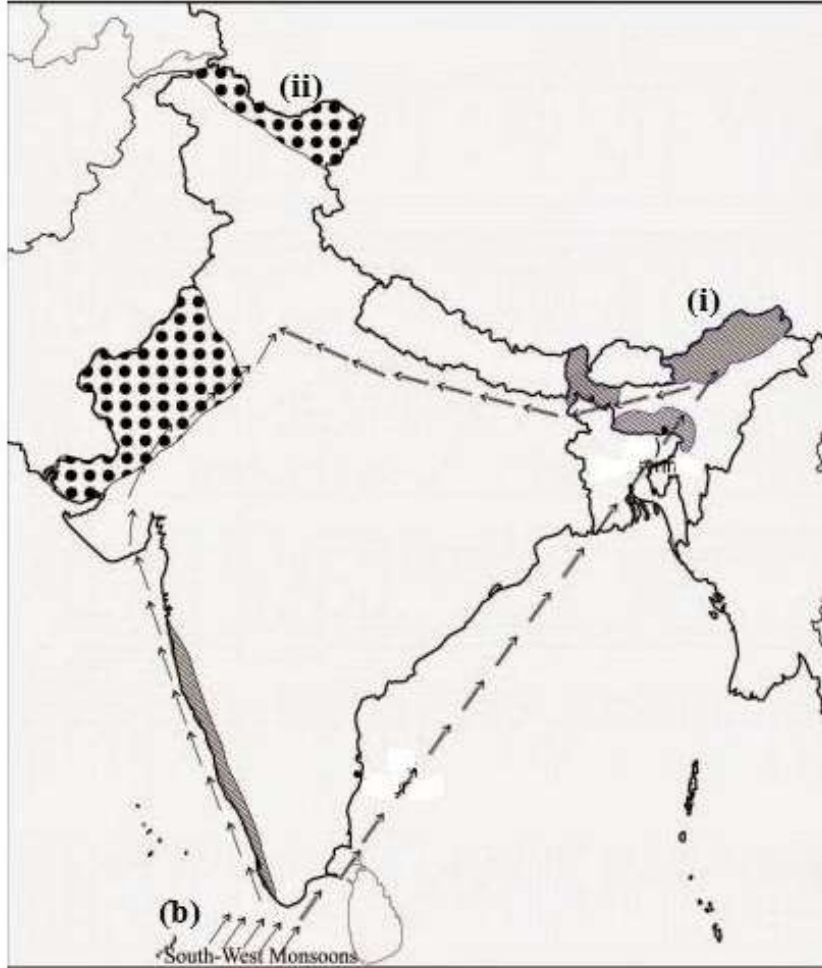
3. ✖ The direction of the south-west monsoon over India.

4. ✖ The direction of the south-east monsoon over India.

Question Number : 154 Question Id : 16794319135 Question Type : MCQ Option Shuffling : Yes Display Question Number : Yes  
Single Line Question Option : No Option Orientation : Vertical

Correct Marks : 1 Wrong Marks : 0.25

(ii) क्या दर्शाता है?



Options :

1. ✖ क्षेत्र 400 cm. से अधिक वर्षा होती है

2. ✔ 20 cm. से भी कम वर्षा होती है

3. ✖ भारत भर में दक्षिण-पश्चिम मानसून की दिशा में

4. ✖ भारत भर में दक्षिण-पूर्व मानसून की दिशा में

Question Number : 155 Question Id : 16794319136 Question Type : MCQ Option Shuffling : Yes Display Question Number : Yes  
Single Line Question Option : No Option Orientation : Vertical

Correct Marks : 1 Wrong Marks : 0.25



Identify the layer of Earth's atmosphere with this statement. One important feature of it is that it contains a layer of ozone gas.

Options :

1. ✖ Troposphere
2. ✔ Stratosphere
3. ✖ Mesosphere
4. ✖ Thermosphere

Question Number : 155 Question Id : 16794319136 Question Type : MCQ Option Shuffling : Yes Display Question Number : Yes  
Single Line Question Option : No Option Orientation : Vertical

Correct Marks : 1 Wrong Marks : 0.25

इस कथन के साथ पृथ्वी के वायुमंडल की परत की पहचान करें। इसकी एक महत्वपूर्ण विशेषता यह है कि इसमें ओजोन गैस की एक परत होती है।

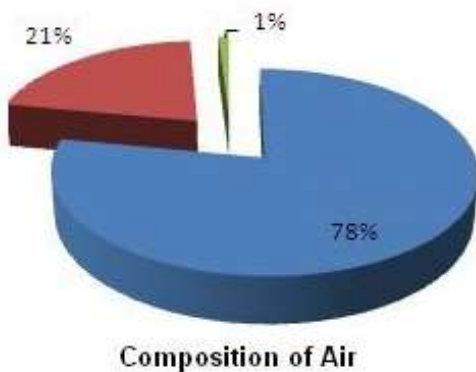
Options :

1. ✖ क्षोभ मंडल
2. ✔ समताप मंडल
3. ✖ मध्यमंडल
4. ✖ ताप मंडल

Question Number : 156 Question Id : 16794319137 Question Type : MCQ Option Shuffling : Yes Display Question Number : Yes  
Single Line Question Option : No Option Orientation : Vertical

Correct Marks : 1 Wrong Marks : 0.25

What does 78% refer to?



Options :

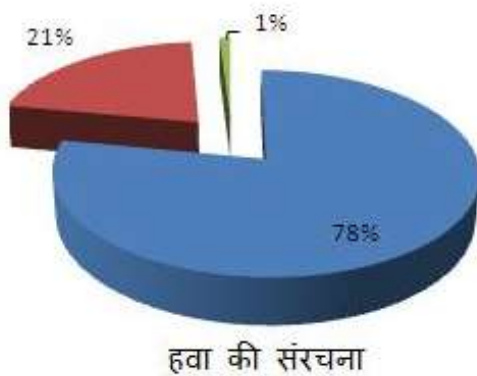
1. ✖ Carbon di Oxide

- 2. ✖ Helium
- 3. ✖ Oxygen
- 4. ✔ Nitrogen

Question Number : 156 Question Id : 16794319137 Question Type : MCQ Option Shuffling : Yes Display Question Number : Yes  
Single Line Question Option : No Option Orientation : Vertical

Correct Marks : 1 Wrong Marks : 0.25

78% किससे संबंधित है?



Options :

- 1. ✖ कार्बन डाइऑक्साइड
- 2. ✖ हीलियम
- 3. ✖ ऑक्सीजन
- 4. ✔ नाइट्रोजन

Question Number : 157 Question Id : 16794319138 Question Type : MCQ Option Shuffling : Yes Display Question Number : Yes  
Single Line Question Option : No Option Orientation : Vertical

Correct Marks : 1 Wrong Marks : 0.25

Which gas majorly creates greenhouse effect in the atmosphere?

Options :

- 1. ✖ Helium
- 2. ✖ Nitrogen
- 3. ✖ Oxygen
- 4. ✔ Carbon di oxide

Question Number : 157 Question Id : 16794319138 Question Type : MCQ Option Shuffling : Yes Display Question Number : Yes  
Single Line Question Option : No Option Orientation : Vertical

Correct Marks : 1 Wrong Marks : 0.25

कौन सी गैस वायुमंडल में हरितगृह प्रभाव को मुख्य रूप से बनाती है?

Options :

1. ✖ हीलियम
2. ✖ नाइट्रोजन
3. ✖ ऑक्सीजन
4. ✔ कार्बन डाइऑक्साइड

Question Number : 158 Question Id : 16794319139 Question Type : MCQ Option Shuffling : Yes Display Question Number : Yes  
Single Line Question Option : No Option Orientation : Vertical

Correct Marks : 1 Wrong Marks : 0.25

Which of these is an important factor that influences the distribution of temperature?

Options :

1. ✖ Isolation
2. ✔ Insolation
3. ✖ Amalgamation
4. ✖ Sunstroke

Question Number : 158 Question Id : 16794319139 Question Type : MCQ Option Shuffling : Yes Display Question Number : Yes  
Single Line Question Option : No Option Orientation : Vertical

Correct Marks : 1 Wrong Marks : 0.25

इनमें से कौन सा महत्वपूर्ण कारक है जो तापमान के वितरण को प्रभावित करता है?

Options :

1. ✖ अलगाव
2. ✔ आतपन
3. ✖ मिश्रण
4. ✖ लू

Question Number : 159 Question Id : 16794319140 Question Type : MCQ Option Shuffling : Yes Display Question Number : Yes  
Single Line Question Option : No Option Orientation : Vertical

Correct Marks : 1 Wrong Marks : 0.25

Identify these in Conventional Signs and Symbols on a map.



Options :

1. ✖ Hospital, Dead end, Pit ahead
2. ✔ Inhabited, Deserted, Fort
3. ✖ Inhabited, Dead end, Pond
4. ✖ Hospital, Deserted, Pond

Question Number : 159 Question Id : 16794319140 Question Type : MCQ Option Shuffling : Yes Display Question Number : Yes  
Single Line Question Option : No Option Orientation : Vertical

Correct Marks : 1 Wrong Marks : 0.25

मानचित्र पर पारंपरिक संकेतों और प्रतीकों में इन्हें पहचानें:



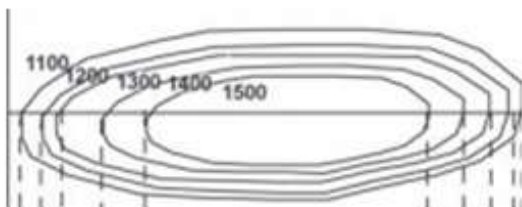
Options :

1. ✖ अस्पताल, गतिरोध, आगे गड्ढा
2. ✔ निवास, मरुस्थल, किला
3. ✖ निवास, गतिरोध, तालाब
4. ✖ अस्पताल, मरुस्थल, तालाब

Question Number : 160 Question Id : 16794319141 Question Type : MCQ Option Shuffling : Yes Display Question Number : Yes  
Single Line Question Option : No Option Orientation : Vertical

Correct Marks : 1 Wrong Marks : 0.25

Identify The Physical Feature Formed by these contours.



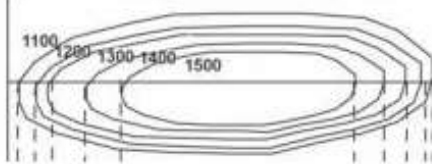
Options :

1. ✖ Conical Hills
2. ✖ U-Shaped Valley
3. ✖ Spur
4. ✔ Plateau

Question Number : 160 Question Id : 16794319141 Question Type : MCQ Option Shuffling : Yes Display Question Number : Yes  
Single Line Question Option : No Option Orientation : Vertical

Correct Marks : 1 Wrong Marks : 0.25

इन रेखा द्वारा बनाई गई भौतिक फीचर की पहचान करें।



Options :

1. ✖ शंक्वाकार पहाड़ी
2. ✖ यू-आकार की घाटी
3. ✖ पर्वत स्कन्ध
4. ✔ पठार

Subject Related

Group Number :	9
Group Id :	167943722
Group Maximum Duration :	0
Group Minimum Duration :	0
Revisit allowed for view? :	No
Revisit allowed for edit? :	No
Break time:	0
Group Marks:	20
Revisit allowed for group Instructions? :	Yes
Maximum Instruction Time:	0
Minimum Instruction Time:	0

Subject Related

Section Id : 167943787



Section Number :	1
Section type :	Online
Mandatory or Optional:	Mandatory
Number of Questions:	20
Number of Questions to be attempted:	20
Section Marks:	20
Display Number Panel:	Yes
Group All Questions:	No

Sub-Section Number:	1
Sub-Section Id:	1679431216
Question Shuffling Allowed :	Yes

Question Number : 161 Question Id : 16794319142 Question Type : MCQ Option Shuffling : Yes Display Question Number : Yes  
 Single Line Question Option : No Option Orientation : Vertical  
 Correct Marks : 1 Wrong Marks : 0.25

Identify @ in the below.

Point of Isopleth =  $\frac{\text{Distance between two points in cm} \times @}{\text{Difference between the two values of corresponding points}}$

Options :

1. ✖ Midlevel
2. ✖ Corner
3. ✔ Interval
4. ✖ Center

Question Number : 161 Question Id : 16794319142 Question Type : MCQ Option Shuffling : Yes Display Question Number : Yes  
 Single Line Question Option : No Option Orientation : Vertical  
 Correct Marks : 1 Wrong Marks : 0.25

निम्नलिखित में @ पहचानें

समवाष्पोत्सर्जन (Isopleth) का बिंदु =  $\frac{\text{से.मी में दो बिंदुओं के बीच की दूरी} \times @}{\text{संबंधित दो बिन्दुओं के मान के बिच का अंतर}}$

Options :

1. ✖ मध्य स्तर
2. ✖ कोना
3. ✔ मध्यान्तर
4. ✖ केंद्र

Question Number : 162 Question Id : 16794319143 Question Type : MCQ Option Shuffling : Yes Display Question Number : Yes  
Single Line Question Option : No Option Orientation : Vertical

Correct Marks : 1 Wrong Marks : 0.25

Which one of the following is best suited to represent the decadal growth of population?

Options :

1. ✓ Pie diagram
2. ✗ Circle diagram
3. ✗ Line graph
4. ✗ Flow diagram

Question Number : 162 Question Id : 16794319143 Question Type : MCQ Option Shuffling : Yes Display Question Number : Yes  
Single Line Question Option : No Option Orientation : Vertical

Correct Marks : 1 Wrong Marks : 0.25

निम्नलिखित में से कौन सा आबादी के दशक के विकास के प्रतिनिधित्व के लिए सबसे उपयुक्त है?

Options :

1. ✓ पाई आरेख
2. ✗ वृत्त आरेख
3. ✗ पंक्ति ग्राफ
4. ✗ प्रवाह आरेख

Question Number : 163 Question Id : 16794319144 Question Type : MCQ Option Shuffling : Yes Display Question Number : Yes  
Single Line Question Option : No Option Orientation : Vertical

Correct Marks : 1 Wrong Marks : 0.25

Which one of the following maps is known as “Dynamic Map”?

Options :

1. ✗ Dot map
2. ✗ Isopleth
3. ✗ Choropleth
4. ✓ Flow map

Question Number : 163 Question Id : 16794319144 Question Type : MCQ Option Shuffling : Yes Display Question Number : Yes  
Single Line Question Option : No Option Orientation : Vertical

Correct Marks : 1 Wrong Marks : 0.25

निम्नलिखित में से कौन सा मानचित्र "डायनामिक मैप (गतिशील मानचित्र)" के रूप में जाना जाता है?

Options :

1. ✖ डॉट मानचित्र

2. ✖ आइसोप्लेथ

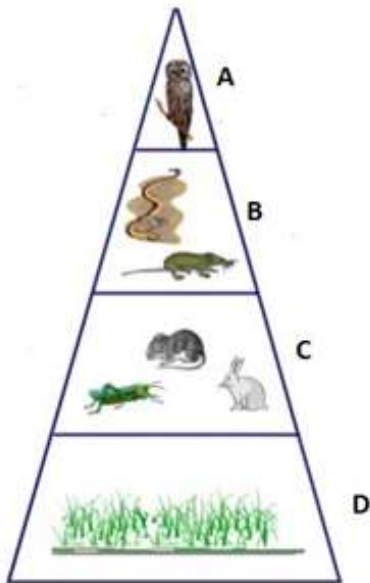
3. ✖ चोरोप्लेथ

4. ✔ प्रवाह नक्शा

Question Number : 164 Question Id : 16794319145 Question Type : MCQ Option Shuffling : Yes Display Question Number : Yes  
Single Line Question Option : No Option Orientation : Vertical

Correct Marks : 1 Wrong Marks : 0.25

Arrange in order.



Options :

A: Producers

B: Secondary consumers

C: Primary consumers

1. ✖ D: Tertiary consumers

A: Tertiary consumers

B: Primary consumers

C: Secondary consumers

2. ✖ D: Producers

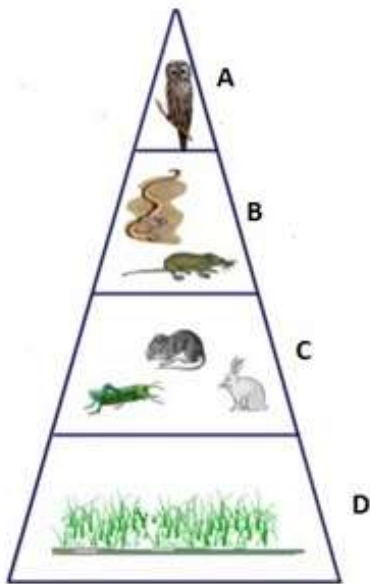
3. ✖ A: Secondary consumers  
B: Tertiary consumers  
C: Primary consumers  
D: Producers

4. ✔ A: Tertiary consumers  
B: Secondary consumers  
C: Primary consumers  
D: Producers

Question Number : 164 Question Id : 16794319145 Question Type : MCQ Option Shuffling : Yes Display Question Number : Yes  
Single Line Question Option : No Option Orientation : Vertical

Correct Marks : 1 Wrong Marks : 0.25

क्रम में व्यवस्थित करें।



Options :

1. ✖ A: विनिर्माता  
B: द्वितीयक उपभोक्ता  
C: प्राथमिक उपभोक्ता  
D: तृतीयक उपभोक्ता

2. ✖ A: तृतीयक उपभोक्ता  
B: प्राथमिक उपभोक्ता  
C: द्वितीयक उपभोक्ता  
D: विनिर्माता

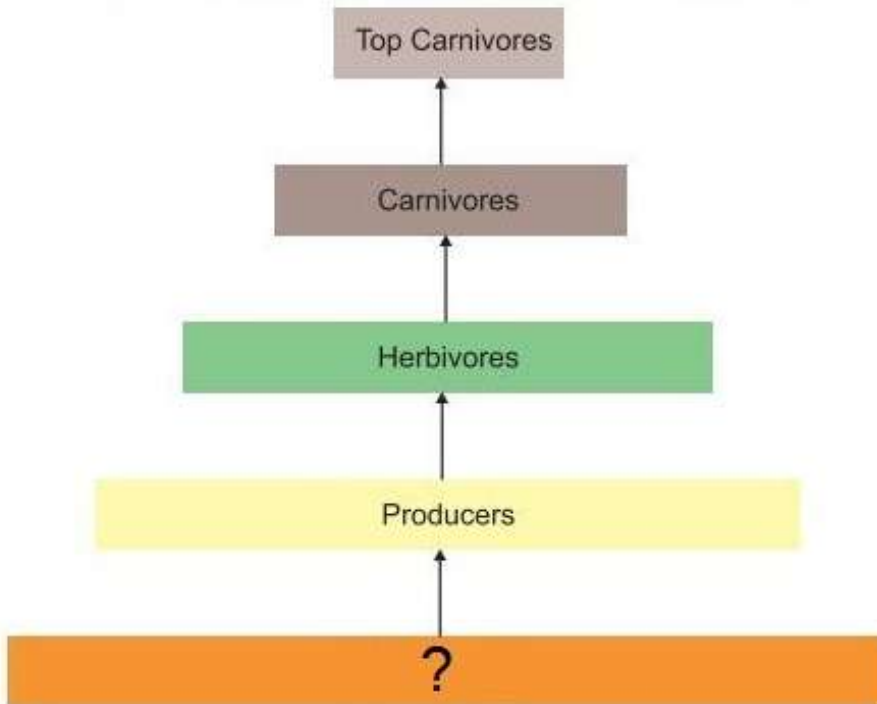
3. ✖ A: द्वितीयक उपभोक्ता  
B: तृतीयक उपभोक्ता  
C: प्राथमिक उपभोक्ता  
D: विनिर्माता

4. ✔ A: तृतीयक उपभोक्ता  
B: द्वितीयक उपभोक्ता  
C: प्राथमिक उपभोक्ता  
D: विनिर्माता

Question Number : 165 Question Id : 16794319146 Question Type : MCQ Option Shuffling : Yes Display Question Number : Yes  
Single Line Question Option : No Option Orientation : Vertical

Correct Marks : 1 Wrong Marks : 0.25

Given below is the flow of energy in an eco-system. Identify (?) the blank.



Options :

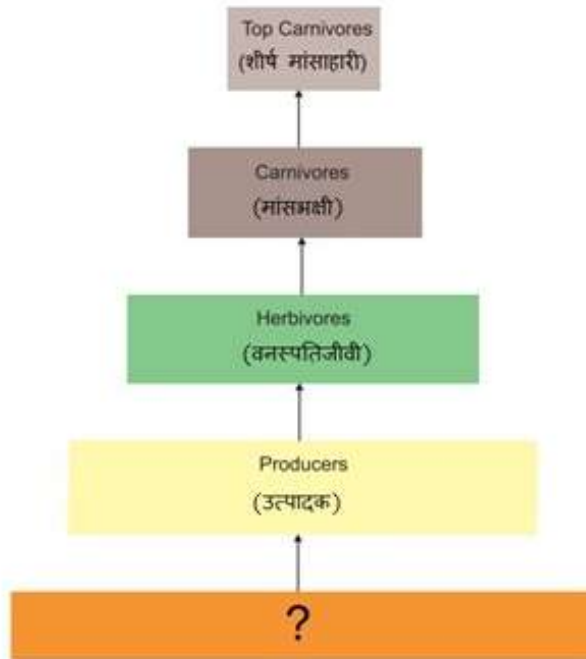
1. ✔ Sunlight  
2. ✖ Primary consumer  
3. ✖ Secondary consumer  
4. ✖ Tertiary consumer

Question Number : 165 Question Id : 16794319146 Question Type : MCQ Option Shuffling : Yes Display Question Number : Yes  
Single Line Question Option : No Option Orientation : Vertical



Correct Marks : 1 Wrong Marks : 0.25

एक पर्यावरण प्रणाली में ऊर्जा का प्रवाह नीचे दिया गया है। रिक्त (?) की पहचान करें।



Options :

1. ✓ सूरज की रोशनी
2. ✗ प्राथमिक उपभोक्ता
3. ✗ द्वितीयक उपभोक्ता
4. ✗ तृतीयक उपभोक्ता

Question Number : 166 Question Id : 16794319147 Question Type : MCQ Option Shuffling : Yes Display Question Number : Yes  
Single Line Question Option : No Option Orientation : Vertical

Correct Marks : 1 Wrong Marks : 0.25

Mention any 2 states where red and yellow soils are available.

Options :

1. ✗ Uttar Pradesh and Bihar
2. ✗ Jammu Kashmir and Himachal Pradesh
3. ✗ Gujarat and Rajasthan
4. ✓ Odisha and Chhattisgarh

Question Number : 166 Question Id : 16794319147 Question Type : MCQ Option Shuffling : Yes Display Question Number : Yes  
Single Line Question Option : No Option Orientation : Vertical

Correct Marks : 1 Wrong Marks : 0.25

किसी भी 2 राज्यों का उल्लेख करें जहां लाल और पीली मिट्टी उपलब्ध हैं।

Options :

1. ✖ उत्तर प्रदेश और बिहार
2. ✖ जम्मू कश्मीर और हिमाचल प्रदेश
3. ✖ गुजरात और राजस्थान
4. ✔ ओडिशा और छत्तीसगढ़

Question Number : 167 Question Id : 16794319148 Question Type : MCQ Option Shuffling : Yes Display Question Number : Yes  
Single Line Question Option : No Option Orientation : Vertical

Correct Marks : 1 Wrong Marks : 0.25

Arable land in the irrigated zones of India is turning saline due to one of the following reasons:

Options :

1. ✖ Use of fertilisers
2. ✔ Over irrigation
3. ✖ Addition of gypsum
4. ✖ Over grazing

Question Number : 167 Question Id : 16794319148 Question Type : MCQ Option Shuffling : Yes Display Question Number : Yes  
Single Line Question Option : No Option Orientation : Vertical

Correct Marks : 1 Wrong Marks : 0.25

निम्नलिखित में से किस कारण से भारत के सिंचित क्षेत्रों में अरबी भूमि लवणीय है। पहचान करें।

Options :

1. ✖ उर्वरकों का उपयोग
2. ✔ अधिक सिंचाई
3. ✖ अतिरिक्त जिप्सम
4. ✖ अधिक चराई

Question Number : 168 Question Id : 16794319149 Question Type : MCQ Option Shuffling : Yes Display Question Number : Yes  
Single Line Question Option : No Option Orientation : Vertical

Correct Marks : 1 Wrong Marks : 0.25

What is the difference between Khaddar and Bangar?

Options :

1. ✖ Khaddar is old alluvial soil and Bangar is new alluvial soil
2. ✔ Khaddar is a fertile soil and Bangar is older alluvial soil.
3. ✖ Khaddar is available in large parts of Northern India and Bangar is available in South India.
4. ✖ Khaddar is not a fertile and Bangar is a fertile soil.

Question Number : 168 Question Id : 16794319149 Question Type : MCQ Option Shuffling : Yes Display Question Number : Yes  
Single Line Question Option : No Option Orientation : Vertical

Correct Marks : 1 Wrong Marks : 0.25

खादर और बांगर के बीच क्या अंतर है?

Options :

1. ✖ खादर पुरानी जलीय मिट्टी है और बांगर नई जलीय मिट्टी है।
2. ✔ खादर एक उपजाऊ मिट्टी है और बांगर पुरानी जलीय मिट्टी है।
3. ✖ खादर उत्तरी भारत के बड़े हिस्सों में उपलब्ध है और बांगर दक्षिण भारत में उपलब्ध है।
4. ✖ खादर उपजाऊ नहीं है और बांगर उपजाऊ मिट्टी है।

Question Number : 169 Question Id : 16794319150 Question Type : MCQ Option Shuffling : Yes Display Question Number : Yes  
Single Line Question Option : No Option Orientation : Vertical

Correct Marks : 1 Wrong Marks : 0.25

Identify the reason from the options given below.

Why have the western slopes of the Western Ghats covered with thick forests and not the eastern slopes?

Options :

1. ✖ Number of rivers are more in western Ghats than the eastern Ghats.
2. ✖ Eastern slopes get much heavier rainfall than the western slopes.
3. ✔ Western slopes get much heavier rainfall than the eastern slopes.
4. ✖ Eastern slopes are plains and suitable for agriculture.

Question Number : 169 Question Id : 16794319150 Question Type : MCQ Option Shuffling : Yes Display Question Number : Yes  
Single Line Question Option : No Option Orientation : Vertical

Correct Marks : 1 Wrong Marks : 0.25

नीचे दिए गए विकल्पों में से कारण की पहचान करें।

पश्चिमी घाटों की पश्चिमी ढलानें घने जंगलों से ढंकी हुई हैं, जबकि पूर्वी ढलानों नहीं?

Options :

1. ✖ पूर्वी घाटों की तुलना में पश्चिमी घाटों में नदियों की संख्या अधिक है।
2. ✖ पश्चिमी ढलानों की तुलना में पूर्वी ढलानों में अधिक बारिश होती है।
3. ✔ पूर्वी ढलानों की तुलना में पश्चिमी ढलानों में अधिक बारिश होती है।
4. ✖ पूर्वी ढलान मैदान हैं और कृषि के लिए उपयुक्त हैं।

Question Number : 170 Question Id : 16794319151 Question Type : MCQ Option Shuffling : Yes Display Question Number : Yes  
Single Line Question Option : No Option Orientation : Vertical

Correct Marks : 1 Wrong Marks : 0.25

Name a state in India which is covered with Tropical Deciduous forests.

Options :

1. ✔ Odisha
2. ✖ Kerala
3. ✖ Gujarat
4. ✖ Rajasthan

Question Number : 170 Question Id : 16794319151 Question Type : MCQ Option Shuffling : Yes Display Question Number : Yes  
Single Line Question Option : No Option Orientation : Vertical

Correct Marks : 1 Wrong Marks : 0.25

भारत के उस राज्य का नाम बताएं जो उष्णकटिबंधीय पर्णपाती जंगलों से ढका हुआ है?

Options :

1. ✔ ओडिशा
2. ✖ केरल
3. ✖ गुजरात

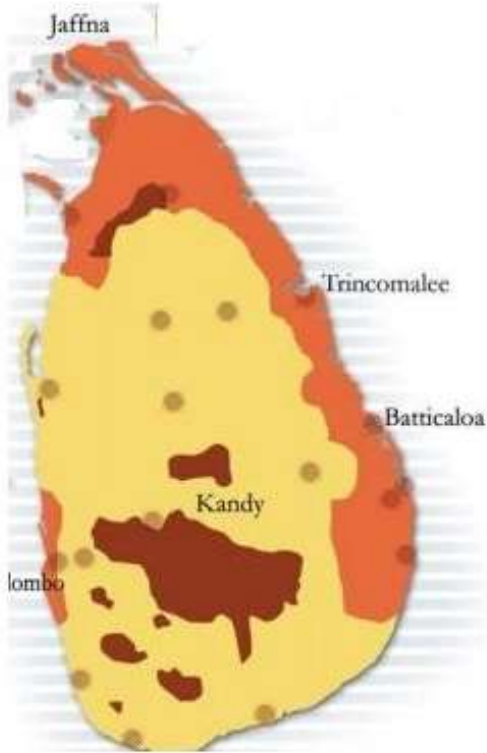


4. ✖ राजस्थान

Question Number : 171 Question Id : 16794319152 Question Type : MCQ Option Shuffling : Yes Display Question Number : Yes  
Single Line Question Option : No Option Orientation : Vertical

Correct Marks : 1 Wrong Marks : 0.25

Identify the community in Orange.



Options :

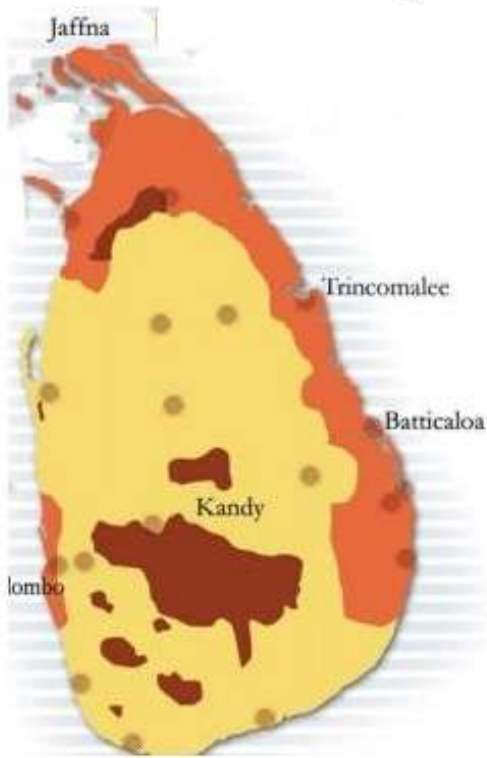
1. ✖ Muslims
2. ✖ Sinhalese
3. ✔ Srilankan Tamil
4. ✖ Indian Tamil

Question Number : 171 Question Id : 16794319152 Question Type : MCQ Option Shuffling : Yes Display Question Number : Yes  
Single Line Question Option : No Option Orientation : Vertical

Correct Marks : 1 Wrong Marks : 0.25



नारंगी रंग में दिए गए समुदाय की पहचान करें।



Options :

1. ✖ मुसलमान
2. ✖ सिंधली
3. ✔ श्रीलंका तमिल
4. ✖ भारतीय तमिल

Question Number : 172 Question Id : 16794319153 Question Type : MCQ Option Shuffling : Yes Display Question Number : Yes  
Single Line Question Option : No Option Orientation : Vertical

Correct Marks : 1 Wrong Marks : 0.25

Name the country which has this kind of power sharing system. Many powers of the central government have been given to state governments of the two regions of the country. The state governments are not subordinate to the Central Government.

Options :

1. ✖ Srilanka
2. ✖ India
3. ✔ Belgium
4. ✖ China

Question Number : 172 Question Id : 16794319153 Question Type : MCQ Option Shuffling : Yes Display Question Number : Yes  
Single Line Question Option : No Option Orientation : Vertical

Correct Marks : 1 Wrong Marks : 0.25

उस देश का नाम बताएं जिसमें इस प्रकार की पावर शेयरिंग सिस्टम (सत्ता भागीदारी प्रणाली) है। केंद्र सरकार के कई अधिकारों को देश के दो क्षेत्रों के राज्य सरकारों को दिया गया है। राज्य सरकार केंद्र सरकार के अधीनस्थ नहीं हैं।

Options :

1. ✖ श्रीलंका
2. ✖ भारत
3. ✔ बेल्जियम
4. ✖ चीन

Question Number : 173 Question Id : 16794319154 Question Type : MCQ Option Shuffling : Yes Display Question Number : Yes  
Single Line Question Option : No Option Orientation : Vertical

Correct Marks : 1 Wrong Marks : 0.25

Identify the appropriate reason from the given options.

If agriculture and commerce are state subjects, why do we have ministers of agriculture and commerce in the Union cabinet?

Options :

1. ✖ Central Government believes in power sharing, so the responsibility is being shared.
2. ✖ Central Government can monitor the states and advice and upgrade these industries.
3. ✖ State Government are not capable enough to deal it alone.
4. ✔

A country should deal with other nations on these subjects, so we do need ministers in Union Cabinet.

Question Number : 173 Question Id : 16794319154 Question Type : MCQ Option Shuffling : Yes Display Question Number : Yes  
Single Line Question Option : No Option Orientation : Vertical

Correct Marks : 1 Wrong Marks : 0.25

दिए गए विकल्पों से उचित कारण की पहचान करें।

यदि कृषि और वाणिज्य राज्य के विषय हैं, तो हमारे पास केंद्रीय कैबिनेट में कृषि और वाणिज्य मंत्री क्यों हैं?

Options :

1. ✖
- केंद्र सरकार सत्ता साझा करने में विश्वास रखती है, इसलिए जिम्मेदारी का साझा कर रही है

2. ✖

केंद्र सरकार राज्यों और सलाह की निगरानी कर सकती है और इन उद्योगों को अपग्रेड कर सकती है

3. ✖

राज्य सरकार इसे अकेले डील करने में सक्षम नहीं है

4. ✔

देश को इन विषयों पर अन्य देशों से निपटना चाहिए, इसलिए हमें केंद्रीय मंत्रिमंडल में मंत्रियों की आवश्यकता है

Question Number : 174 Question Id : 16794319155 Question Type : MCQ Option Shuffling : Yes Display Question Number : Yes  
Single Line Question Option : No Option Orientation : Vertical

Correct Marks : 1 Wrong Marks : 0.25

Identify the reason from the given options.

Prime Minister runs the country. Chief Minister runs the state. Logically, then, the chairperson of Zilla Parishad should run the district. Why does the D.M. or Collector administer the district?

Options :

1. ✖

The Chairperson of Zilla Parishad is an Administrative head and DM is a Political head. Power sharing is executed.

2. ✔

The Chairperson of Zilla Parishad is a Political head and DM is an Administrative head. Power sharing is executed.

3. ✖

System of check and balance is maintained in Central and State Government.

4. ✖

Since the Chairperson of Zilla Parishad is not a political head but an administrative head, DM takes the charge.

Question Number : 174 Question Id : 16794319155 Question Type : MCQ Option Shuffling : Yes Display Question Number : Yes  
Single Line Question Option : No Option Orientation : Vertical

Correct Marks : 1 Wrong Marks : 0.25

दिए गए विकल्पों से कारण की पहचान करें।

प्रधानमंत्री देश चलाते हैं। मुख्यमंत्री राज्य चलाते हैं। तार्किक रूप से, जिला परिषद के अध्यक्ष को जिला चलाया जाना चाहिए। डी. एम. या कलेक्टर जिला का प्रशासन क्यों चलाते हैं?

Options :

1. ✖

जिला परिषद के अध्यक्ष एक प्रशासनिक प्रमुख हैं और डी. एम एक राजनीतिक प्रमुख है। पावर शेयरिंग निष्पादित की जाती है

2. ✔

जिला परिषद के अध्यक्ष एक राजनीतिक प्रमुख हैं और डी .एम एक प्रशासनिक प्रमुख है। पावर शेयरिंग निष्पादित की जाती है

3. ✖

केंद्रीय और राज्य सरकार में जांच और संतुलन प्रणाली को बनाए रखा जाता है

4. ✖

चूंकि जिला परिषद के अध्यक्ष व्यक्ति राजनीतिक प्रमुख नहीं हैं लेकिन प्रशासनिक प्रमुख हैं, डी. एम. चार्ज लेता है।

Question Number : 175 Question Id : 16794319156 Question Type : MCQ Option Shuffling : Yes Display Question Number : Yes  
Single Line Question Option : No Option Orientation : Vertical

Correct Marks : 1 Wrong Marks : 0.25

Look at the pictures and identify what are these two pictures speaking about?



Options :

1. ✖ Untouchability

2. ✖ World cup

3. ✔ Racism

4. ✖ National sport of America

Question Number : 175 Question Id : 16794319156 Question Type : MCQ Option Shuffling : Yes Display Question Number : Yes  
Single Line Question Option : No Option Orientation : Vertical

Correct Marks : 1 Wrong Marks : 0.25



चित्रों को देखें और पहचानें कि ये चित्र किसके के बारे में बात कर रहे हैं?



Options :

1. ✖ अस्पृश्यता

2. ✖ विश्व कप

3. ✔ जातिवाद

4. ✖ अमेरिका का राष्ट्रीय खेल

Question Number : 176 Question Id : 16794319157 Question Type : MCQ Option Shuffling : Yes Display Question Number : Yes  
Single Line Question Option : No Option Orientation : Vertical

Correct Marks : 1 Wrong Marks : 0.25

\_\_\_\_\_ social differences create possibilities of deep social divisions and tensions. \_\_\_\_\_ social differences do not usually lead to conflicts.

Options :

1. ✔ Over lapping; Cross cutting

2. ✖ Cross cutting; Over lapping

3. ✖ Cultural; Ethical

4. ✖ Cultural; Moral

Question Number : 176 Question Id : 16794319157 Question Type : MCQ Option Shuffling : Yes Display Question Number : Yes  
Single Line Question Option : No Option Orientation : Vertical

Correct Marks : 1 Wrong Marks : 0.25

\_\_\_\_\_ सामाजिक भेदभाव गहरे सामाजिक विभाजन और तनाव की संभावनाएं पैदा करते हैं। \_\_\_\_\_ सामाजिक मतभेद आमतौर पर संघर्ष का कारण नहीं बनते हैं।

Options :



1. ✓ अतिव्यापन; क्रॉस कटिंग

2. ✗ क्रॉस कटिंग; अतिव्यापन

3. ✗ सांस्कृतिक; नैतिक

4. ✗ सांस्कृतिक; नैतिक

Question Number : 177 Question Id : 16794319158 Question Type : MCQ Option Shuffling : Yes Display Question Number : Yes  
Single Line Question Option : No Option Orientation : Vertical

Correct Marks : 1 Wrong Marks : 0.25

'I have a dream that my four little children will one day live in a Nation where they will not be judged by the colour of their skin but by the content of their character' - was quoted by one of these \_\_\_\_\_.

Options :

1. ✗ Martin Luther King Sr

2. ✓ Martin Luther King Jr

3. ✗ Mahatma Gandhi

4. ✗ B.R. Ambedkar

Question Number : 177 Question Id : 16794319158 Question Type : MCQ Option Shuffling : Yes Display Question Number : Yes  
Single Line Question Option : No Option Orientation : Vertical

Correct Marks : 1 Wrong Marks : 0.25

मेरा एक सपना है कि मेरे बच्चे एक दिन ऐसे देश में रहे जहाँ उनका मूल्यांकन उनकी त्वचा के रंग के आधार पर नहीं, बल्कि उनके चरित्र के परिमाण से किया जाये। यह किसका कथन है?

Options :

1. ✗ मार्टिन लूथर किंग सीनियर

2. ✓ मार्टिन लूथर किंग जूनियर

3. ✗ महात्मा गांधी

4. ✗ बी. आर अम्बेडकर

Question Number : 178 Question Id : 16794319159 Question Type : MCQ Option Shuffling : Yes Display Question Number : Yes  
Single Line Question Option : No Option Orientation : Vertical

Correct Marks : 1 Wrong Marks : 0.25

Identify the political parties based on their symbols.



Options :

1. ✖ TDP and TRS
2. ✖ DK and DMK
3. ✖ MDMK and TDMK
4. ✔ DMK and AIADMK

Question Number : 178 Question Id : 16794319159 Question Type : MCQ Option Shuffling : Yes Display Question Number : Yes  
Single Line Question Option : No Option Orientation : Vertical

Correct Marks : 1 Wrong Marks : 0.25

अपने प्रतीकों के आधार पर राजनीतिक दलों की पहचान करें।



Options :

1. ✖ टी. डी. पी. और टी. आर. एस.
2. ✖ डी. के. और डी. एम. के.
3. ✖ एम. डी. एम. के. और टी. डी. एम. के.

4. ✓ डी. एम. के. और ए. आई. ए. डी. एम. के.

Question Number : 179 Question Id : 16794319160 Question Type : MCQ Option Shuffling : Yes Display Question Number : Yes  
Single Line Question Option : No Option Orientation : Vertical

Correct Marks : 1 Wrong Marks : 0.25

Identify the states which have following Regional political parties.

Janata Dal (Secular): \_\_\_\_\_.

Revolutionary Socialist Party: \_\_\_\_\_.

Options :

1. ✗ Kerala; West Bengal

2. ✓ Karnataka; Kerala

3. ✗ Karnataka; West Bengal

4. ✗ Uttar Pradesh; Kerala

Question Number : 179 Question Id : 16794319160 Question Type : MCQ Option Shuffling : Yes Display Question Number : Yes  
Single Line Question Option : No Option Orientation : Vertical

Correct Marks : 1 Wrong Marks : 0.25

उन राज्यों की पहचान करें जिनमें निम्नलिखित क्षेत्रीय राजनीतिक दल हैं।

जनता दल (सेक्यूलर): \_\_\_\_\_।

रिवॉल्यूशनरी सोशलिस्ट पार्टी: \_\_\_\_\_।

Options :

1. ✗ केरल और पश्चिम बंगाल

2. ✓ कर्नाटक और केरल

3. ✗ कर्नाटक और पश्चिम बंगाल

4. ✗ उत्तरा प्रदेश और केरल

Question Number : 180 Question Id : 16794319161 Question Type : MCQ Option Shuffling : Yes Display Question Number : Yes  
Single Line Question Option : No Option Orientation : Vertical

Correct Marks : 1 Wrong Marks : 0.25

Identify the one-party country among these.

Options :

1. ✖ Pakistan

2. ✔ China

3. ✖ Taiwan

4. ✖ USA

Question Number : 180 Question Id : 16794319161 Question Type : MCQ Option Shuffling : Yes Display Question Number : Yes  
Single Line Question Option : No Option Orientation : Vertical

Correct Marks : 1 Wrong Marks : 0.25

इनमें से एक पार्टी वाले देश की पहचान करें।

Options :

1. ✖ पाकिस्तान

2. ✔ चीन

3. ✖ ताइवान

4. ✖ अमेरिका

#### Subject Related

Group Number :	10
Group Id :	167943723
Group Maximum Duration :	0
Group Minimum Duration :	120
Revisit allowed for view? :	No
Revisit allowed for edit? :	No
Break time:	0
Group Marks:	20
Revisit allowed for group Instructions? :	Yes
Maximum Instruction Time:	0
Minimum Instruction Time:	0

#### Subject Related

Section Id :	167943788
Section Number :	1
Section type :	Online
Mandatory or Optional:	Mandatory
Number of Questions:	20
Number of Questions to be attempted:	20
Section Marks:	20
Display Number Panel:	Yes

Group All Questions:

No

Sub-Section Number:

1

Sub-Section Id:

1679431217

Question Shuffling Allowed :

Yes

Question Number : 181 Question Id : 16794319162 Question Type : MCQ Option Shuffling : Yes Display Question Number : Yes  
Single Line Question Option : No Option Orientation : Vertical

Correct Marks : 1 Wrong Marks : 0.25

More than one representative may be elected from one constituency. Voter votes for the party is the PR system of which of these countries.

Options :

1. ✖ China

2. ✖ UK

3. ✔ Israel

4. ✖ USA

Question Number : 181 Question Id : 16794319162 Question Type : MCQ Option Shuffling : Yes Display Question Number : Yes  
Single Line Question Option : No Option Orientation : Vertical

Correct Marks : 1 Wrong Marks : 0.25

एक निर्वाचन क्षेत्र से एक से अधिक प्रतिनिधि चुने जा सकते हैं। पार्टी के लिए मतदाता वोट इनमें किन देशों की पी. आर. प्रणाली है।

Options :

1. ✖ चीन

2. ✖ ब्रिटेन

3. ✔ इजराइल

4. ✖ अमेरिका

Question Number : 182 Question Id : 16794319163 Question Type : MCQ Option Shuffling : Yes Display Question Number : Yes  
Single Line Question Option : No Option Orientation : Vertical

Correct Marks : 1 Wrong Marks : 0.25



What sort of challenge of democracy do you find here?

*Mubarak Re-elected*



Options :

1. ☒ Election was not conducted in a democratic way
2. ☐ Military power without election
3. ☐ Women were not given equal importance
4. ☐ Dictatorship without election

Question Number : 182 Question Id : 16794319163 Question Type : MCQ Option Shuffling : Yes Display Question Number : Yes  
Single Line Question Option : No Option Orientation : Vertical

Correct Marks : 1 Wrong Marks : 0.25

लोकतंत्र की किस प्रकार की चुनौती आपको यहां मिलती है?

*Mubarak Re-elected*



Options :

1. ✓ लोकतांत्रिक तरीके से चुनाव नहीं किया गया था
2. ✗ चुनाव के बिना सैन्य शक्ति
3. ✗ महिलाओं को समान महत्व नहीं दिया गया था
4. ✗ चुनाव के बिना तानाशाही

Question Number : 183 Question Id : 16794319164 Question Type : MCQ Option Shuffling : Yes Display Question Number : Yes  
Single Line Question Option : No Option Orientation : Vertical

Correct Marks : 1 Wrong Marks : 0.25

What was Bolivia's popular struggle famous for?

Options :

1. ✗ Electricity bill
2. ✓ Water bill
3. ✗ House rents
4. ✗ Hike on clothing

Question Number : 183 Question Id : 16794319164 Question Type : MCQ Option Shuffling : Yes Display Question Number : Yes  
Single Line Question Option : No Option Orientation : Vertical

Correct Marks : 1 Wrong Marks : 0.25

बोलीविया के लोकप्रिय संघर्ष के लिए प्रसिद्ध क्या था?

Options :

1. ✗ बिजली का बिल
2. ✓ पानी का बिल
3. ✗ घर का किराया
4. ✗ कपड़ों पर बढ़ोतरी

Question Number : 184 Question Id : 16794319165 Question Type : MCQ Option Shuffling : Yes Display Question Number : Yes  
Single Line Question Option : No Option Orientation : Vertical

Correct Marks : 1 Wrong Marks : 0.25

Identify the feature of Democracy.

The King of Bhutan has declared that in future he will be guided by the advice given to him by elected representatives.

Options :

1. ✖ Free and fair electoral process
2. ✖ Respect for rights
3. ✖ Rule of law
4. ✔ Decision making made through the decision of elected leaders

Question Number : 184 Question Id : 16794319165 Question Type : MCQ Option Shuffling : Yes Display Question Number : Yes  
Single Line Question Option : No Option Orientation : Vertical

Correct Marks : 1 Wrong Marks : 0.25

लोकतंत्र की सुविधा की पहचान करें।

भूटान के राजा ने घोषणा की है कि भविष्य में उन्हें निर्वाचित प्रतिनिधियों द्वारा दी गई सलाह से निर्देशित किया जाएगा।


Options :

1. ✖ स्वतंत्र और निष्पक्ष चुनावी प्रक्रिया
2. ✖ अधिकारों का सम्मान
3. ✖ विधि का नियम
4. ✔ निर्वाचित नेताओं के निर्णय के माध्यम से निर्णय लेना

Question Number : 185 Question Id : 16794319166 Question Type : MCQ Option Shuffling : Yes Display Question Number : Yes  
Single Line Question Option : No Option Orientation : Vertical

Correct Marks : 1 Wrong Marks : 0.25

Which country is this cartoon referring to?




Options :

1. ✓ China
2. ✗ Japan
3. ✗ India
4. ✗ Pakistan

Question Number : 185 Question Id : 16794319166 Question Type : MCQ Option Shuffling : Yes Display Question Number : Yes  
Single Line Question Option : No Option Orientation : Vertical

Correct Marks : 1 Wrong Marks : 0.25

यह कार्टून किस देश से संबंधित है?



Options :

1. ✓ चीन
2. ✗ जापान
3. ✗ भारत
4. ✗ पाकिस्तान

Question Number : 186 Question Id : 16794319167 Question Type : MCQ Option Shuffling : Yes Display Question Number : Yes  
Single Line Question Option : No Option Orientation : Vertical

Correct Marks : 1 Wrong Marks : 0.25

Identify from the given options.

‘The independence of India should mean the independence of the whole of India...Independence must begin at the bottom. Thus every village will be a republic’ - was quoted by \_\_\_\_\_.

Options :



1. ✓ Mahatma Gandhi
2. ✗ Jawaharlal Nehru
3. ✗ Subash Chandra Bose
4. ✗ B.R. Ambedkar

Question Number : 186 Question Id : 16794319167 Question Type : MCQ Option Shuffling : Yes Display Question Number : Yes  
Single Line Question Option : No Option Orientation : Vertical

Correct Marks : 1 Wrong Marks : 0.25

दिए गए विकल्पों से पहचान करें।

'भारत की आजादी का मतलब पूरे भारत की आजादी होना चाहिए ... स्वतंत्रता वास्तव में नीचले तबके से शुरू होनी चाहिए। इस प्रकार प्रत्येक गांव एक गणतंत्र होगा।' - यह किसका उद्धरण है।

Options :

1. ✓ महात्मा गांधी
2. ✗ जवाहर लाल नेहरू
3. ✗ सुभाष चंद्र बोस
4. ✗ बी. आर. अम्बेडकर

Question Number : 187 Question Id : 16794319168 Question Type : MCQ Option Shuffling : Yes Display Question Number : Yes  
Single Line Question Option : No Option Orientation : Vertical

Correct Marks : 1 Wrong Marks : 0.25

\_\_\_\_\_ is frequently cited as one of the most successful cases of democratic decentralisation in Latin America.

Options :

1. ✗ Mexico
2. ✗ Costa Rica
3. ✗ Panama
4. ✓ Bolivia

Question Number : 187 Question Id : 16794319168 Question Type : MCQ Option Shuffling : Yes Display Question Number : Yes  
Single Line Question Option : No Option Orientation : Vertical

Correct Marks : 1 Wrong Marks : 0.25



\_\_\_\_\_ को अक्सर लैटिन अमेरिका में लोकतांत्रिक विकेन्द्रीकरण के सबसे सफल मामलों में से एक के रूप में उल्लेखित किया जाता है।

Options :

1. ✖ मेक्सिको
2. ✖ कोस्टारिका
3. ✖ पनामा
4. ✔ बोलीविया

Question Number : 188 Question Id : 16794319169 Question Type : MCQ Option Shuffling : Yes Display Question Number : Yes  
Single Line Question Option : No Option Orientation : Vertical

Correct Marks : 1 Wrong Marks : 0.25

Any individual, whose fundamental right has been violated, can directly move the Supreme Court for remedy and the Supreme Court can give special orders in the form of \_\_\_\_\_.

Options :

1. ✔ Writs
2. ✖ Appellate
3. ✖ Advisory
4. ✖ Government Order

Question Number : 188 Question Id : 16794319169 Question Type : MCQ Option Shuffling : Yes Display Question Number : Yes  
Single Line Question Option : No Option Orientation : Vertical

Correct Marks : 1 Wrong Marks : 0.25

कोई भी व्यक्ति, जिसके मौलिक अधिकार का उल्लंघन किया गया है, सीधे सर्वोच्च न्यायालय जा सकता है और सर्वोच्च न्यायालय \_\_\_\_\_ के रूप में विशेष आदेश दे सकता है।

Options :

1. ✔ याचिका
2. ✖ अपीलीय
3. ✖ सलाहकार
4. ✖ सरकारी आदेश

Question Number : 189 Question Id : 16794319170 Question Type : MCQ Option Shuffling : Yes Display Question Number : Yes  
Single Line Question Option : No Option Orientation : Vertical

Correct Marks : 1 Wrong Marks : 0.25

Identify the fundamental right from the given statement.

‘The Constitution states that all minorities, religious or linguistic, can set up their own educational institutions in order to preserve and develop their own culture’ \_\_\_\_\_.

Options :

1. ✖ Freedom of speech
2. ✔ Cultural and educational rights
3. ✖ Right to freedom
4. ✖ Right to freedom of religion

Question Number : 189 Question Id : 16794319170 Question Type : MCQ Option Shuffling : Yes Display Question Number : Yes  
Single Line Question Option : No Option Orientation : Vertical

Correct Marks : 1 Wrong Marks : 0.25

दिए गए कथन से मौलिक अधिकार की पहचान करें।

‘संविधान में कहा गया है कि सभी अल्पसंख्यक, धार्मिक या भाषाई अपनी संस्कृति को संरक्षित और विकसित करने के लिए अपने स्वयं के शैक्षिक संस्थान स्थापित कर सकते हैं।’

Options :

1. ✖ अभिव्यक्ति की स्वतंत्रता
2. ✔ सांस्कृतिक और शैक्षिक अधिकार
3. ✖ स्वतंत्रता का अधिकार
4. ✖ धर्म की स्वतंत्रता का अधिकार

Question Number : 190 Question Id : 16794319171 Question Type : MCQ Option Shuffling : Yes Display Question Number : Yes  
Single Line Question Option : No Option Orientation : Vertical

Correct Marks : 1 Wrong Marks : 0.25

Who was the King of Nepal during the people’s movement for democracy?

Options :

1. ✖ Sumantra
2. ✖ Rajendra
3. ✔ Gyanendra

4. ✖ Gyanaprakasa

Question Number : 190 Question Id : 16794319171 Question Type : MCQ Option Shuffling : Yes Display Question Number : Yes  
Single Line Question Option : No Option Orientation : Vertical

Correct Marks : 1 Wrong Marks : 0.25

नेपाल में लोकतंत्र के लिए जन आंदोलन के दौरान, नरेश कौन थे?

Options :

- 1. ✖ सुमंत्र
- 2. ✖ राजेंद्र
- 3. ✔ ज्ञानेंद्र
- 4. ✖ ज्ञानप्रकाश

Sub-Section Number: 2  
Sub-Section Id: 1679431218  
Question Shuffling Allowed : Yes

Question Number : 191 Question Id : 16794319172 Question Type : MCQ Option Shuffling : Yes Display Question Number : Yes  
Single Line Question Option : No Option Orientation : Vertical

Correct Marks : 1 Wrong Marks : 0.25

Appropriate behaviour and correct response can be increased:

Options :

- 1. ✖ by giving rewards
- 2. ✔ By praising
- 3. ✖ By ignorance
- 4. ✖ By practice

Question Number : 191 Question Id : 16794319172 Question Type : MCQ Option Shuffling : Yes Display Question Number : Yes  
Single Line Question Option : No Option Orientation : Vertical

Correct Marks : 1 Wrong Marks : 0.25

उचित व्यवहार और सही प्रतिक्रिया को \_\_\_\_\_ द्वारा बढ़ाया जा सकता है।

Options :

- 1. ✖ पुरस्कार

2. ✓ प्रशंसा

3. ✗ अज्ञानता

4. ✗ अभ्यास

Question Number : 192 Question Id : 16794319173 Question Type : MCQ Option Shuffling : Yes Display Question Number : Yes  
Single Line Question Option : No Option Orientation : Vertical

Correct Marks : 1 Wrong Marks : 0.25

Fearing of authority and trying to avoid punishment comes under:

Options :

1. ✗ Cognitive development

2. ✓ Moral development

3. ✗ Physical development

4. ✗ Psychomotor skills

Question Number : 192 Question Id : 16794319173 Question Type : MCQ Option Shuffling : Yes Display Question Number : Yes  
Single Line Question Option : No Option Orientation : Vertical

Correct Marks : 1 Wrong Marks : 0.25

अधिकार से डरना और दंड से बचने की कोशिश करना \_\_\_\_ का भाग है।

Options :

1. ✗ संज्ञानात्मक विकास

2. ✓ नैतिक विकास

3. ✗ शारीरिक विकास

4. ✗ मनोविज्ञान कौशल

Question Number : 193 Question Id : 16794319174 Question Type : MCQ Option Shuffling : Yes Display Question Number : Yes  
Single Line Question Option : No Option Orientation : Vertical

Correct Marks : 1 Wrong Marks : 0.25

Formative assessment is carried out:

Options :

1. ✓ throughout the year

- 2. ✖ in the initial days of learning
- 3. ✖ in the last days of a year
- 4. ✖ prior to starting of classes

Question Number : 193 Question Id : 16794319174 Question Type : MCQ Option Shuffling : Yes Display Question Number : Yes  
Single Line Question Option : No Option Orientation : Vertical  
Correct Marks : 1 Wrong Marks : 0.25

फॉर्मेटिव मूल्यांकन \_\_\_\_\_ किया जाता है।

Options :

- 1. ✔ पूरे वर्ष
- 2. ✖ शिक्षा के प्रारंभिक दिनों में
- 3. ✖ वर्ष के अंतिम दिनों में
- 4. ✖ कक्षा आरंभ करने के पूर्व

Question Number : 194 Question Id : 16794319175 Question Type : MCQ Option Shuffling : Yes Display Question Number : Yes  
Single Line Question Option : No Option Orientation : Vertical  
Correct Marks : 1 Wrong Marks : 0.25

Science fundamentally requires:

Options :

- 1. ✔ A set of systematic rules of procedure
- 2. ✖ A very good teacher
- 3. ✖ A very good learner
- 4. ✖ A qualitative approach to learn

Question Number : 194 Question Id : 16794319175 Question Type : MCQ Option Shuffling : Yes Display Question Number : Yes  
Single Line Question Option : No Option Orientation : Vertical  
Correct Marks : 1 Wrong Marks : 0.25

विज्ञान को मूल रूप से \_\_\_\_\_ आवश्यकता होती है।

Options :

- 1. ✔ प्रक्रिया के व्यवस्थित नियमों के एक सेट की



2. ✖ एक बहुत अच्छे शिक्षक की
3. ✖ एक बहुत अच्छे शिक्षार्थी की
4. ✖ सीखने के लिए एक गुणात्मक दृष्टिकोण की

Question Number : 195 Question Id : 16794319176 Question Type : MCQ Option Shuffling : Yes Display Question Number : Yes  
Single Line Question Option : No Option Orientation : Vertical

Correct Marks : 1 Wrong Marks : 0.25

“In modern India girls tend to leave school more than boys” at the school level of:

Options :

1. ✖ Early education
2. ✔ Second level of education
3. ✖ Higher education
4. ✖ At all levels

Question Number : 195 Question Id : 16794319176 Question Type : MCQ Option Shuffling : Yes Display Question Number : Yes  
Single Line Question Option : No Option Orientation : Vertical

Correct Marks : 1 Wrong Marks : 0.25

"आधुनिक भारत में लड़कियों को विद्यालय के स्तर पर लड़कों से ज्यादा स्कूल छोड़ना पड़ता है"- यह किस स्तर पर होता है?

Options :

1. ✖ प्रारंभिक शिक्षा
2. ✔ शिक्षा का दूसरा स्तर
3. ✖ उच्च शिक्षा
4. ✖ सभी स्तरों पर

Question Number : 196 Question Id : 16794319177 Question Type : MCQ Option Shuffling : Yes Display Question Number : Yes  
Single Line Question Option : No Option Orientation : Vertical

Correct Marks : 1 Wrong Marks : 0.25

Strategic competence and adoptive reasoning are the strands for:

Options :

1. ✓ Mathematical proficiency

2. ✗ Scientific education

3. ✗ General knowledge

4. ✗ Social sciences

Question Number : 196 Question Id : 16794319177 Question Type : MCQ Option Shuffling : Yes Display Question Number : Yes  
Single Line Question Option : No Option Orientation : Vertical

Correct Marks : 1 Wrong Marks : 0.25

सामरिक क्षमता और दत्तक तर्क इस के लिए हैं:

Options :

1. ✓ गणितीय प्रवीणता

2. ✗ वैज्ञानिक शिक्षा

3. ✗ सामान्य ज्ञान

4. ✗ सामाजिक विज्ञान

Question Number : 197 Question Id : 16794319178 Question Type : MCQ Option Shuffling : Yes Display Question Number : Yes  
Single Line Question Option : No Option Orientation : Vertical

Correct Marks : 1 Wrong Marks : 0.25

“Complex cognitive process” of decoding symbols is called:

Options :

1. ✓ Reading

2. ✗ Writing

3. ✗ Art education

4. ✗ Comprehensive skills

Question Number : 197 Question Id : 16794319178 Question Type : MCQ Option Shuffling : Yes Display Question Number : Yes  
Single Line Question Option : No Option Orientation : Vertical

Correct Marks : 1 Wrong Marks : 0.25

डिकोडिंग प्रतीकों के "जटिल संज्ञानात्मक प्रक्रिया" को कहा जाता है:

Options :

1. ☒ पढ़ना
2. ☐ लेखन
3. ☐ कला शिक्षा
4. ☐ व्यापक कौशल

Question Number : 198 Question Id : 16794319179 Question Type : MCQ Option Shuffling : Yes Display Question Number : Yes  
Single Line Question Option : No Option Orientation : Vertical

Correct Marks : 1 Wrong Marks : 0.25

Instructors becomes facilitators of creative learning in which of the below scenarios?

Options :

1. ☒ Integrating arts
2. ☐ When facilities are required in class
3. ☐ Self-learning environment
4. ☐ Classroom learning

Question Number : 198 Question Id : 16794319179 Question Type : MCQ Option Shuffling : Yes Display Question Number : Yes  
Single Line Question Option : No Option Orientation : Vertical

Correct Marks : 1 Wrong Marks : 0.25

प्रशिक्षु नीचे के किस परिदृश्य में रचनात्मक शिक्षा के सुविधाकार बन जाते हैं?

Options :

1. ☒ कला को एकीकृत करना
2. ☐ जब कक्षा में सुविधाओं की आवश्यकता होती है
3. ☐ आत्म-शिक्षण पर्यावरण
4. ☐ कक्षा शिक्षा

Question Number : 199 Question Id : 16794319180 Question Type : MCQ Option Shuffling : Yes Display Question Number : Yes  
Single Line Question Option : No Option Orientation : Vertical

Correct Marks : 1 Wrong Marks : 0.25

Which is the modern form of learning from the below?

Options :

1. ✖ Traditional learning
2. ✔ Self-learning
3. ✖ Instructional learning
4. ✖ Classroom learning

Question Number : 199 Question Id : 16794319180 Question Type : MCQ Option Shuffling : Yes Display Question Number : Yes  
Single Line Question Option : No Option Orientation : Vertical

Correct Marks : 1 Wrong Marks : 0.25

निम्न में से सीखने का आधुनिक रूप कौन सा है?

Options :

1. ✖ पारंपरिक सीखना
2. ✔ स्वयं सीखना
3. ✖ निर्देशक शिक्षा
4. ✖ कक्षा शिक्षा

Question Number : 200 Question Id : 16794319181 Question Type : MCQ Option Shuffling : Yes Display Question Number : Yes  
Single Line Question Option : No Option Orientation : Vertical

Correct Marks : 1 Wrong Marks : 0.25

The concept of inclusive education is that:

Options :

1. ✔ Every child in society should be valued equally
2. ✖ A special child must be included in every child
3. ✖ Only special children should be educated in schools
4. ✖ All students must respect a special child

Question Number : 200 Question Id : 16794319181 Question Type : MCQ Option Shuffling : Yes Display Question Number : Yes  
Single Line Question Option : No Option Orientation : Vertical

Correct Marks : 1 Wrong Marks : 0.25

समावेशी शिक्षा की अवधारणा है:

Options :

1. ✓ समाज के हर बच्चे को समान मूल्यवान माना जाना चाहिए
2. ✗ विशेष बच्चे को हर बच्चे में शामिल किया जाना चाहिए
3. ✗ केवल उन बच्चों में विशेष बच्चों को शिक्षित किया जाना चाहिए
4. ✗ सभी छात्रों को विशेष बच्चे का सम्मान करना चाहिए